



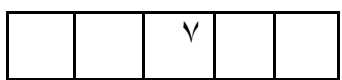
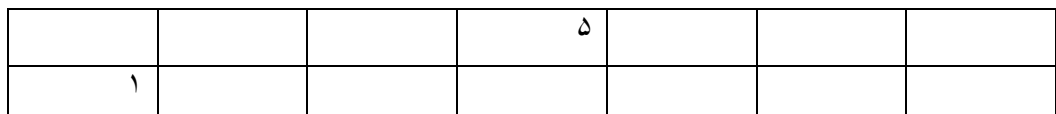



به نام خدا	نام و نام خانوادگی:	درس: ریاضی	پایه اول دبستان	خرداد
سوالات				
۱	سیب سمت چپ را ضربدر بزنیید.		.۵/	
۲	یک گردی در خارج خط بسته بکش.		.۵/	
۳	شکلی که مثل بقیه نیست خط بزنی.		.۵/	
۴	دور اعداد مناسب خط بکش.	$\begin{array}{ccc} \text{3 green apples} & + & \text{3 red apples} \\ ۳ & & ۳ = \end{array}$ $\begin{array}{ccc} \text{4 red hearts} & + & \text{5 red hearts} \\ ۴ & & ۵ = \end{array}$ $\begin{array}{ccc} \text{3 red apples} & + & \text{2 red apples} \\ ۳ & & ۲ = \end{array}$	۱	
۵	بین دو عدد یکی از علامتهای $<$ $=$ $>$ را که مناسب است بگذار.	$۷ \square ۳$ $۸ \square ۴$ $۱ \square ۰$ $۹ \square ۹$	۲	
۶	خط راست را پر رنگ کن.		۱	
۷	اعداد قبل و بعد عدد نوشته شده را بنویس.		۱	
۸	جمع و تفریق کن.	$۲+۵=$ $۷+۰=$ $۸-۲=$ $۴-۳=$ $۱۰-۵=$ $۳+۶=$	۳	
۹	در جدول و جاهای خالی عدد مناسب بنویس.		۲	

در خانه های خالی عدد مناسب را بنویس



○ ○

خانه های خالی را به طور مناسب پر کن

۱				۵					۱۰
		سه			شش		هشت		

۱۳

- ۶ سیب در بشقاب بود.

- ۲ تا از آن ها را برداشتیم .

- چند سیب در بشقاب مانده است؟

..... سیب در بشقاب مانده است.

۱۴

زهره دیروز ۴ صفحه از کتابش را خواند.

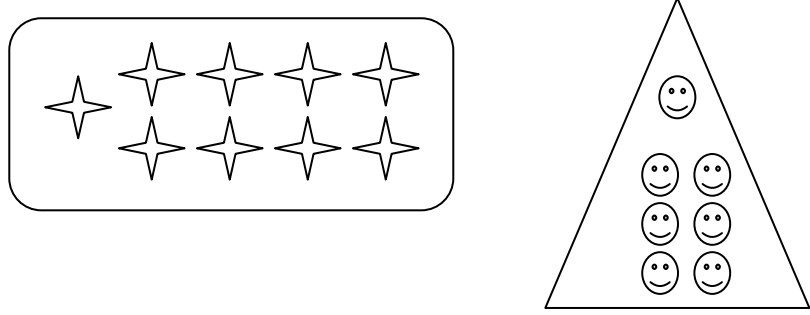
امروز هم ۳ صفحه ی دیگر از همان کتاب را خواند.

زهره دیروز و امروز چند صفحه از کتابش را خوانده است.

..... صفحه از کتابش را خوانده است.

۱۵


در هر قسمت خط های لازم را بکش و در جاهای خالی عدد مناسب را بنویس






۹ >

۱۶

تفریق های زیر را انجام بده



$۴ - ۱ =$ $۶ - ۳ =$

۱۷	بین دو عدد یکی از علامتهای < = > را که مناسب است بگذار. ۹ ۷ ۷ ۳ ۸ ۸ ۹ ۵ ۴ ۲	
۱۸	دسته ی ۷ تایی و ۵ تایی و ۳ تایی   	
۱۹	تفریق زیر را انجام بده $۹ - ۲ =$ $۷ - ۳ =$ $۱۰ - ۹ =$ $۶ - ۴ =$	
۲۰	جمع زیر را انجام بده $۲ + ۰ =$ $۳ + ۴ =$ $۱ + ۸ =$ $۷ + ۳ =$	