
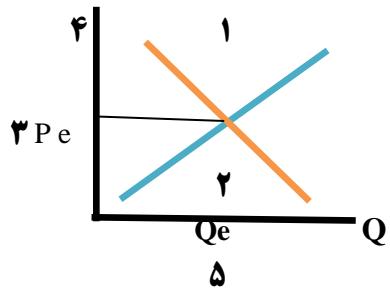
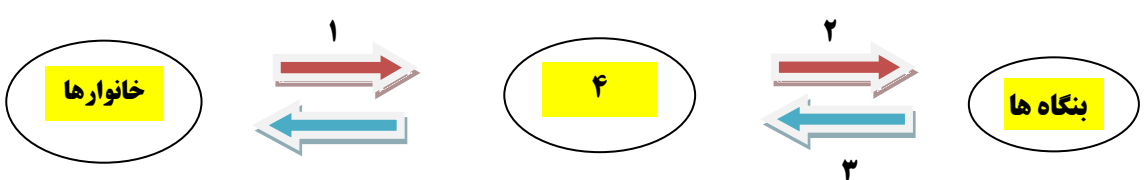


ردیف	<p style="text-align: center;">آزمون تستی اقتصاد پایه دهم علوم انسانی (درس پنجم) طراحی و ویرایش: توسلی منطقه فریدن – استان اصفهان مهرماه سال ۱۴۰۱</p>
۱	<p>* دستمزد یا حقوق به کدام یک از موارد زیر مرتبط است؟ الف - دریافتی بنگاه ها بابت استخدام نیروی کار خانوارها ب - دریافتی خانوارها بابت فروش نیروی کار به بنگاه ها ج - پرداختی بنگاه ها بابت به خدمت گرفتن نیروی کار د - گزینه ب و ج صحیح است.</p>
۲	<p>* در نمودار زیر پیکان های شماره ۱ - ۲ - ۳ - ۴ به ترتیب کدام است؟</p>  <p>الف - در آمد خانوارها - پرداخت های عوامل تولید - منابع - منابع ب - پرداخت های عوامل تولید - در آمد خانوارها - منابع - منابع ج - منابع - پرداخت های عوامل تولید - در آمد خانوارها - در آمد بنگاه ها د - منابع - در آمد خانوارها - در آمد بنگاه ها - منابع</p>
۳	<p>* در بنگاه همان چیزی است که مردم معمولاً آن را به عنوان یک می شناسند. الف - اقتصاد - مرکز تولید ب - بازار - کسب و کار ج - اقتصاد - کسب و کار د - بازار - مرکز تولید</p>
۴	<p>* در رابطه با تقاضا کدام گزینه نادرست است؟ الف - نمودار تقاضا حالت نزولی دارد. ب - مقدار تقاضا از یک کالا با قیمت آن رابطه معکوس دارد. ج - خریداران ، خانوارهای تقاضا کننده کالا ها و خدمات اند. د - خریداران نسبت به مشاهده تغییر شرایط بازار تصمیمات یکسان و برابری می گیرند.</p>
۵	<p>* با افزایش در آمد ممکن است کدام یک از موارد زیر اتفاق بیافتد؟ الف - خرید کالاهای معمولی و پست کمتر می شود. ب - خرید کالاهای مرغوب و با کیفیت بیشتر می شود. ج - خرید ما از همه انواع کالاها می تواند بیشتر شود. د - همه موارد</p>
۶	<p>* در محور مختصات عرضه و تقاضا کدام یک از موارد زیر با علامت D نشان داده می شود؟ الف - منحنی عرضه ب - منحنی تقاضا ج - مقدار تقاضا د - قیمت کالا</p>
۷	<p>* S در محور مختصات عرضه و تقاضا علامت اختصاری لاتین کدام یک از عبارات زیر است؟ الف - منحنی عرضه ب - منحنی تقاضا ج - قیمت کالا د - مقدار کالا</p>
۸	<p>* در کدام گزینه به دو بازیگر اصلی اقتصاد اشاره شده است؟ الف) تولیدکننده و عرضه کننده ب) دولت و خانوار ج) خانوارها و بنگاهها د) تقاضاکننده و خریدار</p>

<p>* در محور مختصات زیر موارد خواسته شده (۱ و ۲ و ۳ و ۴ و ۵) به ترتیب در کدام گزینه آمده است؟</p> 	<p>۹</p> <p>(الف) - کمبود عرضه - کمبود تقاضا - مقدار تعادلی - قیمت تعادلی - قیمت (ب) - مازاد عرضه - مازاد تقاضا - قیمت تعادلی - قیمت - مقدار تعادلی (ج) - مازاد عرضه - مازاد تقاضا - مقدار تعادلی - قیمت - قیمت تعادلی (د) - کمبود عرضه - کمبود تقاضا - قیمت تعادلی - مقدار - مقدار تعادلی</p>
<p>* کدام عبارت درست است؟</p> <p>(الف) - ابداعات و اختراعات معمولاً با کاهش هزینه‌ها اثر مثبتی بر مقدار مصرف و تقاضا دارند. (ب) - اگر مقدار تقاضای کالایی از مقدار عرضه آن کمتر باشد در بازار کمبود رخ می‌دهد. (ج) - وضعیت انحصار به دلایل طبیعی، اقتصادی، قانونی و یا حتی غیر قانونی رخ می‌دهد. (د) شرکت توانیر به دلایل قانونی و شرکت‌های خودرو سازی به دلایل طبیعی انحصارگر در فروش کالاها و محصولات خود به شمار می‌روند.</p>	<p>۱۰</p>
<p>* کدام عبارت <u>نادرست</u> است؟</p> <p>(الف) - انحصار طبیعی و قانونی مشروط به مواظبت و قانون گذاری صحیح می‌تواند برای تولیدکنندگان سودمند باشد. (ب) - در بازار انحصاری انحصارگر قیمت گذار و خریداران قیمت پذیرند. (ج) - فروشندگان آثار هنری در نمایشگاه‌ها، مزایده و خریداران عمده کالاها و خدمات مناقصه برگزار می‌کنند. (د) - در بازار رقابتی هیچ یک از طرفین به تنهایی قیمت گذار نیستند.</p>	<p>۱۱</p>
<p>* در نمودار زیر پیکان‌های شماره ۱-۲-۳-۴ به ترتیب کدام است؟</p>  <p>(الف) - خرید - پرداخت عوامل تولید - کالاها و خدمات - بازار محصولات (ب) - خرید - در آمد بنگاه‌ها - کالاها و خدمات - بازار محصولات (ج) - منابع - در آمد بنگاه‌ها - عوامل تولید - بازار عوامل تولید (د) - خرید - در آمد بنگاه - کالاها و خدمات - بازار عوامل تولید</p>	<p>۱۲</p>
<p>* در رابطه با قانون عرضه کدام گزینه درست است؟</p> <p>(الف) عرضه و تقاضا جانشین یکدیگر هستند. (ب) با افزایش قیمت، مقدار عرضه از هر کالا کاهش می‌یابد. (ج) با افزایش قیمت، مقدار عرضه از هر کالا افزایش می‌یابد. (د) عرضه و تقاضا مکمل یکدیگر هستند.</p>	<p>۱۳</p>
<p>* مبادلات در بازار به چه اشکالی صورت می‌گیرد؟</p> <p>(الف) حضوری و حقیقی (ب) حضوری و مجازی (ج) مجازی و حقوقی (د) مجازی و اینترنتی</p>	<p>۱۴</p>

۱۵	* نزولی بودن منحنی تقاضا به این معناست که با مقدار تقاضا یافته و در مقابل با مقدار تقاضا می یابد. الف) ثبات قیمت - افزایش - کاهش قیمت - کاهش ب) افزایش قیمت - کاهش - کاهش قیمت - افزایش ج) کاهش قیمت - کاهش - افزایش قیمت - افزایش د) افزایش قیمت - افزایش - کاهش قیمت - کاهش																																																
۱۶	* قیمت و مقدار کالا و خدمات را چه کسانی و چگونه تعیین می کنند؟ الف) بنگاههای خدماتی و تولیدی، از طریق بده - بستان ب) خانوارها و بنگاهها، از طریق بده - بستان ج) خانوارها و بنگاهها، از طریق سیاست پولی و مالی د) بنگاههای خدماتی و تولیدی، از طریق سیاست پولی و مالی																																																
۱۷	* خانوارها در دو حالت در اقتصاد مشارکت میکنند، کدام گزینه نشان دهنده این دو حالت است؟ الف) خانوارها با خرید کالاها و خدمات و یا با خرید عوامل و نهادهای تولید مشارکت می کنند. ب) خانوارها کالاها و خدمات موردنیاز را از کسب و کارها خریداری می کنند. از طرف دیگر، زمین، نیروی کار، سرمایه و کارآفرینی را برای تولید در اقتصاد کالاها و خدمات ارائه می کنند. ج) خانوارها نیروی کار و کارآفرین ارائه می کنند. خانوارها کالا و خدمات تولیدشده را مصرف می کنند. د) خانوارها سرمایه و منابع را تهیه می کنند. خانوارها تکنولوژی و ابداعات و نوآوری دارند.																																																
۱۸	* رابطه در آمد با مقدار تقاضا و مقدار عرضه به ترتیب چگونه است؟ الف) مستقیم - معکوس ب) مستقیم - مستقیم ج) معکوس - مستقیم د) معکوس - معکوس																																																
۱۹	* کدام گزینه نشان دهنده کالاهای مکمل و جانشین است؟ الف) قند و چای جانشین - کره و عسل مکمل ب) قند و چای جانشین - گوشت قرمز و مرغ مکمل ج) قند و چای مکمل - بنزین و ماشین جانشین د) قند و چای مکمل - گوشت قرمز و مرغ جانشین																																																
۲۰	* کدام گزینه در رابطه با بازار نادرست است؟ الف) وجود مجموعه ای از خریداران (تقاضاکنندگان یا همان خانوارها) ب) وجود مجموعه ای از فروشندگان (عرضه کنندگان یا همان بنگاهها) ج) بازار در هر جایی شکل می گیرد. د) در بازار فقط بعضی از کالاها و خدمات خرید و فروش می شود.																																																
پاسخنامه																																																	
	<table border="1"> <thead> <tr> <th>سوال</th> <th>پاسخ</th> <th>سوال</th> <th>پاسخ</th> <th>سوال</th> <th>پاسخ</th> </tr> </thead> <tbody> <tr> <td>۱</td> <td>د</td> <td>۸</td> <td>ج</td> <td>۱۵</td> <td>ب</td> </tr> <tr> <td>۲</td> <td>الف</td> <td>۹</td> <td>ب</td> <td>۱۶</td> <td>الف</td> </tr> <tr> <td>۳</td> <td>ج</td> <td>۱۰</td> <td>ج</td> <td>۱۷</td> <td>ب</td> </tr> <tr> <td>۴</td> <td>د</td> <td>۱۱</td> <td>د</td> <td>۱۸</td> <td>ج</td> </tr> <tr> <td>۵</td> <td>د</td> <td>۱۲</td> <td>ب</td> <td>۱۹</td> <td>د</td> </tr> <tr> <td>۶</td> <td>ب</td> <td>۱۳</td> <td>ج</td> <td>۲۰</td> <td>د</td> </tr> <tr> <td>۷</td> <td>الف</td> <td>۱۴</td> <td>ب</td> <td>***</td> <td>***</td> </tr> </tbody> </table>	سوال	پاسخ	سوال	پاسخ	سوال	پاسخ	۱	د	۸	ج	۱۵	ب	۲	الف	۹	ب	۱۶	الف	۳	ج	۱۰	ج	۱۷	ب	۴	د	۱۱	د	۱۸	ج	۵	د	۱۲	ب	۱۹	د	۶	ب	۱۳	ج	۲۰	د	۷	الف	۱۴	ب	***	***
سوال	پاسخ	سوال	پاسخ	سوال	پاسخ																																												
۱	د	۸	ج	۱۵	ب																																												
۲	الف	۹	ب	۱۶	الف																																												
۳	ج	۱۰	ج	۱۷	ب																																												
۴	د	۱۱	د	۱۸	ج																																												
۵	د	۱۲	ب	۱۹	د																																												
۶	ب	۱۳	ج	۲۰	د																																												
۷	الف	۱۴	ب	***	***																																												