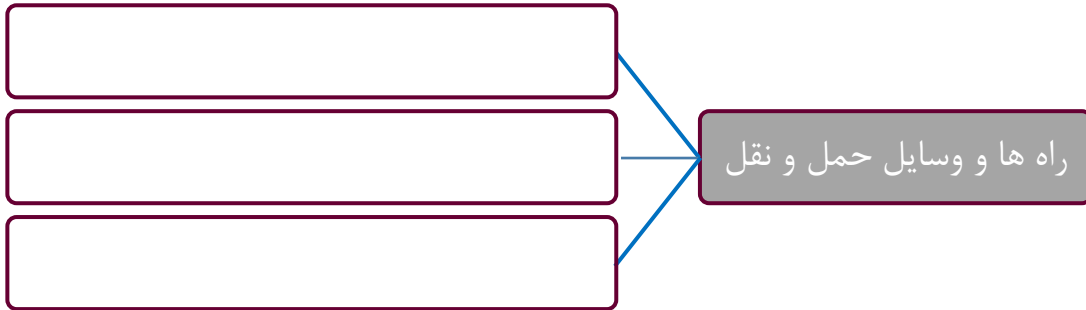


۱- نمودار را کامل کن.



۲- يك متن بنویس که در آن از واژه های زیر استفاده شده باشد.

نیاز - بازرگانی - صادرات - واردات - کالا - کشور

۳- گزینه ی درست را مشخص کن.

کدام یک از وسایل حمل و نقل گذشته است؟

- الف. مینی بوس  ب. اتوبوس  پ. درشکه  ت. دوچرخه


کدام مورد نقش مهمی در رفع نیازهای ما دارد؟

- الف. صادرات  ب. واردات  پ. راه ها  ت. کالاها

کدام محصول در استان گیلان تولید می شود؟

- الف. پسته  ب. زعفران  پ. برنج  ت. خرما

۴- با توجه به تصویر، این کارخانه برای چه کارهایی به راه ها و وسایل حمل و نقل نیاز دارد؟



- الف. برای رساندن موادّ اولیه به کارخانه

- ب. برای خارج کردن زباله از کارخانه

- پ. برای رفت و آمد کارگران به کارخانه

- ت. برای رساندن کالا به فروشگاه ها

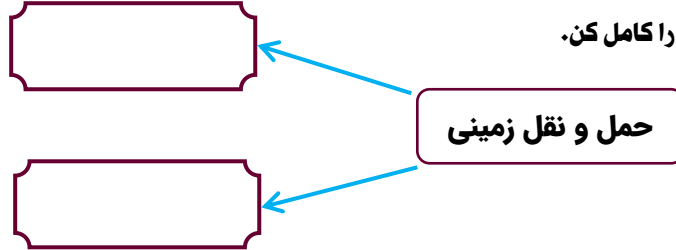
۵- جاهای خالی را با کلمه های مناسب پر کن.

به خرید و فروش کالا در داخل کشور یا کشورهای دیگر ..... می گویند.

برای جابه جایی مردم و کالاها از مکانی به مکان دیگر ..... لازم است.

در ..... خطر تصادف دو خودرو از روبه رو کم تر است.

۶- نمودار را کامل کن.



۷- هر عبارت را به کلمه ی مربوط به خودش وصل کن.

آزاد راه

راه اصلی

مشهد - بیرجند

کرج - قزوین

تهران - قم

اصفهان - شیراز

ساری - گرگان

۸- دو مورد از نکات ایمنی در سفرهای جاده ای را بنویس.

.....

۹- چرا در آزاد راه خطر تصادف از روبه رو کم تر است؟

۱۰- دلیل استفاده ی مردم از مترو را در سفرهای شهری بنویس.

.....

۱۱- اگر در روستایی زندگی کنی که به دلیل ریزش برف و باران جاده بسته شود، چه مشکلاتی پیش می آید؟ ۳ مورد آن را

بنویس.

.....

.....

**جدول زیر را حل کن.**

۱- از راه های جاده ای که مسیر رفت و برگشت با مانع هایی از هم جدا شده اند.

۲- یکی از راه های حمل و نقل است.

۳- به خرید و فروش کالا می گویند.

۴- قطار شهری.

۵- امروزه ..... برای جابه جا شدن از وسایل مختلف استفاده می کنند.

