

به نام خدا

نام و نام خانوادگی:

استان کرمان شهرستان رفسنجان

آموزشگاه: دخترانه شهید پور جندقی

پایه: چهارم ابتدایی

آزمون مطالعات اجتماعی ترم دوم سال تحصیلی ۱۴۰۱-۱۴۰۲

نام دبیر: مهدیه رشیدی پور

الف) گزینه صحیح را انتخاب کنید.

۱- به پولی که برای خرید وسایل مورد نیاز هزینه می کنیم، چه گفته می شود؟

الف) بودجه ب) پس انداز ج) هزینه د) درآمد

۲- تعداد روزهای کدام ماه با بقیه متفاوت است؟

الف) فروردین ب) بهمن ج) دی د) آبان

۳- فرمانروایان برای برقراری نظم در سرزمین خود چه چیزی را به وجود آوردند؟

الف) قوانین و مقررات ب) آثار هنری ج) تقسیم کار د) خط

۴- کدام پادشاه ساسانی، نامه دعوت پیامبر به دین اسلام را نپذیرفت؟

الف) دیاگو ب) خسرو پرویز ج) خسرو انوشیروان د) داریوش

ب) جاهای خالی را با کلمه مناسب پر کنید.

۱- نوک عقربه رنگی قطب نما همیشه به سمت است.

۲- پایتخت تابستانی هخامنشیان، شهر بوده است.

۳- عید نوروز، علاوه بر ایران، در کشورهای و تعطیل است.

۴- ناحیه دارای زمستان های سرد و تابستان های معتدل است.

ج) جمله های درست و نادرست را مشخص کنید.

درست نادرست

۱- کشور ایران ۳۱ استان دارد.

۲- در زمان ساسانیان، هنر معماری و سنگ تراشی رواج زیادی یافت.

۳- مرکز استان مازندران، ساری است.

۴- وسیع ترین ناحیه آب و هوایی، ناحیه کوهستانی است.

د) به سوال های زیر، پاسخ کوتاه دهید.

۱- مهمترین راه در زمان هخامنشیان چه راهی بوده است؟

۲- به محل زندگی جانوران چه می گویند؟

۳- ۱۲ اردیبهشت چه روزی است؟

۴- یکی از تعطیلات ملی ایرانیان را نام ببرید.

ه) واژه های زیر را تعریف کنید.

۱- جلگه:

۲- مرکز استان:.....

و) به سوال های زیر پاسخ دهید.

۱- آیت الله خامنه ای چه توصیه ای به دانش آموزان کرده اند؟

۲- جدول را کامل کنید.

ح	شهر	روستا	عشایر
۲ تا از شغل ها			
شکل خانه			

۳- دلایل ضعیف شدن و شکست ساسانیان در مقابل حمله عرب ها را بنویسید. (۴مورد)

۱-.....

۲-.....

۳-.....

۴-.....

تصویر مقابل چه چیزی را نشان می دهد؟ در مورد آن توضیح دهید.



۵- ۴ مورد از اقدامات داریوش را نام ببرید.

--	--	--	--

ز) هر عبارت را به کلمه ی مربوط به خودش وصل کنید.

آرزوی تصرف همه جا را داشت.	دیاکو
فرمانده سپاه هخامنشیان بود.	آریو برزن
مادها را با هم متحد کرد و آشوری ها را شکست داد.	شاپور اول
دستور داد صحنه تسلیم شدن پادشاه روم را بر کوه کنده کاری کنند.	اسکندر مقدونی


ح) موارد زیر را روی نقشه نشان دهید.

۱- رشته کوه زاگرس را با رنگ قهوه ای

۲- محل تقریبی کوه دماوند

۳- ناحیه خزری را با رنگ سبز

۴- دشت کویر



پاسخنامه

مطالعات چهارم مدرسه پورچندقی نیم سال دوم ۱۴۰۲

	<p>الف) گزینه صحیح را انتخاب کنید.</p> <p>۱- به پولی که برای خرید وسایل مورد نیاز هزینه می کنیم، چه گفته می شود؟ <input type="checkbox"/> الف) بودجه <input type="checkbox"/> ب) پس انداز <input checked="" type="checkbox"/> ج) هزینه <input type="checkbox"/> د) درآمد</p> <p>۲- تعداد روزهای کدام ماه با بقیه متفاوت است؟ <input type="checkbox"/> الف) فروردین <input checked="" type="checkbox"/> ب) بهمن <input type="checkbox"/> ج) دی <input type="checkbox"/> د) آبان</p> <p>۳- فرمانروایان برای برقراری نظم در سرزمین خود چه چیزی را به وجود آوردند؟ <input type="checkbox"/> الف) قوانین و مقررات <input checked="" type="checkbox"/> ب) آثار هنری <input type="checkbox"/> ج) تقسیم کار <input type="checkbox"/> د) خط</p> <p>۴- کدام پادشاه ساسانی، نامه دعوت پیامبر به دین اسلام را نپذیرفت؟ <input type="checkbox"/> الف) دیاگو <input type="checkbox"/> ب) خسرو پرویز <input checked="" type="checkbox"/> ج) خسرو انوشیروان <input type="checkbox"/> د) داریوش</p>										
	<p>ب) جاهای خالی را با کلمه مناسب پر کنید.</p> <p>۱- نوک عقربه رنگی قطب نما همیشه به سمت شمال است.</p> <p>۲- پایتخت تابستانی هخامنشیان، شهر هگمتانه بوده است.</p> <p>۳- عید نوروز، علاوه بر ایران، در کشورهای افغانستان، پاکستان و جمهوری آذربایجان تعطیل است.</p> <p>۴- ناحیه معتدل و نیمه خشک کوهستانی دارای زمستان های سرد و تابستان های معتدل است.</p>										
	<p>ج) جمله های درست و نادرست را مشخص کنید.</p> <table style="width: 100%;"> <thead> <tr> <th style="text-align: center;">درست</th> <th style="text-align: center;">نادرست</th> </tr> </thead> <tbody> <tr> <td style="text-align: center;"><input checked="" type="radio"/></td> <td style="text-align: center;"><input type="radio"/></td> </tr> <tr> <td style="text-align: center;"><input checked="" type="radio"/></td> <td style="text-align: center;"><input type="radio"/></td> </tr> <tr> <td style="text-align: center;"><input checked="" type="radio"/></td> <td style="text-align: center;"><input type="radio"/></td> </tr> <tr> <td style="text-align: center;"><input type="radio"/></td> <td style="text-align: center;"><input checked="" type="radio"/></td> </tr> </tbody> </table> <p>۱- کشور ایران ۳۱ استان دارد.</p> <p>۲- در زمان ساسانیان، هنر معماری و سنگ تراشی رواج زیادی یافت.</p> <p>۳- مرکز استان مازندران، ساری است.</p> <p>۴- وسیع ترین ناحیه آب و هوایی، ناحیه کوهستانی است.</p>	درست	نادرست	<input checked="" type="radio"/>	<input type="radio"/>	<input checked="" type="radio"/>	<input type="radio"/>	<input checked="" type="radio"/>	<input type="radio"/>	<input type="radio"/>	<input checked="" type="radio"/>
درست	نادرست										
<input checked="" type="radio"/>	<input type="radio"/>										
<input checked="" type="radio"/>	<input type="radio"/>										
<input checked="" type="radio"/>	<input type="radio"/>										
<input type="radio"/>	<input checked="" type="radio"/>										
	<p>د) به سوال های زیر، پاسخ کوتاه دهید.</p> <p>۱- مهمترین راه در زمان هخامنشیان چه راهی بوده است؟ راه شاهی</p> <p>۲- به محل زندگی جانوران چه می گویند؟ زیستگاه</p> <p>۳- ۱۲ اردیبهشت چه روزی است؟ روز معلم</p>										

۴- یکی از تعطیلات ملی ایرانیان را نام ببرید.

عید نوروز

ه) واژه های زیر را تعریف کنید.

۱- جلگه: آبرفت ها روی هم انباشته می شوند و پس از سال ها جلگه به وجود می آید.

۲- مرکز استان: معمولا بزرگترین و پر جمعیت ترین شهر هر استان مرکز استان است.

و) به سوال های زیر پاسخ دهید.

۱- آیت الله خامنه ای چه توصیه ای به دانش آموزان کرده اند؟

شما دانش آموزان امید آینده کشور هستید پس باید به خوبی درس بخوانید ورزش کنید و برای آینده کشور مقید باشید.

۲- جدول را کامل کنید.

ح	شهر	روستا	عشایر
۲ تا از شغل ها	کارمند- مغازه دار	کشاورز- گلیم بافی	دامپروری- قالی بافی
شکل خانه	گنبدی شکل	آبائتمان	چادر

۳- دلایل ضعیف شدن و شکست ساسانیان در مقابل حمله عرب ها را بنویسید. (۴ مورد)

۱- بی لیاقتی شاهان ۲- گرفتن مالیات زیاد از مردم ۳- محروم بودن مردم از آموزش و سواد ۴- خوش گذرانی پادشاهان تصویر مقابل چه چیزی را نشان می دهد؟ در مورد آن توضیح دهید.



در گذشته داد و ستد به صورت مبادله کالا به کالا بود مثلا اگر کشاورزی بیشتر از نیاز خود گندم داشت

مقداری از آن را به کسی که ابزار کشاورزی می ساخت می داد و وسایل مورد نیازش را می گرفت.

۵- ۴ مورد از اقدامات داریوش را نام ببرید.



ساخت چاپارخانه

ساختن راه ها

تشکیل سپاه ده هزار نفره

ساخت سکه طلا

ز) هر عبارت را به کلمه ی مربوط به خودش وصل کنید.

 دیاکو	 آرزوی تصرف همه جا را داشت.
 آریو برزن	 فرمانده سپاه هخامنشیان بود.
 شاپور اول	 مادها را با هم متحد کرد و آشوری ها را شکست داد.
 اسکندر مقدونی	 دستور داد صحنه تسلیم شدن پادشاه روم را بر کوه کنده کاری کنند.