






هم کلاسی
Hamkelasi.ir

۱- کارهایی که در گذشته انجام می دادی با رنگ قرمز، کارهایی که در حال انجام میدی با رنگ آبی و کارهایی که قراره در آینده انجام بدی با رنگ سبز مشخص کن.



۲- تعداد اعضای خانواده ها و نام اعضا را در زیر عکس بنویس.



۳. هادی با پدر و مادر و خواهرش زندگی می کند. مادر بزرگ و عمه اش نیز با آنها در یک خانه زندگی می کنند.

تغییراتی را که باعث کاهش تعداد اعضای خانواده هادی می شود زیرشان خط بکش.

ازدواج عمه هادی --- به دنیا آمدن یک برادر --- مرگ مادر بزرگ --- رفتن خواهر هادی به دانشگاه

۴- با توجه به جدول به سوالات جواب دهید.

| کارهای خانه | شستن ظرف ها و لباس | خرید نان | جمع کردن وسایل از خانه | جارو کشیدن | خرید وسایل از بیرون | تمیز کردن حیاط |
|-------------|--------------------|----------|------------------------|------------|---------------------|----------------|
| اعضا | | | | ★ | ★ | |
| مادر | ★ | | ★ | | ★ | ★ |
| پدر | | ★ | ★ | | | |
| خواهر | ★ | | ★ | ★ | | |
| مبین | | ★ | ★ | | ★ | ★ |

الف) وظیفه جمع کردن وسایل بر عهده ی کیست؟

ب) خواهر مبین چه کارهایی انجام می دهد؟

ج) تمیز کردن حیاط را چه کسی انجام می دهد؟

| معیار و سنجش | تسلط کامل | خوب | کم | خیلی کم | باز خورد |
|--------------------------------------|-----------|-----|----|---------|----------|
| ملاک و شواهد | | | | | |
| مفهوم زمان را درک کرده است. | | | | | |
| تعداد و اعضا خانواده را تشخیص می دهد | | | | | |
| تغییرات در خانواده را درک می کند | | | | | |
| وظایف اعضا خانواده را تشخیص می دهد. | | | | | |
| مفاهیم علوم اجتماعی را درک کرده است | | | | | |

طراح: غفار نژاد مهربانی

آموزگار ناحیه ۴ تبریز