



هم کلاسی
Hamkelasi.ir



نام:

ساعت:

درس: ریاضی

نام خانوادگی:

تاریخ:

رشته:

۹۷/۱۰/۱۵

شماره:

مدت:

دقیقه

پایه:

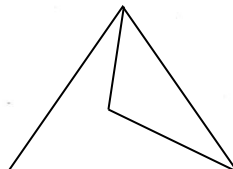
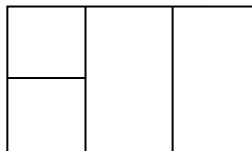
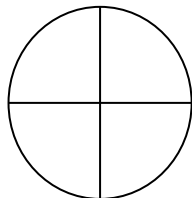
سوم

سؤالات

نمره

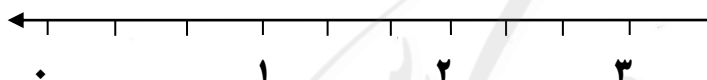
ردیف

۱ در هر یک از شکل های زیر چه کسری رنگ شده است؟



۲ هر یک از کسرهای زیر را روی محور نشان دهید:

$$\frac{1}{3} \text{ کمتر از } \frac{2}{3} \text{ واحد کامل و } 1 - \frac{1}{3} \text{ واحد کامل و } \frac{2}{3} - \frac{1}{3}$$



۳ دایره ای به قطر ۶ سانتی متر رسم کنید مرکز و شعاع آن را مشخص کنید:

- برای رسم دایره از چه وسیله ای استفاده می کنیم؟

۴ هر یک از کسرهای زیر را روی شکل نشان دهید:

$$1 \text{ واحد کامل و } \frac{1}{2} \quad \frac{2}{5} \quad \text{نصف}$$

۵ مقایسه کنید و علامت « $=$ » بگذارید.

$$\frac{1}{5} \bigcirc \frac{1}{2}$$

$$\frac{2}{7} \bigcirc \frac{5}{7}$$

$$1 \bigcirc \frac{4}{5} \text{ واحد کامل و } \frac{2}{5} \text{ واحد کامل و } 1$$



$$(5 \times 3) + (7 \times 2) \bigcirc (9 \times 4) - (5 \times 4)$$

$$(6 \times 3) + (4 \times 3) \bigcirc (5 \times 2) + (9 \times 2)$$

6 هر یک از ضرب های داده شده را به روش خواسته شده نشان دهید:

$$5 \times 3 \text{ (محور)}$$

$$4 \times 5 \text{ (مستطیل)}$$

 <p>مؤسسه آموزشی فرهنگی فیر دولتی پتروشیمی ماهشهر</p>	مشخصات امتحان	زمان امتحان	مشخصات دانش آموز	بسمه تعالی
	درس:	ساعت:	نام:	 <p>جمهوری اسلامی ایران وزارت آموزش و پرورش اندره کل آموزش و پرورش استان خوزستان مدیریت آموزش و پرورش شهرستان بندر ماهشهر</p>
	رشته:	تاریخ:	نام خانوادگی:	
	پایه:	مدت: دقیقه	شماره:	

سؤالات

3×4 (شکل)

6×5 (جمع)

۷ در جای خالی عدد مناسب قرار دهید :

$7 \times 2 \times 1 = \square$

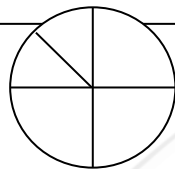
$5 \times 3 = 3 \times \square$

$2 \times 0 \times 5 = \square$

$(6 \times 3) + (2 \times 3) = (\square \times 3)$

$(9 \times 5) - (3 \times 5) = (\square \times 5)$

۸ برای شکل زیر سه کسر مساوی بنویسید :



----- = ----- = -----

۹ برای هر یک از کسرهای زیر ۲ کسر مساوی بنویسید :

$\frac{2}{3} = \frac{\quad}{\quad} = \frac{\quad}{\quad}$

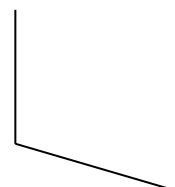
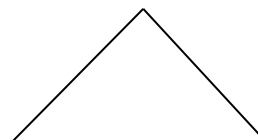
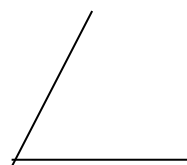
صفحه ۱

$\frac{3}{4} = \frac{\quad}{\quad} = \frac{\quad}{\quad}$

۱۰ ربع شکل زیر را رنگ کنید :



۱۱ زاویه های راست را مشخص کنید :



صفحه ۱



مشخصات امتحان

زمان امتحان

مشخصات دانش آموز

درس:

ساعت:

نام:

رشته:

تاریخ:

نام خانوادگی:

پایه:

دقیقه

مدت:

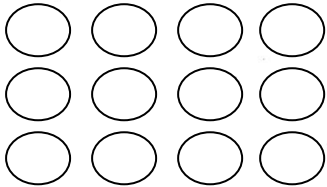
شماره:

نمره

سؤالات

ردیف

۱۲ شکل زیر را به ۲ روش دسته بندی کنید و برای آن ۲ ضرب بنویسید:



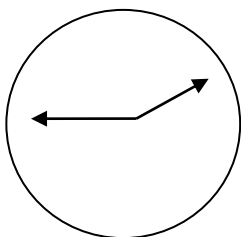
۱۳ زهرا ۴ دسته ۳ تایی مداد قرمز و ۲ دسته ی ۷ تایی مداد سیاه دارد. زهرا چند مداد دارد؟

۱۴ برای عبارت $(4 \times 3) - (7 \times 3)$ یک مسأله بنویسید:

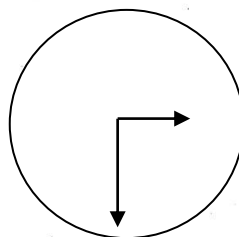
۱۵ در جای خالی کلمه مناسب قرار دهید:

- نصف یعنی
- وسیله اندازه گیری زاویه راست است
- سه برابر چهار یعنی
- ضرب هر عدد در یک برابر
- هر عدد در صفر ضرب شود حاصل است.

۱۶ کامل کنید:



----- یا ----- مانده به ساعت ۲



----- یا ----- گذشته از ۳