



هم کلاسی
Hamkelasi.ir

نام:	کلاس سوم	دبستان شاهد امام کاظم (ع)
نام خانوادگی:	تاریخ: ۹۷/۹/۱۸	۱۰

۱- از ۱۸ مداد پنج مداد سبز و هفت مداد قرمز است چه کسری از مدادها آبی است؟ با رسم شکل

۲- $\frac{1}{3}$ کدام شکل رنگ نشده است؟

۳- با توجه به عبارت داده شده شکل رسم کن. ۴ واحد و $\frac{3}{5}$ از واحد

۴- با توجه به محور جای خالی را کامل کن
..... واحد و از واحد

۵- اندازه ی کسری که شکل کم دارد را رسم کن تا واحد بعدی کامل شود؟

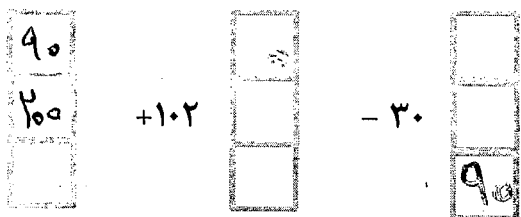
۶- در یک کلاس ۵ ردیف و در هر ردیف ۲ نیمکت وجود دارد اگر در هر نیمکت سه دانش آموز بنشینند این کلاس چند دانش آموز دارد؟ با رسم شکل

۷- اگر امروز دوشنبه ۹ آذرماه باشد تا آخر ماه چهارشنبه ها چه تاریخی دارد؟ جدول

۸- اکبر نوعی توپ را ۲۲۰ تومان می خرد و ۳۱۰ تومان می فروشد.
الف) از فروش یک توپ چند تومان سود می کند؟
ب) با فروش ۶ توپ چند تومان سود می کند؟
ج) ۶۳۰ تومان سود از فروش چند توپ به دست می آید؟

۹- فاصله ی خانه ی علی تا مدرسه ۲ کیلومتر و ۳۰ متر است علی در یک رفت و برگشت چند کیلومتر و چند متر را طی می کند؟

۱۰- ماشین ورودی و خروجی زیر را کامل کن .



۱۱- گزینه ی صحیح را انتخاب کن .

- سنجاب زیرکی گردویی را به ۴ قسمت مساوی تقسیم کرد و هر قسمت را به دو نیمه ی دیگر تقسیم کرد او سه تا از

نیمه ها را خورد چه کسری از گردو را خورده است؟


- الف) $\frac{۲}{۳}$ (الف) $\frac{۳}{۸}$ (ب) $\frac{۵}{۸}$ (ج) $\frac{۴}{۳}$ (د)

۱۲- در کسر $\frac{۵}{۹}$ به عدد ۹ چه می گویند؟

- الف) صورت (ب) مخرج (ج) خط کسری (د) باقی مانده

۱۳- اگر $\frac{۳}{۷}$ شکلی رنگ شود چند قسمت از شکل رنگ نشده است؟

- الف) ۴ قسمت (ب) دو قسمت (ج) سه قسمت (د) شش قسمت



۱۴- با توجه به شکل چه کسری کم دارد تا سه واحد کامل شود

- الف) $\frac{۴}{۳}$ (الف) $\frac{۱}{۳}$ (ب) $\frac{۳}{۳}$ (ج) $\frac{۳}{۳}$ (د)



۱۵- جاهای خالی را کامل کن

الف) $\frac{۵}{۹}$ یعنی قسمت از قسمت مساوی

ب) ۲۴۵۵ گرم یعنی کیلو گرم گرم

- ۳ کیلو گرم و $\frac{۳۲۵}{۱۰۰۰}$ از کیلوگرم یعنی گرم

۱۶- هر شکل را به اندازه ی کسر زیرش رنگ کن



۱۷- علی از ۵ قسمت میوه ی خود همه را خورد . او چه کسری از میوه اش را خورده است؟ رسم شکل

۱۸- رضا ساعت ۷ صبح به محل کارش می رود و ساعت ۴ بعداز ظهر برمی گردد . او چند ساعت

بیرون از منزل بوده و چند ساعت در منزل است ؟