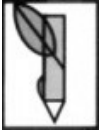




هم کلاسی
Hamkelasi.ir



به نام خدا

دبستان دخترانه غیر دولتی بهار مدرسی

نام و نام خانوادگی:

تاریخ: ۹۶ / ۱۰ / ۲۰

شماره هفت

پیک ماهانه پایه سوم

ریاضی

۱- جاهای خالی را کامل کنید.

۲ هزار تایی و ۶ یکی و ۵ ده تایی و ۰ صدتایی می شود

۷۰۸۶ به حروف می شود.....

دو هزار و سیصد و هفتاد و شش به رقم می شود.....

مکعب از درست شده است.

یک سانتی متر میلی متر می شود.

۳ متر سانتی متر است.

۲ کیلوگرم و ۲۵۰ گرم گرم است.

۴۵۰۰ متر کیلومتر و متر است.

..... وسیله ای برای تشخیص زاویه ی راست است. مربع زاویه ی راست دارد.

نصف قطر است. دایره قطر دارد.

ساعت ۲۰ می شود ساعت بعد از ظهر


ساعت ۳ بعد از ظهر می شود ساعت.....

۲- یک صندی ۴ پایه دارد. ۲ صندلی چند پایه دارد؟

۳ صندلی چند پایه دارد؟

۳- تمام عددهای ۳ رقمی که رقم صدگان آن ۲ و ۳ ، رقم دهگان آن ۵ و رقم یکان آن ۴ باشد را بنویسید.

۴- ۲۰۰۰ لیره ی کشوری ۱۰ ریال است. ۳ تومان چند لیره ی این کشور است؟



به نام خدا

دبستان دخترانه غیر دولتی بهار مدرسی

نام و نام خانوادگی:


تاریخ: ۲۰ / ۱۰ / ۹۶

شماره هفت

پیک ماهانه پایه سوم

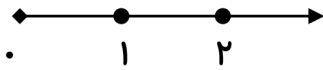
ریاضی

۵- ساعت یک ربع مانده به ۸ را نشان دهید.



۲/۳ واحد بعد از عدد ۱

۶- عدد داده شده را روی محور نشان دهید.



۷- کسرهای زیر را با زدن علامت ($>$ $=$ $<$) مقایسه کنید.

$\frac{1}{3} \bigcirc \frac{1}{2}$

$\frac{2}{3} \bigcirc \frac{1}{2}$

۴ واحد و $\frac{1}{8}$ واحد

۵ واحد و $\frac{2}{8}$ واحد

۸- عددی را به اضافه ی ۱۰ کردیم ، حاصل ۱۷ شد. آن عدد چیست؟

۹- دایره ای به شعاع ۲ سانتی متر رسم کنید.

بهترین وسیله برای رسم دایره چیست؟

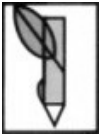
۱۰- حاصل ضرب ها را به روش های خواسته شده به دست آورید.

با رسم شکل 3×4

با نوشتن جمع 5×9

با شمارش ۵ تا ۵ 6×5

با محور 2×6



به نام خدا

دبستان دخترانه غیر دولتی بهار مدرسی

نام و نام خانوادگی:

تاریخ: ۲۰ / ۱۰ / ۹۶

شماره هفت

پیک ماهانه پایه سوم

ریاضی

۱۱- دخترم عددها را با هم مقایسه کنید.

$$۸۵۰۰ \square ۶۸۰۰$$

$$۳۵۲۰ \square ۳۵۸۹$$

۱۲- فاطمه ۲۷ کیک خرید. او می خواهد کیک ها را به ۹ نفر از دوستانش بدهد. به هر نفر چند کیک می رسد؟

۱۳- زهرا ۸ سال و مادرش ۳۲ سال دارد. سن مادر زهرا چند برابر سن اوست؟

۱۴- در جاهای خالی عدد مناسب بنویسید.

$$۷ \times ۸ = (\square \times ۸) + (۱ \times ۸)$$

$$۳ \times \square = (۲ \times ۹) + (\square \times \square)$$

$$\square \times ۹ = (۳ \times ۹) + (۵ \times ۹)$$

$$\square \times ۸ = (۴ \times ۸) + (۵ \times ۸)$$

۱۵- برای هر ضرب دو تقسیم بنویسید.

$$۷ \times ۲ = \dots\dots\dots$$

$$۶ \times ۳ = \dots\dots\dots$$

$$۴ \times ۷ = \dots\dots\dots$$

$$\dots\dots\dots \div \dots\dots\dots = \dots\dots\dots$$

$$\dots\dots\dots \div \dots\dots\dots = \dots\dots\dots$$

$$\dots\dots\dots \div \dots\dots\dots = \dots\dots\dots$$

$$\dots\dots\dots \div \dots\dots\dots = \dots\dots\dots$$

$$\dots\dots\dots \div \dots\dots\dots = \dots\dots\dots$$

$$\dots\dots\dots \div \dots\dots\dots = \dots\dots\dots$$

۱۶- در شکل های زیر ضلع های موازی را با رنگ آمیزی مشخص کنید

