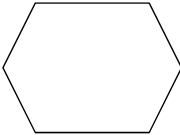
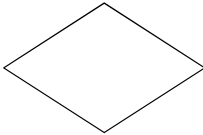

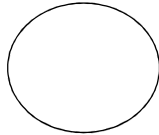




هم کلاسی
Hamkelasi.ir

<p>۶</p>	<p>با کارت های ۴ ، ۵ ، ۹ هر تعداد می توانی عدد سه رقمی بنویس .</p> <p>.....</p> <p>الف) از بین عددهایی که نوشتی اعدادی را بنویس که حاصل جمع رقم دهگان و صدگان برابر با رقم یکان باشد</p> <p>.....</p> <p>ب) بزرگ ترین عدد سه رقمی ج) کوچکترین عدد.....</p>
<p>۷</p>	<p>با استفاده از ساعت به سوالات پاسخ بده .</p> <p>الف) عقربه کوچک ساعت بین ۴ و ۵ است و عقرب بزرگ روی ۶ است ساعت چند است؟ روی ساعت نشان بده</p> <p>ب) مهیا باید ساعت یک ربع به پنج به پارک برود باید عقربه بزرگ چند دقیقه حرکت کند تا ساعت یک ربع به پنج شود؟</p> <p>ج) مقدار حرکت عقربه بزرگ را رنگ بزن؟</p>
<p>۸</p>	<p>زهرا برای خرید لوازم التحریر ۷ سکه ی ۱۰۰ ریالی و ۵ سکه ی ۱۰ ریالی دارد. اگر ۲ سکه ی ۱۰۰ ریالی و ۳ سکه ی ۱۰ ریالی را به مقازه دار بدهد چند ریال برایش باقی می ماند؟</p>
<p>۹</p>	<p>حاصل جمع و تفریق ها را بدست بیاور .</p> $\begin{array}{r} 35 \\ + 24 \\ \hline \end{array}$ $\begin{array}{r} 67 \\ - 43 \\ \hline \end{array}$ $30 + 20 + 5 + 3 + 10 =$ $300 - 100 =$
<p>۱۰</p>	<p>با رسم دو خط اشکال زیر را به ۴ قسمت مساوی تقسیم کن .</p> <div style="display: flex; justify-content: space-around; align-items: center;">     </div>

ردیف	معیارها و انتظارات	تسلط کامل	تسلط خوب	متوسط	کم
۱	الگوهای عددی را تشخیص و به درسی ادامه می دهد .				
۲	مسئله ها را به درستی حل می کند .				
۳	توانایی ساخت اعداد مختلف با استفاده از ارقام مشخص شده را دارد .				
۴	با مفهوم ساعت و دقیقه آشنایی دارد .				
۵	خط تقارن اشکال را نشان می دهد				
۶	جمع و تفریق ها را به خوبی انجام می دهد .				
۷	پاسخ و گزینه ی مناسب را انتخاب می کند				

بازخورد توصیفی آموزگار :

خودسنجی :

۱- آیا از این آزمون راضی هستم . چرا ؟

۲- به نظر خودم و آموزگارم چه چیزهایی را بیشتر یاد گرفتم ؟

۳- برای این که بیشتر یادگیرم چه کارهایی باید انجام بدهم ؟

۴- از این آزمون و نوشته هایم چه چیزهای جدیدی یاد گرفتم ؟

ارزیابی والدین