



هم کلاسی
Hamkelasi.ir

نام و نام خانوادگی:

به نام خداوند جان و خرد

آزمون ریاضی پایه ی دوم دبستان شهید باهنر دی ماه ۹۷

۱ - پاسخ صحیح را با علامت (x) داخل مشخص کنید.

- درست نادرست
 - درست نادرست
 - درست نادرست
 - درست نادرست
- یک هشت ضلعی ۸ ضلع و گوشه دارد.
 - با رقم های ۳ و ۶ می توان دو عدد ساخت.
 - نیم ساعت همان ۳۰ دقیقه است.
 - عدد ۴۸ به ۴۰ نزدیکتر است.

۲- گزینه ی صحیح را با علامت (x) مشخص کنید؟

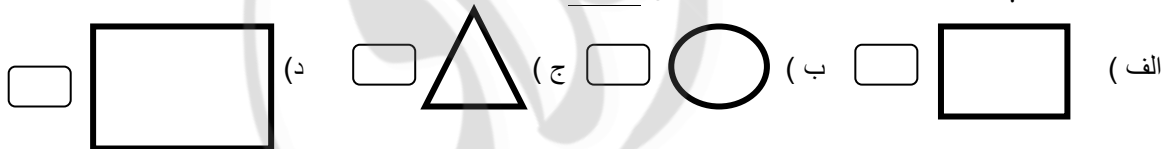
❖ کدام یک از عددهای زیر ۱ صدتایی ۴ ده تایی و ۳ یکی دارد؟

- الف) ۱۳۴ ب) ۳۴۱ ج) ۱۴۳ د) ۴۱۳

❖ ساعت دیواری ساعت ۸:۲۰ را نشان می دهد. عقربه ی دقیقه شمار روی چه عددی قرار دارد.

- الف) ۴۰ ب) ۸ ج) ۲۰ د) ۴

❖ کدام شکل زیر تقارن چهار قسمتی ندارد.



❖ ۳- در جای خالی عدد یا عبارت مناسب بنویس.

در شکل های چند ضلعی به تعداد ضلع ها داریم.

۷ دسته ی ده تایی منهای ۳ دسته ی ده تایی می شود

سکه ی ۲۵۰ ریالی برابر است با سکه ی صد ریالی و سکه ی ۱۰ ریالی

فرایندی

در مستطیل با هم برابر هستند.

$\begin{array}{r} 36 \\ +42 \\ \hline \end{array}$	$\begin{array}{r} 79 \\ -57 \\ \hline \end{array}$
--	--

$$30 + 20 + 3 + 5 + 5 + 5 + 10 =$$

۴- جمع و تفریق کنید؟

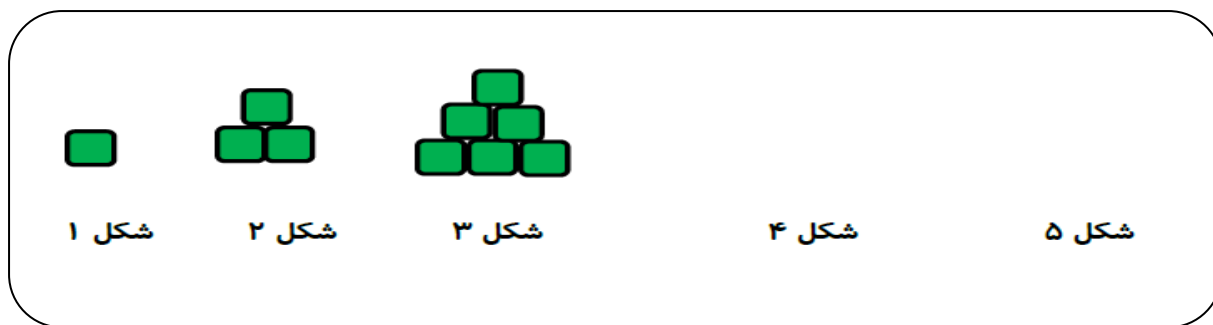
با رسم چوب خط

$$5 + 7 + 5 =$$

با رسم شکل

$$10 + 40 =$$

۵- اگر کشیدن چینه ها را همین طور ادامه دهیم شکل چهارم و پنجم چند چینه خواهد داشت



شکل ۱

شکل ۲

شکل ۳

شکل ۴

شکل ۵

حالا الگوی عددی شکل بالا را بنویس؟

۶- چند عدد دو رقمی می توان نوشت که رقم یکان آنها ۳ و ۶ و رقم دهگانشان ۷ و ۸ و ۹ باشد؟ به صورت منظم بنویس. سپس به حروف بنویس و تقریب بزن.

.....

۷- تفاوت و شباهت دو شکل زیر را بنویسید.

شکل ۱



شکل ۲



تفاوت

.....

شباهت

.....

۸- در یک باغ ۲۷ درخت است. ۱۵ تا از آن ها درخت سیب و بقیه گلابی است. چند درخت گلابی است (با رسم شکل)

۹- زمانی که ساعت نشان می دهد را به دو صورت بنویس.




یک ربع بعد از این ساعت چه ساعتی است؟

نیم ساعت بعد از ساعت ۷:۳۰ چند ساعت است؟

یک ساعت بعد از ساعت ۲:۴۵ چه ساعتی است؟

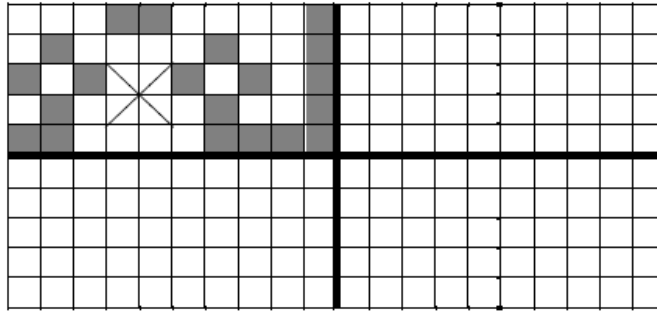
۱۰- عدد ۲۷ و ۴۳ را روی محور نشان بده؟



عدد ۵۳ بین و قرار دارد.

عدد ۲۷ به نزدیکتر است یا؟

۱۱- کاشی کاری را طوری کامل کن که چهار قسمت شکل شبیه هم باشد؟



نیاز به تلاش بیشتر	قابل قبول	خوب	خیلی خوب	انتظارات و اهداف
				۱- با اشکال هندسی آشنایی دارد و ضلع و گوشه را در چند ضلعی ها می شناسد.
				۲ جمع و تفریق ها را به روش های خواسته شده به درستی حل می کند.
				۳- الگوی هندسی و عددی را به درستی انجام می دهد.
				عددهای دو رقمی را با نظم منطقی ساخته و به حروف نوشته است و تقریب می زند.
				تفاوت و شباهت شکل ها را می نویسد.
				مساله را به درستی حل کرده است.
				ساعت ها را به درستی نوشته است.
				عددها را به درستی روی محور نشان داده است و به سوالات پاسخ می دهد.
				خط تقارن را می شناسد و کاشی کاری را با توجه به خط تقارن به درستی کامل می کند.

باز خورد آموزگار:

خودسنجی: لذت بردم از این که.....

به نظرم باید در بیشتر تلاش کنیم.

پسر گلم فتح قلّه های سربلندی و سرافرازی توسط شما، آرزوی من است.

آموزگار: قاسمیان