



هم کلاسی  
[Hamkelasi.ir](http://Hamkelasi.ir)

تاریخ:

نام و نام خانوادگی: .....

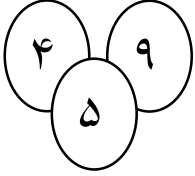
مدت: ۶۰ دقیقه

آزمون ریاضی مداد کاغذی تراکمی پایه دوم

دبستان بنت الهدی صدر

ارزشیابی چهار فصل اول - دی ماه

۱- با کارت های ۴، ۹، ۵، تمام عددهای سه رقمی که می توان نوشت. بنویسید.



بزرگترین عدد: .....

از بین عددهای بالا کوچکترین عدد: .....

۲- جای خالی را کامل کن.

۵ دسته صد تایی، ۴ دسته ده تایی می شود

۷ دسته صد تایی، ۳ دسته ده تایی و ۲ تا یکی می شود.

به عدد: ..... به حروف: .....

به عدد: ..... به حروف: .....

۲۸

۶۵

۳- حاصل جمع و تفریق های زیر را انجام دهید.

+ ۳۹

- ۴۷

۷۰ - ۳۰ = .....

۲۰۰ + ۵۰۰ = .....

.....

.....

.....

.....

+ .....

- .....

۱۰۶

۹۸

.....

.....

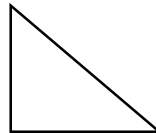


- ۹

+ ۹

۴- فاطمه در هفته ی گذشته ۶ سکه ی ۱۰۰ ریالی و ۷ سکه ی ۱۰ ریالی و ۴ سکه ی یک ریالی در قلک خود ریخت. حساب کنید فاطمه

چند ریال در قلک خود دارد؟

۵- با رسم برش های لازم، شکل ها را به ۴ قسمت مثل هم تقسیم کنید.

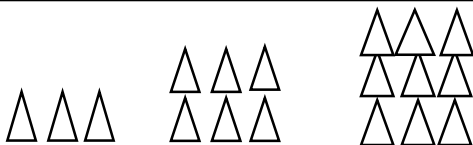


۶- عقربه های ساعت زیر را روی (۷:۱۵) دقیقه رسم کن.

حالا به سوال پاسخ بده؟ به دو صورت بنویس.

۳۰ : ۲ دقیقه دیگر بعد از این ساعت چند است؟ .....

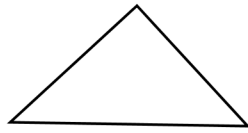
.....



۷- الگو یابی کنید و ادامه دهید. (شکل را دو مرحله)

۳ - ۷ - ۱۱ - ..... - ..... - ..... - .....

۸- شکل های روبرو چه شباهت و چه تفاوتی با هم دارند



شباهت:.....

تفاوت:.....

۹- زهرا ۱۰۵ امتیاز داشت. وقتی که تکالیف ریاضی خود را به آموزگار نشان داد، ۹ امتیاز دیگر گرفت. حالا او چند امتیاز دارد؟

۱۰- کتاب ثمین ۳۲ صفحه دارد. او ۱۹ صفحه از کتابش را خوانده، چند صفحه دیگر را نخوانده است؟

۱۱- اعداد را با حذف رقم یکان و دهگان به صورت تقریب بنویس.

۱۳۴.....

۳۸۵.....

راهنمای توصیف عملکرد:

نیاز به تلاش	قابل قبول	خوب	خیلی خوب	انتظارات آموزشی	رتبه
				عددهای سه رقمی را به رقم و حروف نوشته است (پول).	۱
				عملیات جمع و تفریق را به درستی انجام داده است.	۲
				شکل را به چهار قسمت مساوی کرده است.	۳
				زمان را تشخیص داده و عقربه های ساعت را درست رسم کرده است.	۴
				الگوهای راکشف کرده و ادامه داده است.	۵
				شباهت و تفاوت شکل ها را تشخیص داده است.	۶
				از راهبرد نمادین برای حل مسئله به درستی استفاده کرده است.	۷
				عددها را به درستی تقریب زده است.	۸

باز خورد توصیفی آموزگار:.....

خود سنجی:

۱) آیا از پاسخ دادن به سؤالات آزمون خود راضی هستم؟ چرا؟

۲) برای اینکه بیشتر یاد بگیرم باید چه کارهایی انجام بدهم؟

نظر والدین:.....