



هم کلاسی  
Hamkelasi.ir



دبستان:

نام و نام خانوادگی:

# ریاضی

دوم دبستان

ارزیابی مداد-کاغذی

زمان ارزیابی هفته سوم و چهارم دی ماه



تاریخ آزمون: ۹۵/۱۰/۰۰

دی ماه ۹۵




با خط کش عددی محل هم را به هم وصل کنید.



با کمک محور رو به عقب بشمارید و الگو را کامل کنید.



شکل زیر را با استفاده از مداد رنگی به دسته‌های ده تایی تبدیل کنید. تعداد شکل‌ها را بنویسید.



مانند نمونه جدول‌های جمع و تفریق را کامل کنید.

۳+۴ = ۷

+	۴	۷	۵
۳	۷		

+	۶	۷	۸	۹
۴				
۵				

-	۸	۷	۵	۲
۱۸				
۱۵				

مانند نمونه حاصل جمع و تفریق‌ها را با نوشتن راه حل به دست آورید.

$\begin{array}{r} ۴۹ \\ - ۲۷ \\ \hline ۲۹ \\ - ۷ \\ \hline ۲۲ \end{array}$	$\begin{array}{r} ۲۳ \\ + ۱۴ \\ \hline ۳۳ \\ + ۴ \\ \hline \end{array}$	$\begin{array}{r} ۴۶ \\ - ۱۶ \\ \hline \end{array}$	$\begin{array}{r} ۲۴ \\ + ۲۴ \\ \hline \end{array}$	$\begin{array}{r} ۶۷ \\ - ۳۰ \\ \hline \end{array}$	$\begin{array}{r} ۲۰ \\ + ۲۹ \\ \hline \end{array}$
--	---	---	---	---	---


چند عدد ۲ رقمی می‌توان نوشت که رقم یکانش ۴ یا ۵ و رقم دهگان آن ۶ یا ۷ یا ۸ باشد؟

.....

جواب جمع و تفریق‌ها را به صورت تقریبی به دست آورید.

$\begin{array}{r} ۵۳ \\ + ۲۹ \\ \hline \end{array}$	$\begin{array}{r} ۶۸ \\ - ۴۱ \\ \hline \end{array}$	$\begin{array}{r} ۲۹ \\ + ۴۹ \\ \hline \end{array}$
---	---	---

دو شکل زیر هر دو مثلث هستند. چه تفاوت و شباهت‌هایی با هم دارند؟



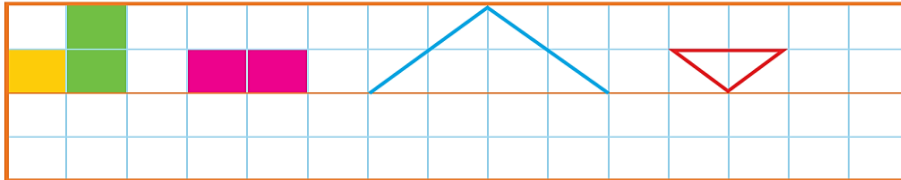
تفاوت: .....  
شباهت: .....

**کامل کن**

هر تصویر چه ساعتی را نشان می دهد؟



با توجه به خط تقارن، نیمه‌ی دیگر شکل را رسم کنید.



با رسم برش‌های لازم، شکل‌ها را به ۴ قسمت مثل هم تقسیم کنید.



زمانی را که هر ساعت نشان می دهد، به دو صورت بنویسید.



هشت و ربع  
۸:۱۵



سه و نیم  
۳:۳۰



الگوها را ادامه دهید.

۱۰۰, ۲۰۰, ۳۰۰, \_\_\_\_\_, \_\_\_\_\_, \_\_\_\_\_, \_\_\_\_\_

صد، دویست، سیصد، چهارصد، پانصد، \_\_\_\_\_، \_\_\_\_\_، \_\_\_\_\_، \_\_\_\_\_

به رقم بنویسید.

هشتصد و هفتاد و پنج

چهارصد و نه

ششصد

دویست و پنجاه

با سه کارت که روی آن‌ها رقم‌های ۲ و ۳ و ۵ نوشته شده است، تمام عددهای سه رقمی را که می توان ساخت، درست کنید و مانند نمونه بنویسید. چند عدد سه رقمی درست شد؟



۲۳۵\_

روی محور اعداد زیر، عددهای ۳۰۰ و ۷۰۰ و ۹۰۰ را نشان دهید.



۲- مقدار پول را در هر قسمت بنویسید.



نیاز به تلاش و آموزش

قابل قبول

خوب

بسیار خوب

نظر آموزگار از کار شما:

باز خورد توصیفی: