



هم کلاسی
Hamkelasi.ir

به نام خدا

اردیبهشت ماه ۱۳۹۶
طراح: فاطمه عابدینی

دبستان شهیدباهنر
کلاس سوم

آزمون مداد کاغذی ریاضی
نام و نام خانوادگی

۱ درست یا نادرست بودن جمله های زیر را مشخص کنید
- ۴ کیلومتر و ۲۵۰ متر برابر است با ۴۲۵۰ متر
- ۲ کیلوگرم برابر است با ۲۰۰ گرم
- ۲۰۲ میلی متر برابر است با ۲۰ سانتی متر و ۲ میلی متر

صحيح غلط

۲ جاهای خالی را کامل کن

- مکعب از وجه تشکیل شده است
- ربع مستطیل یعنی آن رنگ شده است
- اندازه ی شعاع دایره برابر است با قطر آن
- اگر دو خط موازی را ادامه دهیم همدیگر را قطع نمی کنند

بعد از ظهر	۲:۳۰	۴:۵۰
زمان	۱۶	

۳ گزینه ی صحیح را انتخاب کن

- روز سوم تیر ماه شنبه است در این ماه شنبه ها چه روزهایی از مرداد است

- ۱، ۸، ۱۵، ۲۲، ۲۹
 ۵، ۷، ۱۴، ۲۱، ۲۸

- ۳، ۱۰، ۱۷، ۲۴، ۳۱
 ۲، ۹، ۱۶، ۲۳، ۳۰

- عدد هفت هزار و سه کدام است



- ۷۳۰ ۷۰۰۳ ۷۰۳ ۷۳۰۰



- رضا برای خرید یک بسته شکلات ۷۵۰۰ تومانی و یک بسته بیسکویت ۴۵۰۰ ریالی باید چند تومان به فروشنده بدهد

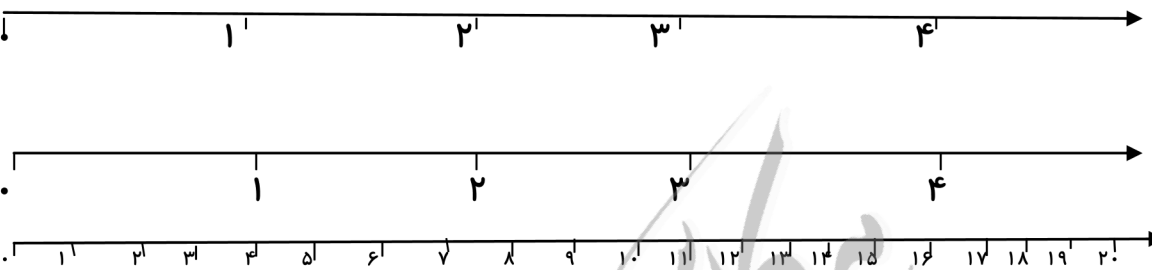
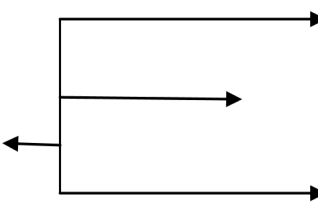
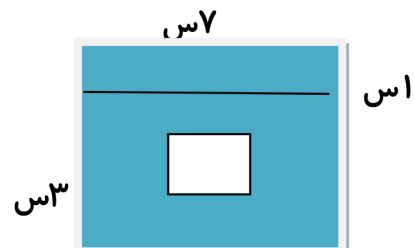
- ۳۰۰ ۳۰۰۰ ۷۹۵۰ ۱۲۰۰

اگر دهانه ی پرگار را ۳ سانتی متر باز کنیم شعاع و قطر به ترتیب کدام است

- شعاع ۶ و قطر ۳ شعاع ۳ و قطر ۳ شعاع ۳ و قطر ۶ شعاع ۶ و قطر ۶

۱، ۶، ۱۲، ۱۹،  

۴ چه عددی در  و  قرار می گیرد

<p>با رقم های ۵، ۳، ۹، ۰ بزرگترین و کوچکترین عدد چهار رقمی را هم به حروف و هم به رقم بنویس سپس تعیین کن در هر دو عدد ارزش مکانی کدام رقم بیشتر است</p> <p>بزرگترین عدد</p> <p>کوچکترین عدد</p>	۵
<p>۴۰۰۰+۲۰۰ <input type="checkbox"/> ۳۰۰۰-۲۰۰۰+۵۰۰۰</p> <p>۳۲۰۰ <input type="checkbox"/> ۲۰۰۰+۵۰۰+۲۵۰+۲۵۰</p> <p>$\frac{1}{3}$ <input type="checkbox"/> $\frac{2}{3}$ ۲ <input type="checkbox"/> $\frac{2}{2}$</p> <p>۲۰۰۰ متر <input type="checkbox"/> ۲ کیلومتر</p> <p>در جاهای خالی علامت (< = >) بگذار</p> <p>۴۲۰ ریال <input type="checkbox"/> ۴۰ تومان</p>	۶
<p>روی شکل و محور نشان بده</p> <p>$\frac{2}{3}$ واحد قبل از عدد ۳</p> <p>۳ واحد و $\frac{1}{4}$</p> <p>4×5</p> 	۷
<p>قیمت ۶ آببات ۱۷۵ تومانی چقدر است؟</p>	۸
<p>یک مغازه دار هر کیلو شیر را ۱۰۰۰ تومان می خرد و ۱۲۰۰ تومان می فروشد</p> <p>بافروش یک کیلو شیر چقدر سود می کند؟</p> <p>اگر ۳ کیلو شیر بفروشد چقدر سود می کند؟</p> <p>چند کیلو شیر بفروشد تا با سود آن ۲ کیلو شیر بخرد؟</p>	۹
<p>در شکل مقابل چند پاره خط ، چند نیم خط و چند خط راست وجود دارد؟</p> <p>پاره خط :</p> <p>نیم خط :</p> <p>خط راست :</p> 	۱۰
<p>مساحت قسمت رنگی را به دست آورید</p> 	۱۱
<p>اگر مساحت مستطیلی ۲۴ سانتی متر مربع باشد و عرض آن ۶ س باشد طول آن چقدر است محیط مستطیل را هم حساب کنید</p>	۱۲

<p>حاصل عبارتهای زیر را بدست آورید</p> $4 \times (2+7) = \dots \times \dots = \dots$ $(7 \times 9) = (2 \times \dots) + (\dots \times 9) = \dots$ $(6 \div 3) \times (8 - 2) = \dots \times \dots = \dots$	<p>۱۳</p> $27 \quad \quad 4 \quad \quad \quad 48 \quad \quad 6$
<p>کسرهای مساوی با $\frac{1}{3}$ را با رسم شکل نشان دهید</p> $\frac{1}{3} = \dots = \dots$ <div style="display: flex; justify-content: space-around; margin-top: 10px;"> <div style="border: 1px solid black; width: 60px; height: 60px; margin: 5px;"></div> <div style="border: 1px solid black; width: 60px; height: 60px; margin: 5px;"></div> <div style="border: 1px solid black; width: 60px; height: 60px; margin: 5px;"></div> </div>	<p>۱۴</p>
<p>یک دایره به شعاع ۵ سانتی متر رسم کنید سپس آن را به ۶ قسمت مساوی تقسیم کنید یک قسمت آن را آبی ۲ قسمت را سبز و ۳ قسمت را قرمز کنید اگر دایره به عنوان چرخنده باشد احتمال قرار گرفتن عقربه روی کدام رنگ بیشتر است چرا؟</p>	<p>۱۵</p>

انتظارات	تسلط زیاد	تسلط خوب	تسلط متوسط	تسلط کم
۱ تبدیل واحدها را به درستی انجام می دهد				
۲ رابطه ی بین شعاع و قطر را می داند				
۳ دو خط موازی را تشخیص می دهد				
۴ عددنویسی را به خوبی انجام می دهد				
۵ جمع و تقسیم و ضرب و تقسیم را کامل انجام می دهد				
۶ عدد و کسر را به درستی مقایسه می کند				
۷ برای ضرب و تقسیم و عدد و کسر محور و شکل می کشد				
۸ سود را حساب می کند و مساله را با جدول نظام دار حل می کند				
۹ پاره خط و نیم خط و خط راست را تشخیص می دهد و می شمارد				
۱۰ محیط و مساحت شکل را حساب می کند				
۱۱ کسرهای مساوی را تشخیص می دهد				
۱۲ در حل مساله از احتمال به درستی استفاده می کند				

ارزیابی معلم :