

نام مبحث : نمونه سوالات علوم دوم ابتدایی نوبت دوم (خرداد ماه)

نام استاد : گرد آوری شده توسط همکلاسی

۱- برای دیدن و شنیدن از کدام موارد زیر استفاده می کنیم ؟



۲- علی همراه با پدرش به اسکله رفت تا با انواع ماهی ها و مشخصات آن ها بیشتر آشنا

شود . همراه بردن کدام یک از موارد زیر برای علی لازم تر است ؟



۳- چشیدن کدام یک برای سلامتی ما ضرر دارد ؟



۴- چه چیزی باعث شده که به این حال گرفتار شود ؟



۵- کدام آب آلوده نیست ؟



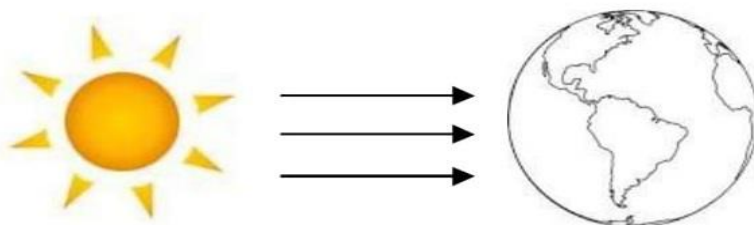
نام مبحث : نمونه سوالات علوم دوم ابتدایی نوبت دوم (خرداد ماه)

نام استاد : گرد آوری شده توسط همکلاسی

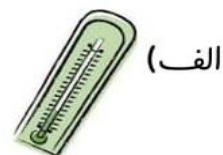
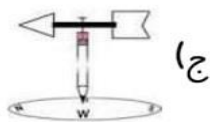
۶ - کدام یک به پیشگیری از آلوده شدن هوا کمک می کند ؟



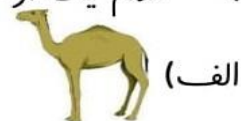
۷ - قسمتی از زمین که روز است را زرد و قسمتی که شب است را سیاه رنگ کن .



۸ - برای اندازه گیری گرما و سرما از کدام یک استفاده می کنیم ؟



۹ - کدام یک از جانوران زیر در شب فعالیت می کند ؟



۱۰ - کدام مورد زیر برای زنده ماندن جانداران زنده لازم نیست ؟



نام مبحث : نمونه سوالات علوم دوم ابتدایی نوبت دوم (خرداد ماه)

نام استاد : گرد آوری شده توسط همکلاسی

۱۱- کدام دماسنج دمای بالاتری را نشان می دهد ؟ دور آن خط بسته بکش .



۱۲- کدام یک هوای طوفانی را نشان می دهد ؟



۱۳- کدام یک می تواند راحت تر این قلوه سنگ را جابه جا کند ؟



۱۴- کدام وسیله سرعت وزش باد را نشان می دهد ؟



(ج)



(ب)



(الف)