


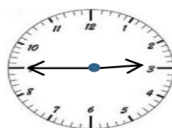
نام مبحث : نمونه سوالات ریاضی دوم ابتدایی نوبت دوم (خرداد ماه)

نام استاد : گردآوری شده توسط همکلاسی

بسمه تعالی

آزمون ریاضی پایه ی دوم نوبت دوم (اردیبهشت ماه) آموزشگاه : سال تحصیلی ۹۵-۹۴

نام و نام خانوادگی : کلاس : دوم نام معلم مربوطه :

سوال	شرح سوال																			
۱	جاهای خالی را کامل کن . <table border="1" style="display: inline-table; margin-right: 20px;"> <tr> <td>یکان</td> <td>دهگان</td> <td>صدگان</td> </tr> <tr> <td>.....</td> <td>.....</td> <td>.....</td> </tr> </table> ۸۳۲ <table border="1" style="display: inline-table; margin-right: 20px;"> <tr> <td>یکان</td> <td>دهگان</td> </tr> <tr> <td>.....</td> <td>.....</td> </tr> </table> ۵۹	یکان	دهگان	صدگان	یکان	دهگان									
یکان	دهگان	صدگان																		
.....																		
یکان	دهگان																			
.....																			
۲	حاصل جمع های زیر را بدست بیاور . $۸ + ۱۰ + ۳۰ + ۵ + ۵ = \dots\dots\dots$ $۲۰ + ۱۵ + ۳۰ + ۵ + ۱۵ = \dots\dots\dots$																			
۳	در جای خالی عدد مناسب بنویس . الف (۵۲ به چه عددی نزدیک تر است ؟ ۴۰ یا ۵۰ ؟ ب (۷۹ به چه عددی نزدیک تر است ؟ ۷۰ یا ۸۰ ؟																			
۴	ساعت چند است ؟ بنویس . <div style="display: flex; justify-content: space-around; align-items: center;"> <div style="text-align: center;">  ساعت و دقیقه </div> <div style="text-align: center;">  ساعت و دقیقه </div> </div>																			
۵	اشکال زیر را رسم کن و تعداد ضلع ها و گوشه های هر یک را بنویس . <table border="1" style="width: 100%; text-align: center;"> <thead> <tr> <th>دایره</th> <th>مثلث</th> <th>مربع</th> <th>مستطیل</th> <th>رسم شکل</th> </tr> </thead> <tbody> <tr> <td style="height: 40px;"></td> <td></td> <td></td> <td></td> <td>تعداد ضلع</td> </tr> <tr> <td></td> <td></td> <td></td> <td></td> <td>تعداد گوشه</td> </tr> </tbody> </table>	دایره	مثلث	مربع	مستطیل	رسم شکل					تعداد ضلع					تعداد گوشه				
دایره	مثلث	مربع	مستطیل	رسم شکل																
				تعداد ضلع																
				تعداد گوشه																
۶	کیسه ها را بشمار و بنویس چند ریال است . <div style="display: flex; justify-content: space-around; align-items: center;"> <div style="text-align: center;"> <table border="1" style="margin-bottom: 5px;"> <tr><td>۱۰۰</td></tr> <tr><td>۱۰۰</td></tr> <tr><td>۱۰۰</td></tr> </table> <table border="1" style="margin-bottom: 5px;"> <tr><td>۱۰</td></tr> <tr><td>۱۰</td></tr> <tr><td>۱۰</td></tr> <tr><td>۱۰</td></tr> <tr><td>۱۰</td></tr> </table> <table border="1" style="margin-bottom: 5px;"> <tr><td>۱</td></tr> <tr><td>۱</td></tr> <tr><td>۱</td></tr> </table> ریال </div> <div style="text-align: center;"> <table border="1" style="margin-bottom: 5px;"> <tr><td>۱۰۰</td></tr> </table> <table border="1" style="margin-bottom: 5px;"> <tr><td>۱۰</td></tr> <tr><td>۱۰</td></tr> <tr><td>۱۰</td></tr> </table> <table border="1" style="margin-bottom: 5px;"> <tr><td>۱</td></tr> <tr><td>۱</td></tr> <tr><td>۱</td></tr> <tr><td>۱</td></tr> </table> ریال </div> </div>	۱۰۰	۱۰۰	۱۰۰	۱۰	۱۰	۱۰	۱۰	۱۰	۱	۱	۱	۱۰۰	۱۰	۱۰	۱۰	۱	۱	۱	۱
۱۰۰																				
۱۰۰																				
۱۰۰																				
۱۰																				
۱۰																				
۱۰																				
۱۰																				
۱۰																				
۱																				
۱																				
۱																				
۱۰۰																				
۱۰																				
۱۰																				
۱۰																				
۱																				
۱																				
۱																				
۱																				
۷	اعداد زیر را به رقم و حروف بنویس . پانصد و هفتاد ۶۰۲ ششصد و نود و یک ۹۴۰																			
۸	حسین ۴۰۰ ریال و مجید ۳۰۰ ریال را در صندوق انداختند . آن ها با هم چند ریال در صندوق انداخته اند ؟																			
۹	خط های زیر را با خط کش اندازه بگیر و بنویس چند میلی متر است . <div style="display: flex; justify-content: space-around; align-items: center;"> <div style="text-align: center;"> _____ میلی متر </div> <div style="text-align: center;"> _____ میلی متر </div> </div>																			

نام مبحث : نمونه سوالات ریاضی دوم ابتدایی نوبت دوم (خرداد ماه)

نام استاد : گردآوری شده توسط همکلاسی



با عدد های ۹، ۲، ۵ تا می توانی اعداد ۳ رقمی بنویسی و دور آن هایی که یکان آن ها ۲ است خط بکشی .

۱۰

.....

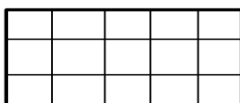
فرایندی	تکنیکی	فرایندی	تکنیکی
۶۵۱	۵۹۲	۴۹۲	۴۲۸
+ ۲۳۲	+ ۲۲۱	- ۲۵۱	- ۱۱۹
.....

۱۱

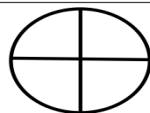
عدد ها را مقایسه کن و علامت مناسب < = > بگذار .

۱۰۰ + ۳۰۰ ○ ۲۰۰ + ۲۰۰ ۲۰۰ + ۷ ○ ۲۲۰ ۳۱۶ ○ ۴۱۵

۱۲



۶ قسمت از ۱۵ قسمت



با توجه به عبارت نوشته شده ، شکل را رنگ بزن .
۲ قسمت از ۴ قسمت

۱۳



در جعبه ی مداد رنگی ۲ مداد قرمز ، ۵ مداد آبی و ۳ مداد سبز وجود دارد .
چه کسری از مداد ها قرمز است ؟
چه کسری از مداد ها آبی است ؟
چه کسری از مداد ها سبز است ؟

۱۴


تعداد دانش آموزان شرکت کننده در رشته های ورزشی یک باشگاه به صورت زیر است .

رشته	والیبال	بسکتبال	فوتبال	کاراته	شنا	ژیمناستیک
تعداد	۶۳	۴۸	۳۳	۳۴	۳۸	۲۱
تعداد تقریبی

ابتدا تعداد تقریبی دانش آموزان را بنویس و نمودار را با نشان دادن هر ۱۰ نفر با شکل کامل کن .



۱۵



بازخورد معلم

خیلی خوب ○ خوب ○ قابل قبول ○ نیاز به تلاش بیشتر ○

ارزشیابی توصیفی