



هم کلاسی  
[Hamkelasi.ir](http://Hamkelasi.ir)

۱ عزیزم، الگوها را ادامه بده.  
 ..... - ..... - ..... ۸۹۰ - ۹۰۰ - ۹۱۰ .....  
 ..... - ..... - ..... ۶۵۰ - ۶۵۵ - ۶۶۰ .....  
 ..... - ..... - ..... ۵۸ - ۶۰ - .....  
 علامت < = > بگذار.

۲  
 ۲۲ + ۴۸ .....  
 ۲۵۶ □ ۲۶۵ ۲۰۰+۱۰+۹۰ □ ۱۰۰+۱۰۰ ۱+۳۶ □ ۳۷  
 ..... □ ۱۰۰+۱+۱+۳+۲+۱+۱+۱

۳ با کارت های ۳ - ۵ - ۸ ، چهار عدد سه رقمی و چهار عدد دورقمی بساز و جدول زیر را کامل کن.

عدد سه رقمی			عدد دورقمی		
زوج یا فرد	حروف	عدد	زوج یا فرد	حروف	عدد

۴ در شمارش ده تا ده تا هر عدد بین چه اعدادی قرار دارد و به کدام عدد نزدیکتر است.  
 ۵۱ بین ..... و ..... و به ..... نزدیکتر است. ۹۸ بین ..... و ..... و به ..... نزدیکتر است. ۲۵۶ بین ..... و ..... و به ..... نزدیکتر است.

۵ در یک کوچه، روی هم ۵ تا دوچرخه و سه چرخه هستند. آن ها روی هم ۱۲ چرخ دارند. در این کوچه چندتا دوچرخه و سه چرخه است؟  
 سه چرخه □ دوچرخه □  
 ..... = تعداد چرخ ها : ..... و ..... : حدس اول  
 ..... = تعداد چرخ ها : ..... و ..... : حدس دوم

۶ مریم از گل فروشی ۳ شاخه گل نرگس، ۴ شاخه گل یاس و ۱۰ شاخه گل سرخ خرید. قیمت گل نرگس شاخه ای ۵۰ ریال، گل یاس شاخه ای ۲۵ ریال و گل سرخ شاخه ای ۱۰ ریال است. مریم چند ریال باید به گل فروش پول بدهد؟ (بارسم شکل و جلونویسی)

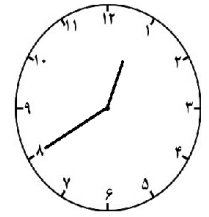
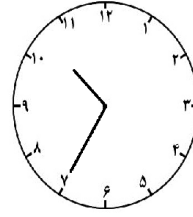
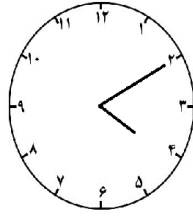
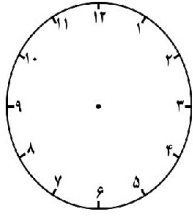
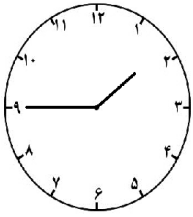
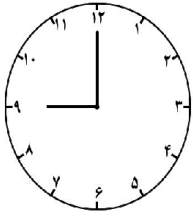
۷ موسی ۸۵۴ سکه داشت. دیروز صبح ۲۶۹ سکه را خرج کرد و امروز ۴۷۱ سکه را خرج کرد. چند سکه برای او باقی مانده است؟

۸ جمع و تفریق های زیر را انجام بده.  
 به روش انتقالی    به روش انتقالی    به روش انتقالی    به روش انتقالی    به روش انتقالی    به روش فرآیندی  
 ۲۵۱    ۸۷۸    ۲۵۳    ۴۷۱    ۹۸۲    ۷۱۵  
 + ۴۳۸    - ۳۲۴    + ۴۳۹    + ۳۹۹    - ۴۴۴    - ۲۹۸

..... تا ..... تای می شود .....

۳ تا ۵ تایی می شود .....

شکل بکش



..... : .....

..... : .....

۰۷ : ۵۵

..... دقیقه گذشته از ساعت .....

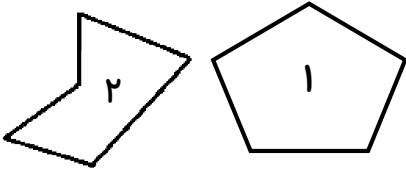
..... دقیقه مانده به ساعت .....

۲۰ دقیقه بعد ← .....



۸۹ میلی متر یعنی ..... سانتی متر و ..... قسمت از ..... قسمت کوچک.

۲۴ میلی متر یعنی ..... سانتی متر و ..... میلی متر

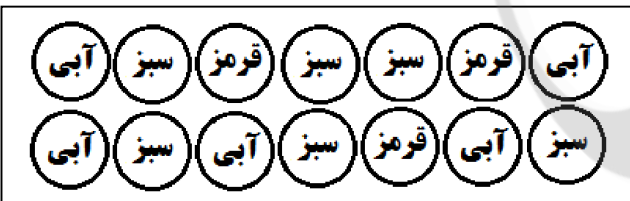


تفاوت و شباهت این دو شکل را بنویس.

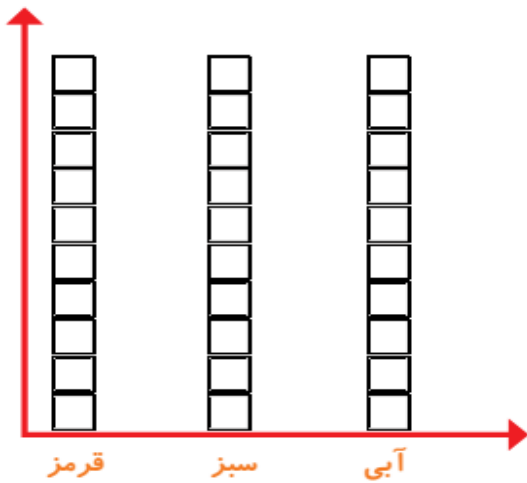
تفاوت: .....

شباهت: .....

جدول زیر را کامل کن و نمودار آن را رسم کن.



تقریب	عدد	چوب خط	
			مهره قرمز
			مهره آبی
			مهره سبز
			جمع کل



اگر بدون نگاه کردن به داخل کیسه، یک مهره انتخاب کنیم،

احتمال بیرون آمدن کدام مهره بیشتر است؟ .....

چرا؟ .....