

نام مبحث : نمونه سوالات علوم اول ابتدایی نوبت دوم (خرداد ماه)

نام استاد : بابا خان زاده

نام و نام خانوادگی

به نام خداوند توانا

آزمون علوم پایه اول اردیبهشت ۹۵

مدیریت آموزش و پرورش دزفول

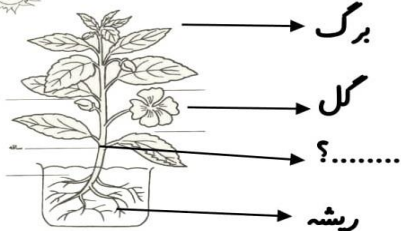
بابا خان زاده



فرزند خوبم! به نظر شما خورشید از چه سمتی می تابد.

با توجه به سایه خورشید را نقاشی کن.


کدام یک تصویر گرما دهنده ی زمین است ؟



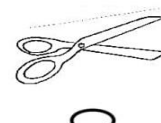
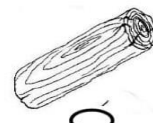
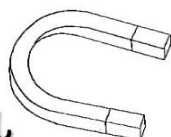
نام قسمتی از گیاه که علامت سوال دارد چیست ؟

چوب بدنه ساقه

کدام جسم در آب فرو می رود ؟ علامت بزنید .






کدام یک از اجسام زیر جذب آهن را نی شود ؟



بابا خان زاده

بابا خان زاده

کدام حیوان گوشت خوار است ؟



کدام جانوران برای انسان مشکلاتی به وجود می آورند ؟



زیر تصویر آلوده کننده های هوا، علامت بگذارید .



کدام یک به هوا احتیاج ندارد ؟



نظر آموزگار کلاس : دانش آموز به تمام انتظارات آموزشی خیلی خوب دست یافته است

دانش آموز به سوال یا سوال های در حد دست یافته است

دانش آموز به سوال یا سوال های در حد دست یافته است

دانش آموز به سوال یا سوال های در حد دست یافته است

بابا خان زاده