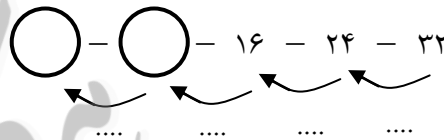
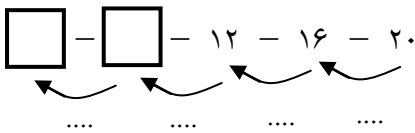




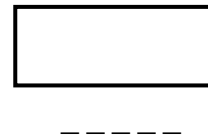


هم کلاسی
Hamkelasi.ir

زمان : (۶۰ دقیقه)

۱ - جاهای خالی را با اعداد مناسب کامل کنید. (۱ نمره)



۲ - نام هر یک از شکل های زیر را بنویسید. (۱ نمره)

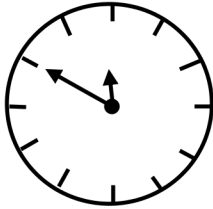


۳ - جدول زیر را کامل کنید. (۲ نمره)

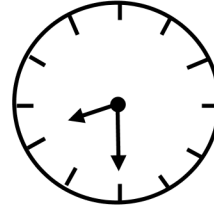
| | | | | | | | | |
|---|---|---|---|---|---|---|---|---|
| ۵ | ۹ | ۱ | ۶ | ۲ | ۴ | ۷ | ۸ | ۳ |
| ۷ | ۸ | ۳ | ۵ | ۹ | ۱ | ۶ | ۲ | ۴ |
| ۶ | ۲ | ۴ | ۷ | ۸ | ۳ | ۵ | ۹ | ۱ |
| ۹ | ۱ | ۵ | ۲ | | ۶ | ۸ | ۳ | ۷ |
| ۸ | ۳ | ۷ | ۹ | ۱ | | | ۴ | ۶ |
| ۲ | ۴ | ۶ | ۸ | ۳ | | | | ۵ |
| ۱ | ۵ | ۹ | ۴ | | | | | ۸ |
| ۳ | ۷ | ۸ | ۱ | ۵ | ۹ | ۴ | ۶ | ۲ |
| ۴ | ۶ | ۲ | ۳ | ۷ | ۸ | ۱ | ۵ | ۹ |

۴ - سعید ۱۸ سیب داشت. او ۹ سیب را داخل ظرف گذاشت. حالا سعید چند سیب دارد؟ (۱ نمره)

۵ - کامل کنید. (۱ نمره)



کمی به ساعت مانده است.



ساعت از گذشته است.

۶ - الف) اعداد زیر را به رقم بنویسید. (۲ نمره)

چهل و یک

پنجاه و هشت

نود و سه

سی و نه

ب) اعداد زیر را به حروف بنویسید.

۲۸

۷۴

۶۶

۱۴

۷ - مقایسه کنید. (۱ نمره)

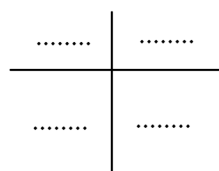

$۲۵ + ۷$ $۱۴ + ۱۰$

$۲۸ - ۹$ $۳۰ - ۱۰$

۸ - عددی بنویسید که از ۲۳ کوچکتر و از ۲۱ بزرگتر باشد. (۱ نمره)

۹ - با شکل زیر دسته‌های ده‌تایی درست کنید. سپس جدول زیر را کامل کنید و عدد مربوط به شکل را به رقم و حروف

بنویسید. (۲ نمره)



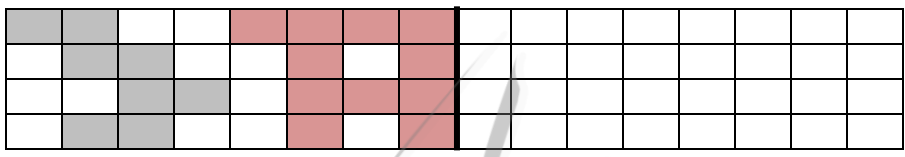
: عدد به رقم

: عدد به حروف

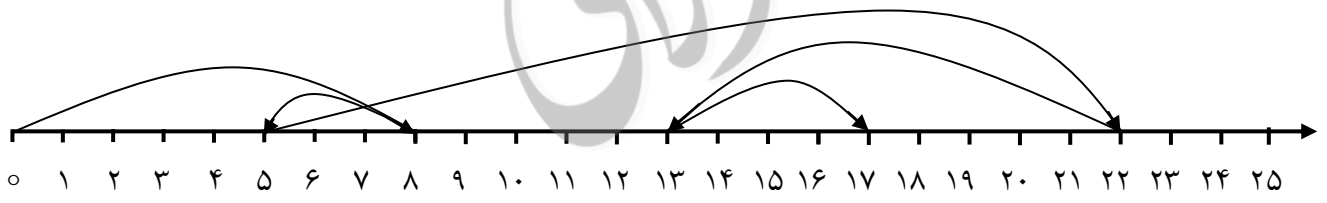
۱۰ - از عدد ۲۰ تا ۶۰ را ۵ تا ۵ بنویسید. (۱ نمره)

۱۱ - یک اتوبوس ۴۴ صندلی دارد. ۳۰ نفر مسافر در اتوبوس بودند که به ایستگاه رسید. ۹ نفر از اتوبوس پیاده شدند. حالا اتوبوس چند صندلی خالی دارد؟ (۲ نمره)

۱۲ - نیمه‌ی دیگر شکل زیر را طوری کامل کنید که هر دو نیمه قرینه‌ی یکدیگر باشند. (۱ نمره)

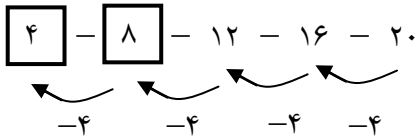


۱۳ - برای محور زیر عملیات مناسب بنویسید. (۲ نمره)

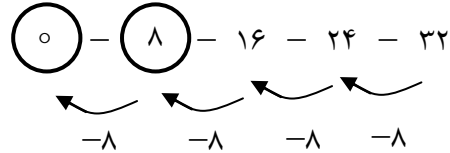


۱۴ - علی ۵ بسته‌ی ۴ تایی شکلات گردویی و ۳ بسته‌ی ۳ تایی شکلات فندقی دارد. علی روی هم چند شکلات دارد؟ (۲ نمره)

(۰/۲۵) (۰/۲۵)




(۰/۲۵) (نمره) (۰/۲۵) (نمره)



حل:

- ۱

(۰/۲۵) (نمره)




مربع

(۰/۲۵) (نمره)



مثلث

(۰/۲۵) (نمره)



دایره

(۰/۲۵) (نمره)



مستطیل

حل:

- ۲

| | | | | | | | | |
|---|---|---|---|---|---|---|---|---|
| ۵ | ۹ | ۱ | ۶ | ۲ | ۴ | ۷ | ۸ | ۳ |
| ۷ | ۸ | ۳ | ۵ | ۹ | ۱ | ۶ | ۲ | ۴ |
| ۶ | ۲ | ۴ | ۷ | ۸ | ۳ | ۵ | ۹ | ۱ |
| ۹ | ۱ | ۵ | ۲ | ۴ | ۶ | ۸ | ۳ | ۷ |
| ۸ | ۳ | ۷ | ۹ | ۱ | ۵ | ۲ | ۴ | ۶ |
| ۲ | ۴ | ۶ | ۸ | ۳ | ۷ | ۹ | ۱ | ۵ |
| ۱ | ۵ | ۹ | ۴ | ۶ | ۲ | ۳ | ۷ | ۸ |
| ۳ | ۷ | ۸ | ۱ | ۵ | ۹ | ۴ | ۶ | ۲ |
| ۴ | ۶ | ۲ | ۳ | ۷ | ۸ | ۱ | ۵ | ۹ |

(۲ نمره)

حل:

- ۳

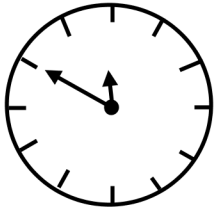
$۱۸ - ۹ = ۹$

(۱ نمره)

حل: سعید ۹ سیب دارد.

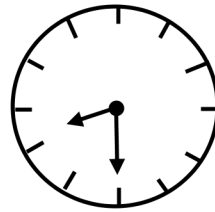
- ۴

۵ - حل:



کمی به ساعت ۱۲ مانده است.

(۰/۵ نمره)



ساعت از ۸ گذشته است.

(۰/۵ نمره)

۶ -

حل: الف)

چهل و یک ۴۱ (۰/۲۵ نمره)

پنجاه و هشت ۵۸ (۰/۲۵ نمره)

نود و سه ۹۳ (۰/۲۵ نمره)

سی و نه ۳۹ (۰/۲۵ نمره)

بیست و هشت ۲۸ (۰/۲۵ نمره)

ب) هفتاد و چهار ۷۴ (۰/۲۵ نمره)

شصت و شش ۶۶ (۰/۲۵ نمره)

چهارده ۱۴ (۰/۲۵ نمره)

۷ -

حل:

$$\underbrace{25+7}_{32} > \underbrace{14+10}_{24}$$

(۰/۵ نمره)

$$\underbrace{28-9}_{19} < \underbrace{30-10}_{20}$$

(۰/۵ نمره)

۸ -


حل:

(۱ نمره)

۲۲

۹ -

حل:



(۰/۵ نمره)

| ده تایی | یکی |
|---------|-----|
| ۳ | ۶ |

(۰/۵ نمره)

عدد به رقم: ۳۶ (۰/۵ نمره)

عدد به حروف: سی و شش (۰/۵ نمره)

۱۰ -
حل:

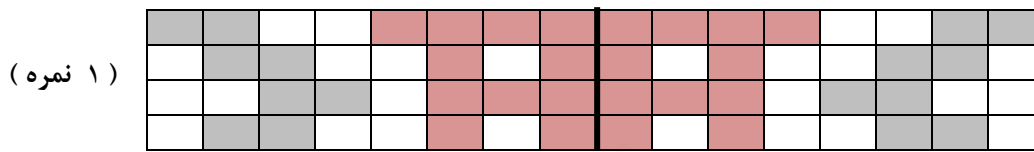
۲۰-۲۵-۳۰-۳۵-۴۰-۴۵-۵۰-۵۵-۶۰ (۱ نمره)

۱۱ -
حل:

۴۴-۳۰=۱۴ از ابتدا ۱۴ صندلی خالی بود. (۱ نمره)

۱۴+۹=۲۳ حالا اتوبوس ۲۳ صندلی خالی دارد. (۱ نمره)

۱۲ -
حل:



۱۳ -
حل:

(۲ نمره)

$$\begin{array}{r} 13 \\ \hline 8-3+17-9+4=17 \\ \hline 5 \\ \hline 22 \end{array}$$

۱۴ -
حل:

شکلات گردویی = ۲۰

شکلات فندقی = ۹

علی روی هم ۲۹ شکلات دارد. $20+9=29$

(۲ نمره)