

نام مبحث : نمونه سوالات ریاضی اول ابتدایی نوبت دوم (خرداد ماه)

نام مدرسه : دبستان صا ایران

به نام خدا

نام و نام خانوادگی:..... ارزشیابی ریاضی کلاس اول دبستان صا ایران اردیبهشت ۹۶

۱- سمت راست درخت یک خانه بکش که از درخت کوتاه تر باشد.



۲- دومین گل از سمت چپ را رنگ کن.



۳- برای شکل دو جمع بنویس.



..... + ..... = .....

..... + ..... = .....

۴- در جای خالی عدد مناسب بنویس.

$$9 - \dots = 7$$

$$\dots + 2 = 4$$

$$\dots - 1 = 8$$

$$6 + 2 = \dots$$

۵- در جای خالی عدد مناسب بنویس.

..... ده تایی و ..... یکی می شود ۲۳

۱۷ می شود ..... یکی و ..... ده تایی

یک دسته ی چهار تایی برابر است با ..... یکی.

۸۰ برابر است با ..... ده تایی

نام مبحث : نمونه سوالات ریاضی اول ابتدایی نوبت دوم (خرداد ماه)

نام مدرسه : دبستان صا ایران

۶- آرزو در گلدان ۵ گل قرمز و ۳ گل سفید گذاشت.

آرزو در گلدان چند گل گذاشته است؟.....



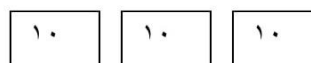

۷- اعداد قبل و بعد را بنویس.

..... - ..... - ۲۴ - ..... - .....

..... - ..... - ۷۱ - ..... - .....




۸- دور دسته بیش تر خط بکش و دو طرف علامت عدد مناسب بنویس.



..... < .....



۹- برای شکل دو جمع مناسب بنویس.



..... + ..... = .....

..... + ..... = .....

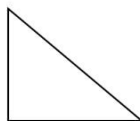


۱۰- ۹ شمع روی کیک تولد آزاده بود. آزاده ۶ تای آن ها را خاموش کرد . چند شمع روشن مانده

است؟.....



۱۱- مربع را آبی و مثلث را سبز و دایره را در خط بسته بگذار.



نام مبحث : نمونه سوالات ریاضی اول ابتدایی نوبت دوم (خرداد ماه)

نام مدرسه : دبستان صا ایران

۱۲- پدر فرزانه یک مداد ۷ ریالی خرید. مقدار پولی را که او به فروشنده داده است در خط بسته

بگذار.



۱۳- جاهای خالی را به طور مناسب پر کن.

	۷۸		۱۸
شصت و سه		پنجاه و دو	

۱۴- برای عدد ۴۵ جدول و شکل بکش و با حروف بنویس.

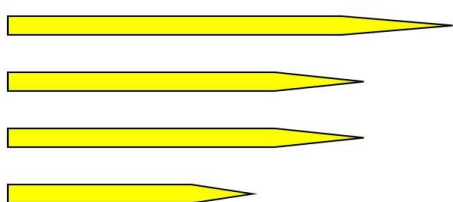
با حروف .....

۱۵- جمله ها را با سبک تر و سنگین تر کامل کن.

ماشین از هواپیما ..... است.

گل از گلدان ..... است.

۱۶- جمله ها را با بلند ترین و کوتاه ترین کامل کن.



مداد آزاده ..... مدادها است.  
 مداد منیژه ..... مدادها است.  
 مداد فرزانه  
 مداد مریم  
 مداد منیژه