

نام مبحث : نمونه سوالات ریاضی اول ابتدایی نوبت دوم (خرداد ماه)

نام استاد : آقای هفتانی

باسمه تعالی

نام و نام خانوادگی:


تاریخ: ۱۳۹۷/۲/۲۲

دبستان: شهید مطهری دوره اول کهنک


آزمون: ریاضی

آموزگار: آقای هفتانی

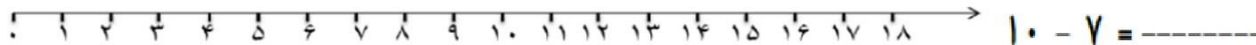
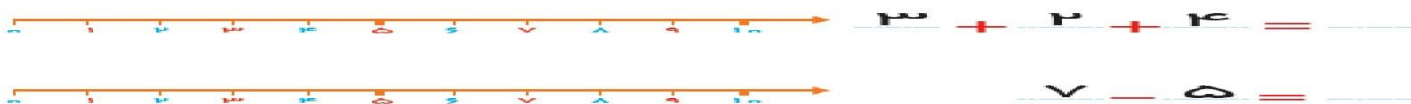
۱- پسر گلم جاهای خالی را با عدد مناسب پر کن.



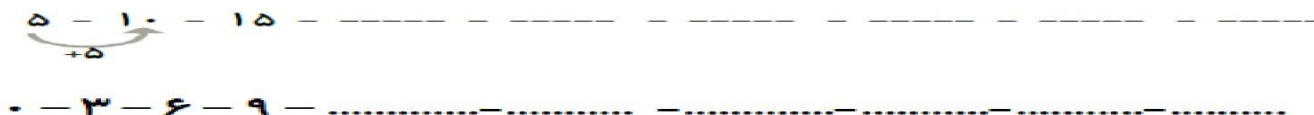
۲- عزیزم پاسخ هر قسمت را بنویس و مقایسه کن و علامت کمتر و بیشتر را انتخاب کن.



۳- عزیز دلم به کمک محور جمع یا تفریق کن.



۴- پسر گلم الگوهای زیر را ادامه بده.






نام مبحث : نمونه سوالات ریاضی اول ابتدایی نوبت دوم (خرداد ماه)

نام استاد : آقای هفتانی

۵- عزیزم حاصل جمع های زیر را بدست بیاور و چوب خط آن را بگذار.

 $9 + 8 = \underline{\quad}$

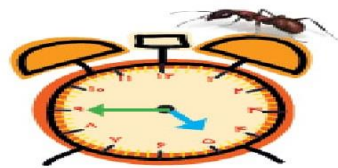
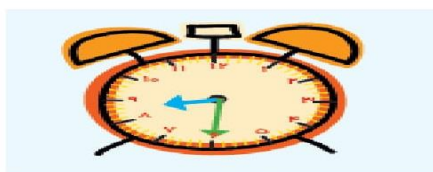
  
 $4 + 2 + 5 + 3 =$

۶- عزیز دلم برای جدول زیر شکل بکش.


۳۹


۴۷

۷- گل پسرمان ساعت های زیر را بنویس.



۸- گل پسرمان حروف را به عدد تبدیل کن.

چهل و سه

نوزده

یازده 

پنجاه و هفت

سی و یک

بیست

۹- گل پسرمان جاهای خالی را پر کن.

$20 + 5 + 10 - 10 = \underline{\quad}$

$10 + 5 + 3 = \underline{\quad}$

$20 + 20 + 10 + 5 = \underline{\quad}$

$10 + 20 + 5 + 4 = \underline{\quad}$

۱۰- عزیز دلم چوپانی ۸ گوسفند داشت، صاحب گله ۹ گوسفند دیگر را از بازار خرید و به چوپان داد. حالا چوپان چند گوسفند را نگهداری می کند؟

موفق و سربلند باشید