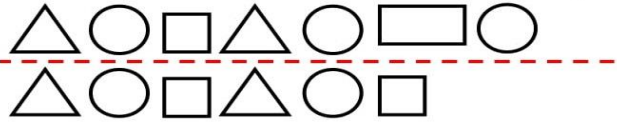
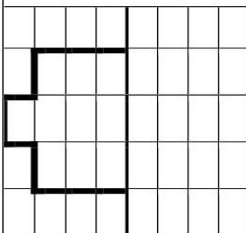
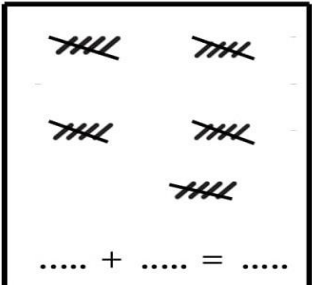
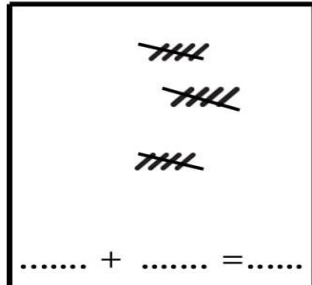


نام مبحث : نمونه سوالات ریاضی اول ابتدایی نوبت دوم (خرداد ماه)




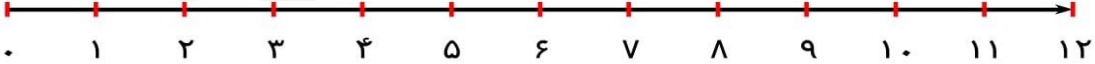
نام استاد : گرد آوری شده توسط همکلاسی

 <p>وزارت آموزش و پرورش جمهوری اسلامی اداره آموزش و پرورش شهرستان دبستان</p>	<p>بسمه تعالی نام درس: ریاضی نام و نام خانوادگی: مقطع: ابتدایی، دوره ی اول پایه: اول</p>
<p>صفحه: تاریخ امتحان: ۱۳۹۵/۲/ ساعت امتحان: مدت امتحان: دقیقه آموزگار مربوطه:</p>	

ردیف	سوالات																																				
۱	<p>ردیفی که الگوی منظم دارد را انتخاب کن و آن را ادامه بده .</p> 																																				
۲	<p>در جاهای خالی عدد مناسب بنویس تا مربع شگفت انگیز کامل شود .</p> <table border="1" style="width: 100%; text-align: center;"> <tr> <td>۵</td> <td>۱</td> <td></td> <td>۳</td> <td>۲</td> <td>۶</td> </tr> <tr> <td>۶</td> <td>۳</td> <td></td> <td></td> <td>۴</td> <td>۵</td> </tr> <tr> <td>۴</td> <td></td> <td>۳</td> <td>۵</td> <td>۱</td> <td></td> </tr> <tr> <td>۱</td> <td></td> <td>۵</td> <td>۴</td> <td>۶</td> <td>۳</td> </tr> <tr> <td>۲</td> <td>۵</td> <td>۱</td> <td>۶</td> <td></td> <td>۴</td> </tr> <tr> <td>۳</td> <td>۴</td> <td></td> <td>۲</td> <td>۵</td> <td>۱</td> </tr> </table>	۵	۱		۳	۲	۶	۶	۳			۴	۵	۴		۳	۵	۱		۱		۵	۴	۶	۳	۲	۵	۱	۶		۴	۳	۴		۲	۵	۱
۵	۱		۳	۲	۶																																
۶	۳			۴	۵																																
۴		۳	۵	۱																																	
۱		۵	۴	۶	۳																																
۲	۵	۱	۶		۴																																
۳	۴		۲	۵	۱																																
۳	<p>عددهای نوشته شده در جدول را به شکلی که خواسته شده (رقم و حروف) بنویس و جدول را کامل کن.</p> <table border="1" style="width: 100%; text-align: center;"> <tr> <td>۱۸</td> <td></td> <td>۹۲</td> <td></td> </tr> <tr> <td></td> <td>شصت و شش</td> <td></td> <td>چهل و نه</td> </tr> </table>	۱۸		۹۲			شصت و شش		چهل و نه																												
۱۸		۹۲																																			
	شصت و شش		چهل و نه																																		
۴	<p>نیمه ی دیگر شکل را کامل کن .</p> 																																				
۵	<p>جمع کن و در جاهای خالی عدد و علامت < = > مناسب بگذار.</p> <div style="display: flex; align-items: center; justify-content: space-around;"> <div style="border: 1px solid black; padding: 5px;">  <p>..... + =</p> </div> <div style="font-size: 2em;">○</div> <div style="border: 1px solid black; padding: 5px;">  <p>..... + =</p> </div> </div>																																				

نام مبحث : نمونه سوالات ریاضی اول ابتدایی نوبت دوم (خرداد ماه)

نام استاد : گرد آوری شده توسط همکلاسی

	<p>الگوراپیداکن وگام های بعدی الگوراادامه بده</p> <p>۵۵ - - - ۳۵ - ۳۰ - ۲۵</p> <p>۶۶ - ۶۴ - ۶۲ - - -</p>	۶
	<p>باتوجه به شکل درجاهای خالی عددیاعبارت مناسب بنویس</p> <p>باعدد :</p> <p>باحروف :</p> <p>یکی ده تایی</p> 	۷
	<p>نام هریک از شکل هارا بنویس</p>  <p>.....</p>	۸
	<p>زمانی که هریک از ساعت هانشان میدهدرابنویس.</p>  <p>ساعت است کمی به ساعت مانده است</p>	۹
	<p>مهرشاد ۹ بسته ی ده تایی مدادخرید ،مهرشاز چندعددمدادخریده است ؟</p>	۱۰
	<p>نگین ۱۱ شاخه کل به کلاس آوردو ۵ شاخه راروی میزآموزگار گذاشت. باکمک محورنشان دهیدکه چندشاخه گل هنوزدردستش باقی مانده است؟</p> 	۱۱
	<p>تعداد : با آرزوی موفقیت برای شما دانش آموز سخت کوش</p>	

نتیجه ی ارزشیابی : خیلی خوب خوب قابل قبول نیاز به تلاش بیشتر