

نام :

وزارت آموزش و پرورش

تاریخ آزمون:

نام خانوادگی:

اداره کل آموزش و پرورش استان خوزستان

پایه: پنجم ابتدایی

نام آموزگار: مهرانگیز رحیمی رضائی

اداره آموزش و پرورش ناحیه ۲ اهواز

زمان: ۵۰ دقیقه

دبستان: شاهد لاله های امام ارزشیابی مداد- کاغذی درس مطالعات اجتماعی نیمه اول سال تحصیلی ۱۴۰۱-۱۴۰۲ تعداد صفحات: ۳

الف- فرزندم! درست و نادرست بودن جمله ها را مشخص کن.

درست نادرست

۱- در قانون اساسی، روش اداره ی کشور مشخص شده است.

۲- شادی احساسی است که فقط دیگران درما به وجود می آورند.

۳- اغلب تصادفات بر اثر سرعت غیرمجاز رخ می دهند.

۴- نمایندگان مجلس شورای اسلامی هر چهار سال یک بار با رای مردم انتخاب می شوند.

ب- دلبندم! گزینه ی مناسب را انتخاب کن.

۱- مهم ترین راه ارتباط انسان ها با یکدیگر کدام است؟

الف- همدلی ب- گفت و گو ج- مشورت د- شنونده

۲- کدام مورد از وظایف قوه ی مقننه است؟

الف- اجرای قوانین ب- ساختن جاده و پل

ج- قانون گذاری د- نظارت بر اجرای درست قوانین

۳- مهم ترین منبع آب شیرین کدام است؟

الف- قنات ب- چشمه ج- رودها د- چاه

۴- به خرید و فروش در داخل یک کشور یا با کشورهای دیگر چه می گویند؟

الف- واردات ب- صادرات ج- حمل و نقل د- بازرگانی

پ- دلبندم! جمله ها را با کلمات مناسب کامل کن.

۱- ترس های به جا از انسان می کنند.

۲- به مجموعه افرادی که در یک جا زندگی می کنند..... می گویند.

۳- به گروهی که برای انجام دادن کاری با یکدیگر مشورت می کنند می گویند.

۴- میزان تبخیر و آلودگی آب کمتر است.

ت- فرزندم! واردات و صادرات ایران را وصل کن.

خشکبار	صادرات	مس
دارو		وسایل برقی
کاغذ	واردات	پتروشیمی

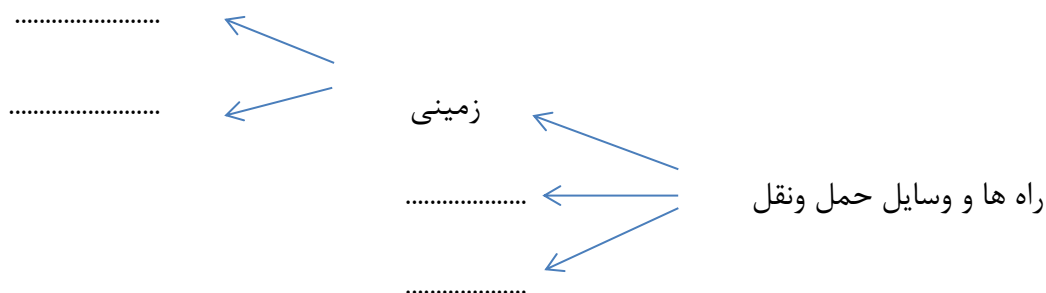
ث- نازنینم! مفاهیم را تعریف کن.

الف- گروه:

ب- همدلی:

ج- صنایع مصرفی:

و- فرزندم! نمودار را کامل کن.



ه- دلبندم! پاسخ پرسش های زیر را کامل بنویس.

۱- دومورد از ترس های به جا را بنویس.

۲- برای برطرف کردن احساس غم چه راه هایی وجود دارد؟ (۳مورد)

۳- عوامل جذب کننده ی جمعیت را بنویس. (۴ مورد)

۴- دو نمونه از مصرف نادرست آب در زندگی روزانه را بنویس.

۵- نام موسسه های زیر را بنویس . وظیفه ی یکی را به دلخواه بنویس.



.....

.....

۶- با توجه به نقشه پاسخ پرسش هارا بنویس.

۱- دریای درشمال ایران:

۲- دریای درجنوب ایران:

۳- رودی که به خلیج فارس می ریزد.

۴- یکی از رودهایی که به دریاچه ی ارومیه می ریزد.



انتظارات	خ خ	خ	ق ق	ن
راه برقراری ارتباط را می داند.				
احساسات و راه های غلبه بر آن را می شناسد.				
به سوالات مربوط به آب ها ورودها به درستی پاسخ می دهد.				
مفهوم همدلی و گروه را می داند.				
عوامل جذب کننده ی جمعیت را می شناسد.				
صنایع مصرفی را تعریف می کند.				
با انواع راه ها آشنایی دارد.				
صادرات و واردات ایران را تشخیص می دهد.				
موسسه ها و وظایف آن ها را می شناسد.				
وظیفه ی قوای سه گانه را می داند.				
به سوالات نقشه پاسخ می دهد.				

..... بازخورد آموزگار:

الف- فرزندم! درست و نادرست بودن جمله ها را مشخص کن.

درست نادرست

<input type="checkbox"/>	<input checked="" type="checkbox"/>
<input checked="" type="checkbox"/>	<input type="checkbox"/>
<input type="checkbox"/>	<input checked="" type="checkbox"/>
<input type="checkbox"/>	<input checked="" type="checkbox"/>

- ۱- در قانون اساسی، روش اداره ی کشور مشخص شده است.
- ۲- شادی احساسی است که فقط دیگران درما به وجود می آورند.
- ۳- اغلب تصادفات بر اثر سرعت غیرمجاز رخ می دهند.
- ۴- نمایندگان مجلس شورای اسلامی هر چهار سال یک بار با رای مردم انتخاب می شوند.

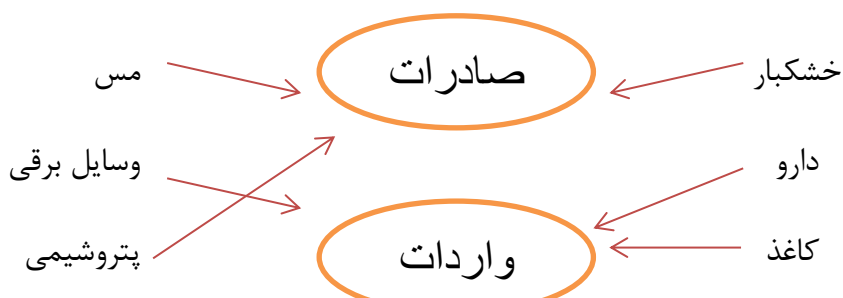
ب- دلبندم! گزینه ی مناسب را انتخاب کن.

- ۱- مهم ترین راه ارتباط انسان ها با یکدیگر کدام است؟
الف- همدلی ب- گفت وگو ج- مشورت د- شنونده
- ۲- کدام مورد از وظایف قوه ی مقننه است؟
الف- اجرای قوانین ب- ساختن جاده وپل
ج- قانون گذاری د- نظارت بر اجرای درست قوانین
- ۳- مهم ترین منبع آب شیرین کدام است؟
الف- قنات ب- چشمه ج- رودها د- چاه
- ۴- به خرید و فروش در داخل یک کشور یا با کشورهای دیگر چه می گویند؟
الف- واردات ب- صادرات ج- حمل و نقل د- بازرگانی

پ- دلبندم! جمله ها را با کلمات مناسب کامل کن.

- ۵- ترس های به جا از انسان **محافظت** می کنند.
- ۶- به مجموعه افرادی که در یک جا زندگی می کنند..... **جمعیت** می گویند.
- ۷- به گروهی که برای انجام دادن کاری با یکدیگر مشورت می کنند **شورا** می گویند.
- ۸- میزان تبخیر و آلودگی آب **قنات** کمتر است.

ت- فرزندم! واردات و صادرات ایران را وصل کن.



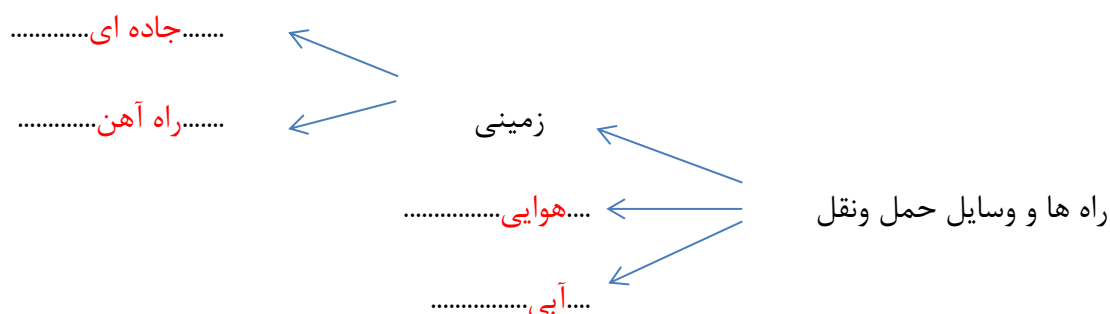
ث - نازنینم! مفاهیم را تعریف کن.

الف- گروه: گروه از تعدادی افراد تشکیل می شود که فعالیت های مشترکی دارند و برای رسیدن به هدفی مشترک با هم ارتباط برقرار می کنند.

ب- همدلی: یعنی اینکه فرد بتواند احساسات، رفتار و شرایط دیگری را درک کند و خودش را به جای او بگذارد.

ج- صنایع مصرفی: صنایع مصرفی کالاهایی تولید می کنند که مردم آنها را می خرند و به طور مستقیم مصرف می کنند یا مورد استفاده قرار می دهند.

و - فرزندم! نمودار را کامل کن.



ه - دلبندم! پاسخ پرسش های زیر را کامل بنویس.

۵- دو مورد از ترس های به جا را بنویس. ترس از حیوانات درنده، ترس از بلندی و ترس از صداهای وحشتناک و مهیب.

۶- برای برطرف کردن احساس غم چه راه هایی وجود دارد؟ (۳ مورد)

دعا کردن و از خداوند بزرگ کمک خواستن - درباره ی احساس اندوه خود نوشتن یا نقاشی کشیدن، کمک از بزرگ ترها و مشورت با آن ها.

۷- عوامل جذب کننده ی جمعیت را بنویس. (۳ مورد) دانشگاه - بیمارستان مجهز - فروشگاه های بیشتر

۸- دو نمونه از مصرف نادرست آب در زندگی روزانه را بنویس.

شستن حیاط و اتومبیل - باز گذاشتن شیرآب هنگام مسواک زدن.

۵- نام موسسه های زیر را بنویس. وظیفه ی یکی را به دلخواه بنویس.

سازمان انتقال خون ایران وظیفه ی گرفتن خون از داوطلبان و انتقال آن به درمانگاه ها و بیمارستان ها را برعهده دارد.



۹- با توجه به نقشه پاسخ پرسش هارابنویس.

۵- دریایی درشمال ایران: دریای خزر

۶- دریایی درجنوب ایران: دریای عمان

۷- رودی که به خلیج فارس می ریزد. اروندرود

۸- یکی از رودهایی که به دریاچه ی ارومیه می ریزد. تلخه رود- زرینه رود- سیمینه رود (یک مورد)