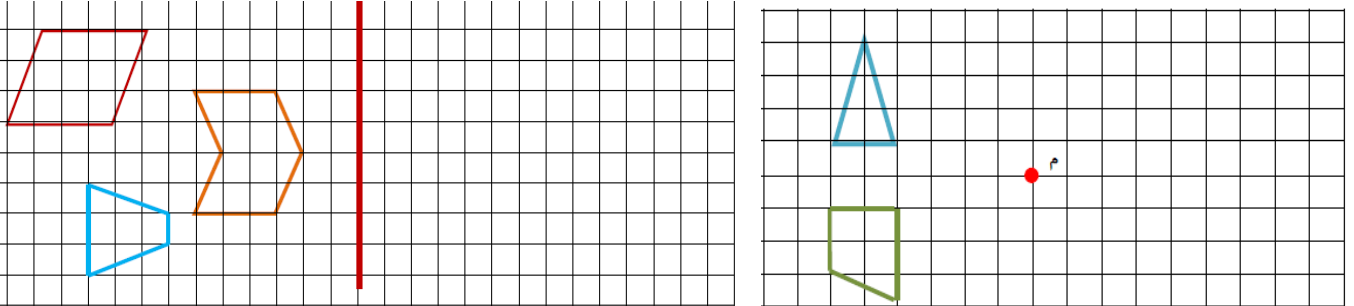


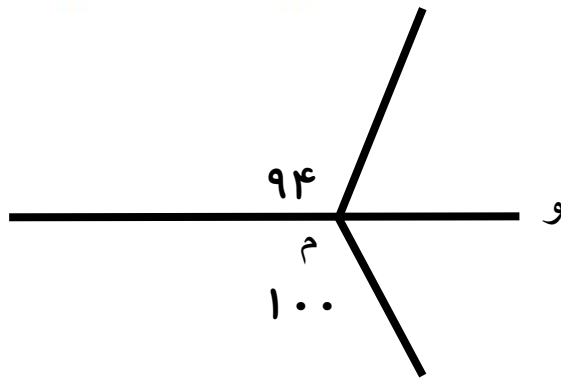
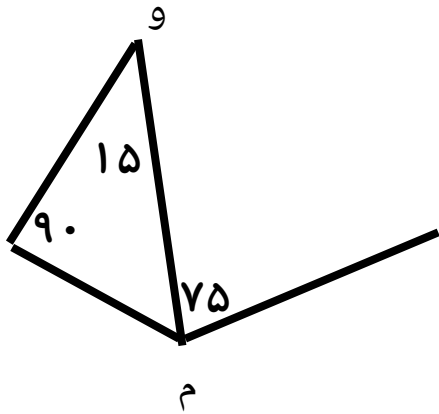
به نام خدا

تکلیف مرور فصل چهارم پایه پنجم پایه ششم دبستان دخترانه شهید مهدوی کرمان

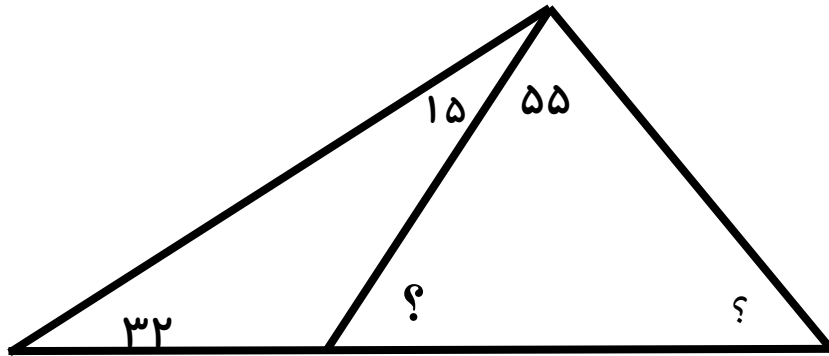
قرینه هر شکل را نسبت به خط تقارن یا نقطه تقارن رسم کنید.



در کدام یک از شکل های نیم خط (م و و) نیم ساز زاویه (م) است .



در این شکل زوایای خواسته شده را محاسبه کنید.



کدام دسته میتواند زوایای داخلی مثلث باشد

ب) ۶۰، ۹۰، ۵۰

الف) ۷۰، ۶۰، ۳۰

د) ۱۰۹، ۵۱، ۱۶

ج) ۹۰، ۶۳، ۲۷

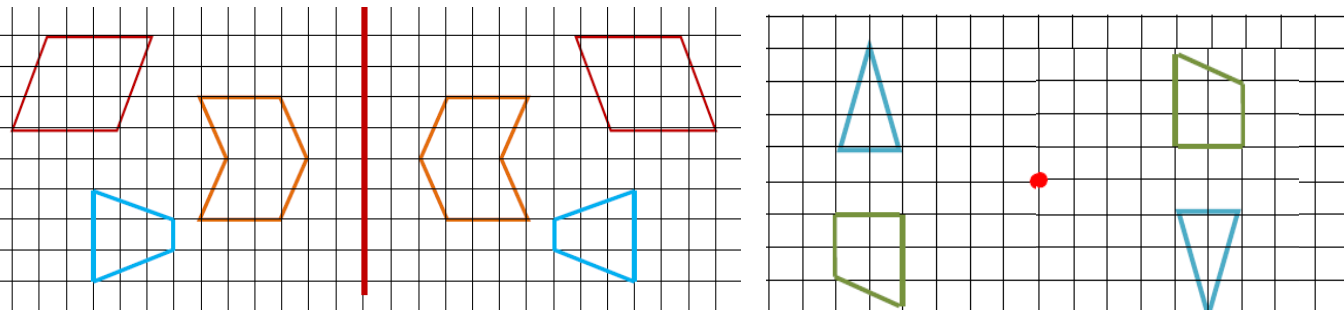


خدا قوت دخترم - انجم شعاع

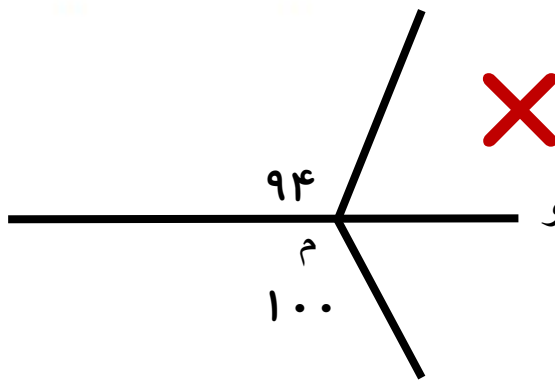
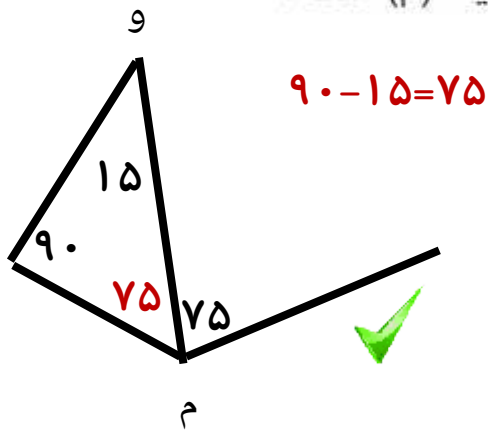
به نام خدا

پاسخنامه تکلیف مرور فصل چهارم پایه پنجم پایه ششم دبستان دخترانه شهید مهدوی کرمان

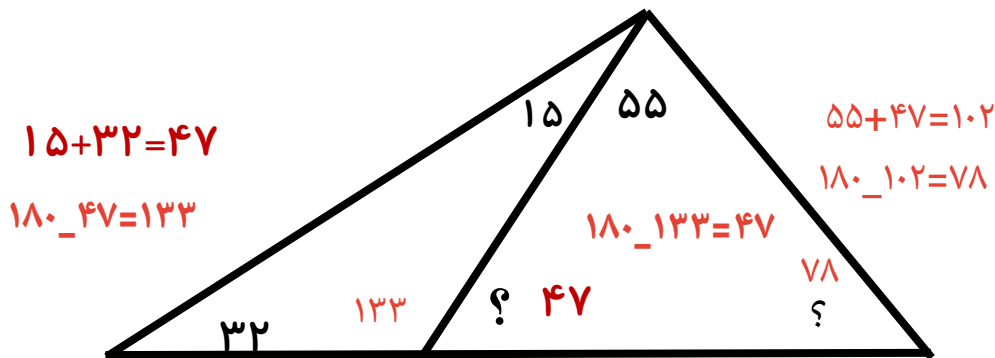
قرینه هر شکل را نسبت به خط تقارن یا نقطه تقارن رسم کنید.



در کدام یک از شکل های نیم خط (م و و) نیم ساز زاویه (م) است .



در این شکل زوایای خواسته شده را محاسبه کنید.



کدام دسته میتواند زوایای داخلی مثلث باشد .

ب) ۶۰، ۹۰، ۵۰

الف) ۷۰، ۶۰، ۳۰

د) ۱۰۹، ۵۱، ۱۶

ج) ۹۰، ۶۳، ۲۷ ✓



خدا قوت دخترم - انجم شعاع