



۲۵۱ عدد بیست و سی و هشت صدم، کدام است؟

- الف) $0/۲۳۸$ (ب) $۲۰/۳۸$ (ج) $۲/۳۸$ (د) $۲۰۰/۳۸$

۲۵۲ نمایش اعشاری عدد $۳\frac{۳}{۸}$ کدام است؟

- الف) $۳/۳۷۵$ (ب) $۳/۷۵$ (ج) $۳۷/۵$ (د) $۳/۳۷$

۲۵۳ کدام یک از کسرهای زیر را نمی‌توان به عدد اعشاری تبدیل کرد؟

- الف) $\frac{۳}{۴}$ (ب) $\frac{۵}{۸}$ (ج) $\frac{۳}{۱۵}$ (د) $\frac{۲}{۱۴}$

۲۵۴ عدد $۲/۱$ یعنی چندتا $۱/۰۰۰$ ؟

- الف) ۲۱ (ب) ۲۱۰ (ج) ۲۱۰۰ (د) ۲۱۰۰۰

۲۵۵ گسترده‌نویسی در کدام گزینه درست انجام شده است؟

- الف) $۵/۰۳۱ = ۵ + ۰/۳ + ۰/۰۱$ (ب) $۲۰/۷۰۵ = ۲۰ + ۰/۷ + ۰/۰۵$
ج) $۱۲/۰۸ = ۱۰ + ۲ + ۰/۰۸$ (د) $۱۱/۰۲ = ۱۱ + ۰/۰۲$

$۰/۸۵, ۱/۰۲, ۱/۲۴, ۱/۳۱, ۱/۵, ۰/۹$

۲۵۶ چندتا از اعداد روبه‌رو، بین ۱ و $۱/۳$ قرار دارند؟

- الف) ۲ (ب) ۳ (ج) ۴ (د) ۵

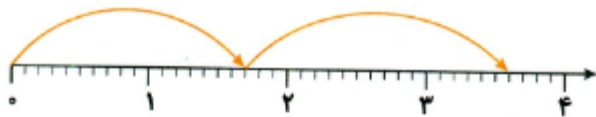
۲۵۷ الهام روی تلفن همراه خود برنامه‌ای دارد که مقدار مسافتی را که طی می‌کند، به او نشان

می‌دهد. او از خانه‌ی مادر بزرگش به خانه‌ی خودشان باز می‌گردد و برنامه نشان می‌دهد

که او ۱۲۳۴ متر حرکت کرده است. او چند کیلومتر حرکت کرده است؟

- الف) $۰/۱۲۳۴$ (ب) $۱/۲۳۴$
ج) $۱۲/۳۴$ (د) $۱۲۳/۴$





۲۵۸ محور روبه‌رو، کدام جمع زیر را نشان می‌دهد؟

- الف) $1/8 + 1/8$ (ب) $1/7 + 3/6$
ج) $1/7 + 1/8$ (د) $1/7 + 1/9$

۲۵۹ $5/23 + 8/041 + 12/07 = ?$

حاصل عبارت روبه‌رو، بین کدام دو عدد صحیح متوالی قرار دارد؟

- الف) ۲۳، ۲۴ (ب) ۲۶، ۲۷ (ج) ۲۵، ۲۶ (د) ۲۴، ۲۵

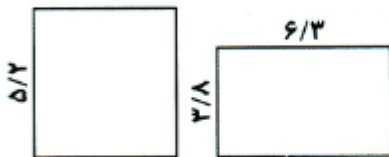
۲۶۰ $9/23 + 7/7 + 8/46 + 12/56 = ?$

حاصل جمع روبه‌رو، به‌طور تقریبی چند است؟

- الف) ۳۹ (ب) ۳۸ (ج) ۳۶ (د) ۳۷

۲۶۱ تفاضل بزرگ‌ترین و کوچک‌ترین اعدادی که با ارقام ۲، ۴، ۵، ۷ و ۹ درست شده‌اند و دارای مرتبه‌های یکان، دهم و صدم می‌باشند، کدام است؟

- الف) $6/3$ (ب) $7/31$ (ج) $7/3$ (د) $7/01$



۲۶۲ در شکل‌های زیر، محیط مربع بیش‌تر است یا مستطیل و چه قدر؟

- الف) مستطیل - $10/7$ (ب) مستطیل - $0/6$
ج) مربع - $3/1$ (د) مربع - $0/6$

$$\begin{array}{r} 8 \ / \ \square 5 \\ + 0 \ / \ 7 6 \\ \hline \square \ / \ 2 \ \square \end{array}$$

۲۶۳ مجموع رقم‌هایی را که می‌توان در جاهای خالی قرار داد، کدام است؟

- الف) ۱۴ (ب) ۱۳ (ج) ۱۵ (د) ۱۲

۲۶۴ در شکل زیر، نماد \rightarrow یعنی عدد قبلی را باید با $2/9$ جمع کنیم و نماد \Rightarrow یعنی باید از عدد قبلی $3/8$ کم کنیم. حاصل مربع آخر کدام است؟



- الف) $7/8$ (ب) $15/5$
ج) $12/6$ (د) $8/8$

۲۶۵ $13/14 \times 8/8 = ?$

اختلاف حاصل ضرب تقریبی و دقیق مقابل کدام است؟

- الف) $1/632$ (ب) $11/632$ (ج) $0/368$ (د) $1/368$



۲۵۱ عدد بیست و سی و هشت صدم، کدام است؟

- الف) $0/۲۳۸$ (ب) $۲۰/۳۸$ (ج) $۲/۳۸$ (د) $۲۰۰/۳۸$

۲۵۲ نمایش اعشاری عدد $۳\frac{۳}{۸}$ کدام است؟

- الف) $۳/۳۷۵$ (ب) $۳/۷۵$ (ج) $۳۷/۵$ (د) $۳/۳۷$

۲۵۳ کدام یک از کسرهای زیر را نمی توان به عدد اعشاری تبدیل کرد؟

- الف) $\frac{۳}{۴}$ (ب) $\frac{۵}{۸}$ (ج) $\frac{۳}{۱۵}$ (د) $\frac{۲}{۱۴}$

۲۵۴ عدد $۲/۱$ یعنی چندتا $۱/۰۰۰$ ؟

- الف) ۲۱ (ب) ۲۱۰ (ج) ۲۱۰۰ (د) ۲۱۰۰۰

۲۵۵ گسترده نویسی در کدام گزینه درست انجام شده است؟

- الف) $۵/۰۳۱ = ۵ + ۰/۳ + ۰/۰۱$ (ب) $۲۰/۷۰۵ = ۲۰ + ۰/۷ + ۰/۰۵$
 ج) $۱۲/۰۸ = ۱۰ + ۲ + ۰/۰۸$ (د) $۱۱/۰۲ = ۱۱ + ۰/۰۲$

$۰/۸۵, ۱/۰۲, ۱/۲۴, ۱/۳۱, ۱/۵, ۰/۹$

۲۵۶ چندتا از اعداد روبه‌رو، بین ۱ و $۱/۳$ قرار دارند؟

- الف) ۲ (ب) ۳ (ج) ۴ (د) ۵

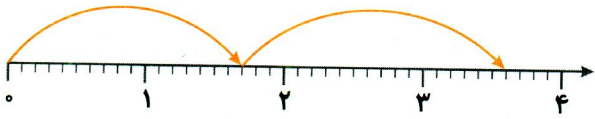
۲۵۷ الهام روی تلفن همراه خود برنامه‌ای دارد که مقدار مسافتی را که طی می‌کند، به او نشان

می‌دهد. او از خانه‌ی مادر بزرگش به خانه‌ی خودش باز می‌گردد و برنامه نشان می‌دهد

که او ۱۲۳۴ متر حرکت کرده است. او چند کیلومتر حرکت کرده است؟

- الف) $۰/۱۲۳۴$ (ب) $۱/۲۳۴$ (ج) $۱۲/۳۴$
 (د) $۱۲۳/۴$





۲۵۸ محور روبه‌رو، کدام جمع زیر را نشان می‌دهد؟

- الف) $1/8 + 1/8$ (ب) $1/7 + 3/6$
 ج) $1/7 + 1/8$ (د) $1/7 + 1/9$

$5/23 + 8/0.41 + 12/0.7 = ?$

۲۵۹ حاصل عبارت روبه‌رو، بین کدام دو عدد صحیح متوالی قرار دارد؟

- الف) ۲۳، ۲۴ (ب) ۲۶، ۲۷
 ج) ۲۵، ۲۶ (د) ۲۴، ۲۵

$9/23 + 7/7 + 8/46 + 12/56 = ?$

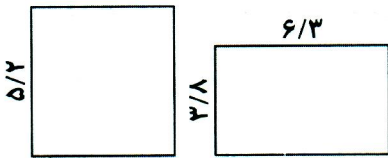
۲۶۰ حاصل جمع روبه‌رو، به‌طور تقریبی چند است؟

- الف) ۳۹ (ب) ۳۸ (ج) ۳۶ (د) ۳۷

۲۶۱ تفاضل بزرگ‌ترین و کوچک‌ترین اعدادی که با ارقام ۲، ۴، ۵، ۷ و ۹ درست شده‌اند و دارای مرتبه‌های یکان، دهم

و صدم می‌باشند، کدام است؟

- الف) $6/3$ (ب) $7/31$ (ج) $7/3$ (د) $7/0.1$



۲۶۲ در شکل‌های زیر، محیط مربع بیش‌تر است یا مستطیل و چه قدر؟

- الف) مستطیل - $10/7$ (ب) مستطیل - $0/6$
 ج) مربع - $3/1$ (د) مربع - $0/6$

$$\begin{array}{r} 8 \ / \ \square 5 \\ + 0 \ / \ 7 6 \\ \hline \square \ / \ 2 \ \square \end{array}$$

۲۶۳ مجموع رقم‌هایی را که می‌توان در جاهای خالی قرار داد، کدام است؟

- الف) ۱۴ (ب) ۱۳
 ج) ۱۵ (د) ۱۲

۲۶۴ در شکل زیر، نماد \rightarrow یعنی عدد قبلی را باید با $2/9$ جمع کنیم و نماد \Rightarrow یعنی باید از عدد قبلی $3/8$ کم کنیم.

حاصل مربع آخر کدام است؟



- الف) $7/8$ (ب) $15/5$
 ج) $12/6$ (د) $8/8$

$13/14 \times 8/8 = ?$

۲۶۵ اختلاف حاصل ضرب تقریبی و دقیق مقابل کدام است؟

- الف) $1/632$ (ب) $11/632$ (ج) $0/368$ (د) $1/368$