



۱ جاهای خالی را کامل کنید.

۵/۱ متر، یعنی سانتی متر

۱/۳ متر، یعنی سانتی متر

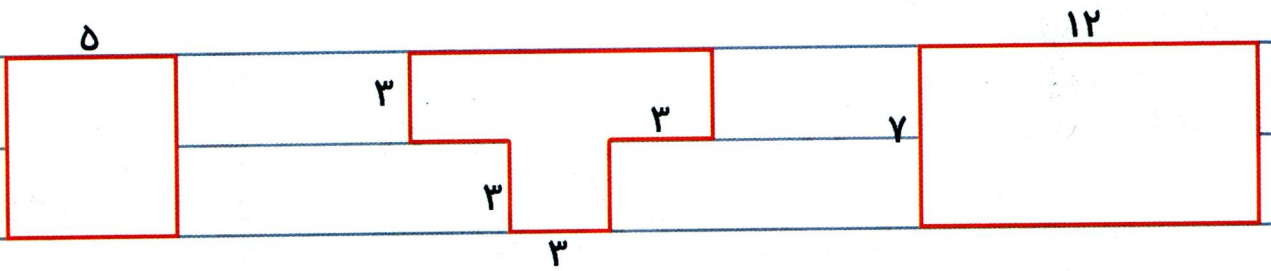
۱۵/۲ متر، یعنی سانتی متر

۵/۵ متر، یعنی سانتی متر

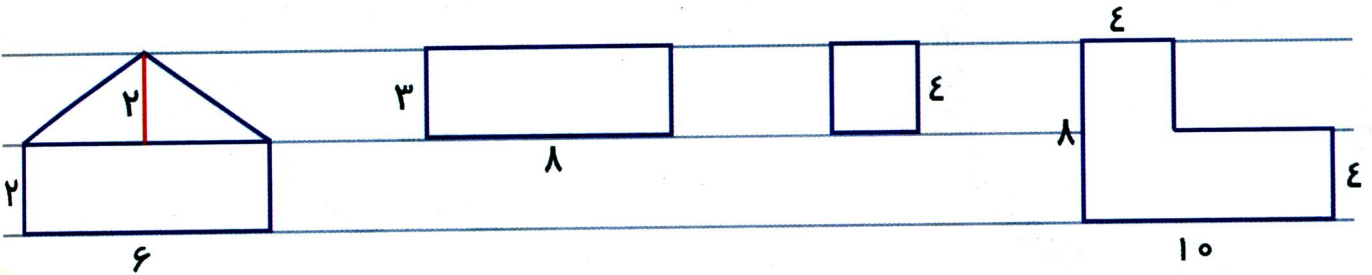
۲/۹ متر، یعنی سانتی متر

۷/۵ متر، یعنی سانتی متر

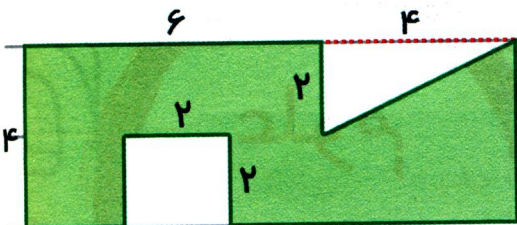
۲ محیط شکل های زیر را به دست آورید.



۳ مساحت شکل های زیر را به دست آورید.



۴ مساحت قسمت رنگی شکل زیر را به دست آورید.

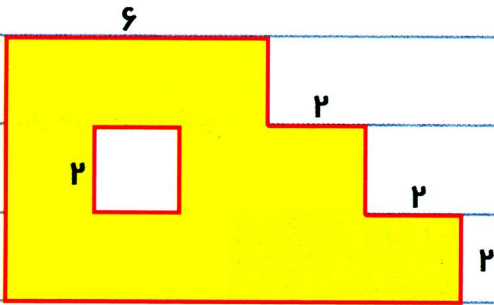


۵ می خواهیم برای دور یک باغ به طول ۱۲۰۰ متر و عرض ۸۰۰ متر دیوار بسازیم.

الف) برای دور این باغ لازم است چند متر دیوار بسازیم؟

ب) اگر باغبان، نیمی از باغ را درخت پرتقال و نیمی دیگر را درخت نارنج کاشته باشد، چند متر مربع از این باغ را درخت پرتقال است؟

۶ مساحت قسمت رنگی شکل زیر را پیدا کنید.



۷ یک حیاط به طول ۹ متر و عرض ۷ متر داریم که در گوشه ی این حیاط باغچه ای به طول ۳ و عرض ۲ متر وجود دارد. اگر بخواهیم غیر از باغچه، بقیه ی این حیاط را موزائیک کنیم، به چند متر مربع موزائیک نیاز داریم؟

۸ مساحت قسمت رنگی شکل های زیر را به دست آورید.

