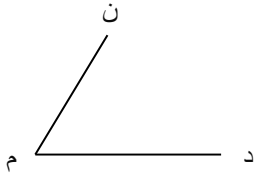




فصل چهارم

۱- با توجه به زاویه ی رو به رو به سوالات پاسخ دهید .



الف) این زاویه را با ۳ حرف نام ببرید .

ب) زاویه را با یک حرف نام ببرید .

۲- در یک زاویه، به محل برخورد دو نیم خط چه می گویند ؟

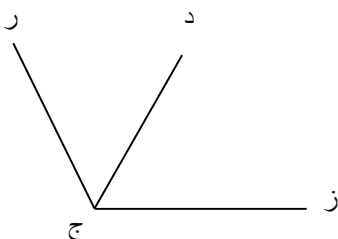
۳- اگر بخواهیم زاویه را با فقط با یک حرف بخوانیم، باید کدام حرف را بنویسیم .

۴- یک زاویه رسم کرده و نام آن را (د م ر) بگذارید.

الف) دو ضلع این زاویه را نام ببرید.

ب) رأس این زاویه را با یک • نشان داده و حرف مربوط به آن را بنویسید .

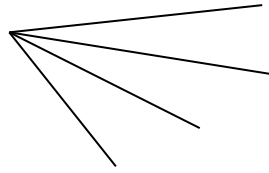
۵- در شکل چند زاویه می بینید آن ها را نام ببرید.



۶- هر شکل چند زاویه دارد؟

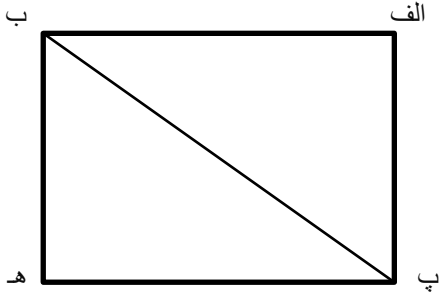


زاویه

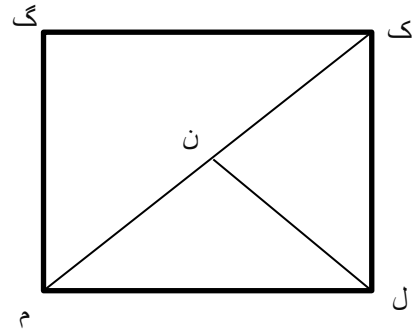


زاویه

۷- تعداد زاویه های هر شکل را بنویسید.

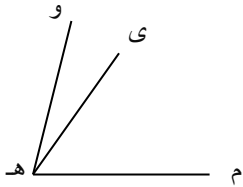
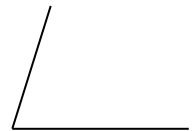
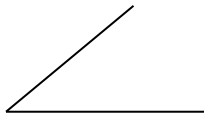


.....



.....

۸- از میان زاویه های زیر، زاویه راست (۹۰ درجه) را علامت بزنید .



۹- با توجه به شکل به سوالات پاسخ دهید .

الف) بزرگترین زاویه را نام ببرید .

ب) کوچکترین زاویه را نام ببرید .

ج) کدام زاویه از (م ه ی) بزرگتر است ؟

۱۱- آیا همیشه می توانیم با کنار هم قرار دادن دو زاویه ی تند، یک زاویه ی راست درست کنیم ؟ توضیح دهید.

.....
.....

۱۲- با توجه به شکل مقابل جاهای خالی را تکمیل کنید .

نیم خط های (و ی) و (و م) قسمت هایی از زاویه هستند که به آن می گویند.

محل برخورد دو نیم خط، زاویه نام دارد .

