



به نام خدا
دبستان دخترانه غیر دولتی الغریر
سال تحصیلی



ریاضی

کتابک شماره: ۳۱

تاریخ:

پایه: چهارم

فصل چهارم

نام و نام خانوادگی:

۱. دو سوم ساعت ، چند دقیقه است ؟
چند ثانیه است؟




۲. آموزگاری ساعت ۷:۲۵ وارد دبستان شد و ۳۰ دقیقه بعد کلاس شروع شد.
با رسم نمودار زمان، ساعت ورود آموزگار به کلاس را نشان دهید .

۳. برای انجام دادن هر یک از کارهای زیر حدوداً به چند دقیقه زمان نیاز دارید؟ (😊 می توانی در عمل امتحان کنی 😊)
خوردن صبحانه :
درست کردن نیمرو :
مطالعه ی درس علوم :
آماده کردن کیف مدرسه برای فردا :

۴. یک پیش دبستان در ساعت ۷:۳۰ دقیقه کار خود را شروع می کند و ساعت ۱۲:۲۰ دقیقه تعطیل می شود.
ساعت کار این پیش دبستانی چند ساعت و چند دقیقه است؟



۵. با کمک دو گونیا ی مختلف، زاویه های خواسته شده را با رسم شکل بسازید.

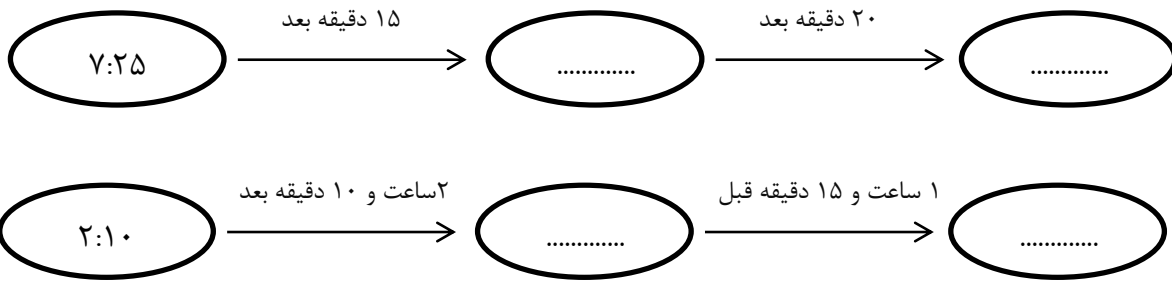


..... + = ۱۳۵ درجه


..... + = ۱۰۵ درجه

..... - = ۱۵ درجه

۶. زمان های خواسته شده را بنویسید .



۷. در جای خالی علامت $< = >$ بگذارید .



الف) ۷۰ دقیقه ۱ ساعت و ۱۰ دقیقه

ب) ۳۰۰ ثانیه ۵ دقیقه

ج) ۲۰ دقیقه و ۳۵ ثانیه ۱۵ دقیقه و ۳۵ ثانیه

۸. زمان های زیر را به صورت تقریبی بنویسید .

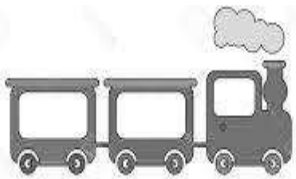


الف) ۴ دقیقه و ۷ ثانیه :

ب) ۶ دقیقه و ۵۹ ثانیه:

ج) ۸ ساعت و ۵۵ دقیقه :

۹. قطار تهران - مشهد ساعت ۱۷:۲۰ از تهران به سمت مشهد حرکت کرد . پس از ۴ ساعت و ۴۰ دقیقه برای نماز توقف کرد و پس از ۲۵ دقیقه، دوباره به راه افتاد. این قطار چه ساعتی برای نماز ایستاده و در چه ساعتی دوباره به راه افتاده است ؟



۱۰. نگار تکلیف خود را ساعت ۴:۳۰ شروع و ساعت ۶:۴۵ آن را به پایان رساند.

الف) جمع تکلیف او ساعت و دقیقه یا دقیقه طول کشیده است .

۱۱. اگر زهرا در ماه مرداد ۳ هفته ی کامل در مسافرت باشد. او چند دقیقه را در سفر گذرانده است؟

