

بسمه تعالی

اداره کل آموزش و پرورش استان اردبیل

مدیریت آموزش و پرورش ناحیه یک اردبیل


دبستان شهید غفور جدی (۲)

((مجموعه سوالات طبقه بندی شده ریاضی چهارم از فصل یک: اعداد و الگوها))

قابل استفاده به عنوان کاربرک، آزمون، پیک ماژانه، تمرین در کلاس و خانه...

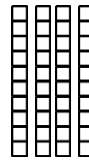
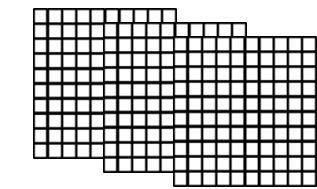

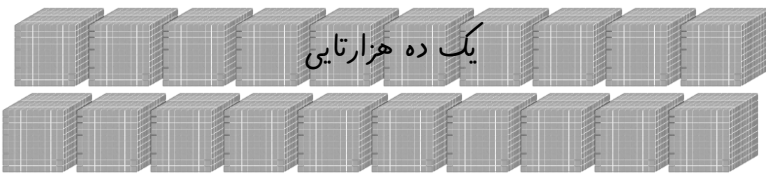
گردآوری و تنظیم: سهراب سکرانه ننه کران

سال تحصیلی ۹۷-۱۳۹۶






❁ با توجه به شکلها، اعداد را در جدول قرار بده و آنها را با رقم و حروف بنویسید.



یکی	ده تایی	صدتایی	هزارتایی	ده هزارتایی

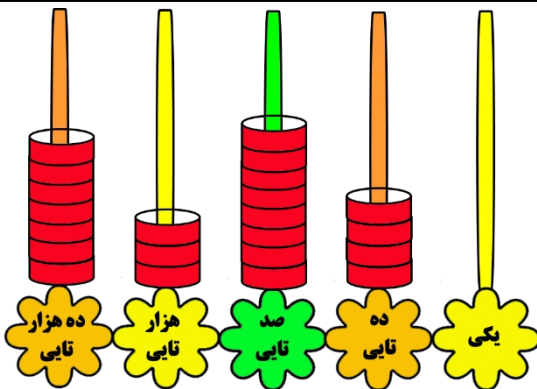
رقم: .....

حروف: .....



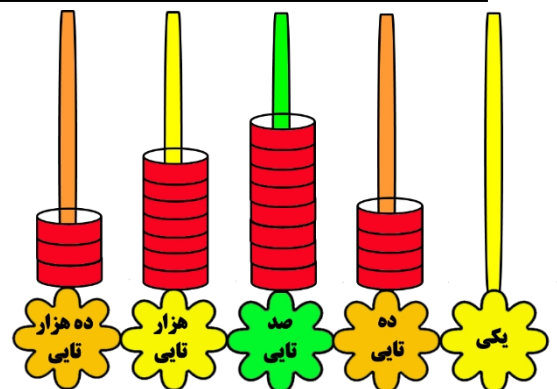
رقم: .....

حروف: .....



رقم: .....

حروف: .....



رقم: .....

حروف: .....





عددی را که هر کدام از جدول ها نشان می دهد ، بنویسید و جاهای خالی را پر کنید .

هزار			صدگان		
یکان	دهگان	صدگان	یکان	دهگان	صدگان
۵	۷	۳	۹	۲	۶

هزار			صدگان		
یکان	دهگان	صدگان	یکان	دهگان	صدگان
۱	۰	۳	۰	۴	۸

حالا عدد هر جدول را به رقم و حروف بنویسید .

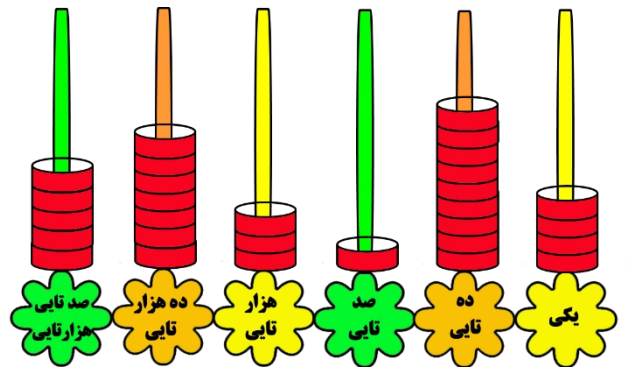
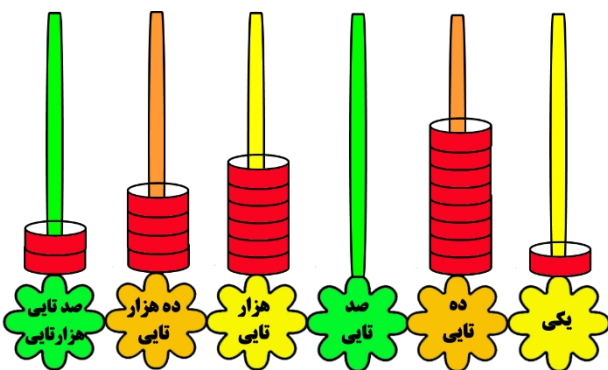
رقم : .....

رقم : .....

حروف : .....

حروف : .....

عددی را که هر شکل نشان می دهد را با رقم و حروف بنویسید .



رقم : .....

رقم : .....

حروف : .....

حروف : .....

عدد ۷۰۵۰۱۹ را به حروف بنویسید .

رقم یکان هزار آن چند است ؟ .....

این عدد چند رقم دارد ؟ .....

رقم ۷ در چه جایی قرار دارد ؟ .....

رقم دهگان چند است ؟ .....

مقدار پول زیر چند ریال است ؟



رقم یکان آن چند است ؟

رقم ۶ در چه مکانی است ؟

ارزش مکانی کدام رقم از همه بیشتر است ؟

عدد های زیر را با هم جمع کنید . ( از جدول ارزش مکانی کمک بگیرید )

$$20000 + 50000 + 40000 + 1000 + 2000 + 400 + 200 + 30 + 20 + 4 + 2 = \dots$$

$$10000 + 30000 + 6000 + 2000 + 10 + 800 + 1 + 5 = \dots$$

$$70000 + 100000 + 2000 + 2000 + 50000 + 30 + 2 + 300 = \dots$$

$$4 \text{ تا } 10000 + 7 \text{ تا یکی} + 5 \text{ تا } 1000 \text{ تایی} + 2 \text{ تا } 100 \text{ تایی} = \dots$$


$$9 \text{ تا } 100 \text{ تایی} + 2 \text{ تا } 10000 \text{ تایی} + 3 \text{ تا } 1000 \text{ تایی} = \dots$$

$$6 \text{ تا ده تایی} + 2 \text{ تا } 10 \text{ تایی} + 3 \text{ تا هزار تایی} + 8 \text{ تا } 100 \text{ هزار تایی} = \dots$$

$$9 \text{ تا } 100 \text{ هزار تایی} + 8 \text{ تا } 100 \text{ تایی} + 1 \text{ ده هزار تایی} + 5 \text{ تا یکی} = \dots$$

$$7 \text{ تا یکی} + 3 \text{ تا صد هزار تایی} + 4 \text{ تا } 10 \text{ هزار تایی} + 2 \text{ تا ده تایی} = \dots$$

هر چرتکه چه عددی را نشان می دهد؟ با توجه به آن ، جدول ارزش مکانی را کامل کنید .



میلیون			هزار					
ص	د	ی	ص	د	ی	ص	د	ی

حالا به سوالات زیر پاسخ دهید .

رقم : .....

حروف : .....

این عدد چند رقم دارد ؟ .....


رقم دهگان هزار آن چند است ؟ .....

رقم صدگان آن چند است ؟ .....

رقم ۵ در چه مکانی قرار دارد ؟ .....

ارزش کوچکترین رقم این عدد چیست ؟ .....

عدد های طبقه ی میلیون را بنویس .



میلیون			هزار					
ص	د	ی	ص	د	ی	ص	د	ی

حالا به سوالات زیر پاسخ دهید .

رقم : .....

حروف : .....

این عدد چند رقم دارد ؟ .....

رقم یکان میلیون آن چند است ؟ .....

رقم دهگان آن چند است ؟ .....

رقم ۳ در چه مکانی قرار دارد ؟ .....

ارزش بزرگترین رقم این عدد چیست ؟ .....

عدد های طبقه ی هزار را بنویس .



❖ عددهای زیر را به حروف بنویس .

..... ۵۲۳۸۰۶۱۹

..... ۶۰۷۰۸۰۴۹۰

..... ۵۳۹۸۰۰۲

..... ۱۶۷۰۰۰۸۲۰

❖ عددهای زیر را به رقم بنویس .

..... هشتصد و هشت میلیون و بیست هزار و سه

..... چهل و یک میلیون و نصد و چهل

..... هفتصد و نود میلیون و شش هزار و یازده

..... سیصد و پنجاه و شش میلیون و پانصد و هفت هزار

❖ عددهای زیر را با هم مقایسه کنید .

۱۵۲۷۱۲۶۹ ○ ۹۳۹۷۰۶۴      ۶۰۸۳۵ ○ ۶۰۸۲۹      ۸۲۷۱۰۶۰۰ ○ ۸۲۷۴۰۱۸

۳۶۰۰۰۲۷۴ ○ ۳۶۰۰۰۲۷۶      ۹۰۰۱ ○ ۸۸۶۱      ۵۱۳۰۰۷۳ ○ ۵۱۱۹۹۴۳

❖ رقم های طبقه ی یکی (یکان ، دهگان ، صدگان) عددهای زیر را حذف کنید و به جای آنها صفر بگذارید.

سپس آنها را به رقم بنویسید .

۶۲۴۲۷۴ →

۷۱۰۸۳۲ →

❖ عددی ۹ رقمی را بنویسید که رقم صدگان هزار آن ۴ ، دهگان آن ۳ ، یکان میلیون آن ۹ ، صدگان

میلیون آن ۲ و بقیه ی رقم های آن ۰ باشد .

