







هم کلاسی
Hamkelasi.ir

۱- گل پسر. دوسومین توپ از سمت راست یک خط بسته بکش.












۲- پسر باهوشم. شکل ها را بشمار و برای هر شکل هم چوب خط بکش و هم عدد آن را بنویس.



۲- پسر جدول ها را کامل کن.

	 سبز	
 آبی		
 زرد		




۳- پسر دانکدام یک از شکل های زیر الگوی مشخصی دارد؟ آن را ادامه بده.



۴- پسر با ادبم به تعداد انگشتان یک دستت شکل بکش سپس چوب خط بکش.

۵- پسر مهربانم هر شکل چند گوشه دارد؟ میله ها را رنگ کن. داخل آن چوب خط بکش سپس با شابلون طرف دیگر خط اشکال را به گونه ای بکش تا با تکرار شکلها روی هم قرار بگیرد.




۶- عزیزم برای هر قسمت که شکل دارد عدد مناسب آن را بنویس و برای هر عدد شکل بکش.

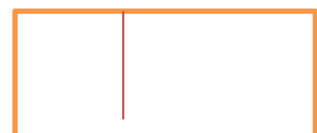
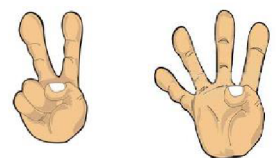

Four speech bubble boxes with corresponding teardrop shapes below them containing numbers:

- Box 1: Empty box, teardrop with number ۵.
- Box 2: Empty box, teardrop with number ۸.
- Box 3: Contains a drawing of a bird, teardrop is empty.
- Box 4: Contains a drawing of five stars, teardrop is empty.

۷- اندازه هر شکل چند فلش است عدد آن را بنویس




۸- شکل های سمت چپ و راست باهم چند تا است هم عدد آن را بنویس هم چوب خط بکش.



۹- زرنگ کلاس جدول را کامل کن که دو نیمه مثل هم رنگ شود.


۱۰- ریاضی دان کوچک با خط کش خطی بکش تا شکل زیر به دو نیمه مثل هم تبدیل شود.



۱۱- گل همیشه بهارم با توجه به فلش قبل و بعد عدد های زیر را بنویس.



	۸	
--	---	--



	۱	
--	---	--

۱۲- دانشمند آینده جدول شگفت انگیز را کامل کن.

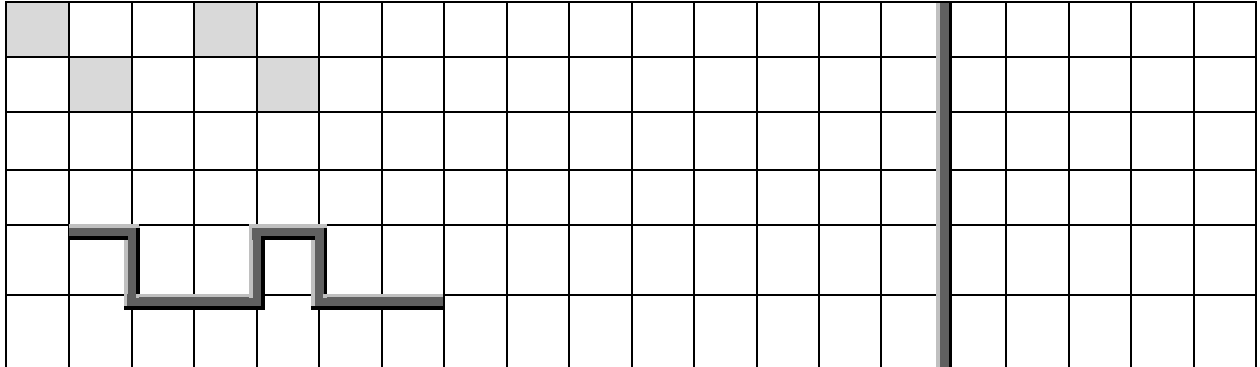


۴		۵	۲	۶	۷	۹	۸	۳
۲	۹	۶	۵	۸	۳	۷	۴	۱
۷	۳			۹	۴		۵	۶
۱	۲			۴	۶	۵	۳	۷
۵	۸	۳	۷	۲	۹		۶	۴
۶	۷	۴	۳	۱			۹	۲
	۵	۷	۴	۳		۶	۲	۹
۳	۶	۱	۹	۵	۲		۷	۸
۹	۴	۲	۶		۸	۳	۱	۵

۱۳- پسرم بین اعداد علامت کمتری بیشتری یا مساوی $< = >$ را بگذارد. و بین $< = >$ عدد مناسب بگذارد.

۴ ۶ ۲ ۶ ۷ ۸ ۵ > ۳ =

۱۴- فرزندم. الگو را ادامه بده و الگوی تکرار شونده را بکش.



۱۵ آینده سازم اعداد زیر را از کوچک به بزرگ مرتب کن.

..... ۳-۷-۲-۰-۱-۴-۶-۹-۸-۵

اهداف	بلی	خیر	عملکرد دانش آموز
۱- سمت چپ و راست را می شناسد.			
۲- می تواند شمارش را انجام دهد و چوب خط بکشد.			
۳- می تواند جدول ترکیب شکل ها را کامل کند .			
۴- الگوی مشخص را از نا مشخص تشخیص می دهد و الگوی مشخص را ادامه می دهد.			
۵- می داند تعداد انگشتان یک دست پنج تاست.			
۶- گوشه و میله ی اشکال هندسی را می شناسد.			
۷- می تواند تقارن شکل های هندسی را بکشد.			
۸- مفهوم عدد را درک می کند و به تعداد آن شکل می کشد و بالعکس.			
۹- اندازه گیری را بلد است.			
۱۰- جمع اعداد بیشتر از ۵ را یاد گرفته است.			
۱۱- می تواند با یک شکل را به دو نیمه تبدیل کند.			
۱۲- مفهوم قبل و بعد اعداد را درک می کند.			
۱۳- می تواند جدول شگفت انگیز ۹ تایی را کامل کند.			
۱۴- مفهوم کمتر و بیشتری و مساوی را می فهمد.			
۱۵- می تواند الگوی شطرنجی را ادامه دهد و الگوی تکرار شونده را رسم کند.			
۱۶- می تواند اعداد ۰-۹ را از کوچک به بزرگ مرتب کند.			

باز خورد:

