



هم کلاسی
Hamkelasi.ir

به نام خدا

پایه ی سوم

سازمان آموزش و پرورش استان




























نام و نام خانوادگی :

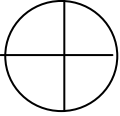

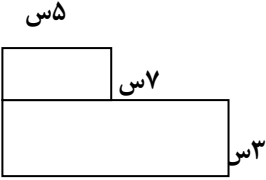
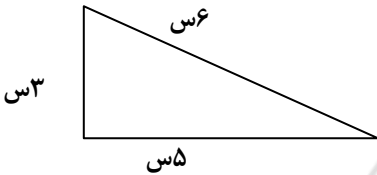
وقت :

اداره ی آموزش و پرورش منطقه ای

نام پدر :

نوبت دوم

۱	با عدد و با حروف بنویسید . <table border="1" style="width: 100%;"><tr><td style="width: 50%; text-align: center;">۴۵۰۳۹۶.....</td><td style="width: 50%; text-align: center;">سیصد و چهل و نه هزار و سه</td></tr><tr><td style="width: 50%; text-align: center;">.....</td><td style="width: 50%; text-align: center;">.....</td></tr></table>	۴۵۰۳۹۶.....	سیصد و چهل و نه هزار و سه	۱					
۴۵۰۳۹۶.....	سیصد و چهل و نه هزار و سه										
.....										
۲	در جاهای خالی عدد مناسب بنویسید. ۸ کیلومتر برابر است با متر . ۳ کیلوگرم برابر است با گرم عدد ۹۰۶۴ برابر است با یکی و ده تایی و صدتایی و هزار تایی ۵ متر برابر است با میلیمتر ۹ سانتی متر برابر است با میلیمتر	۲									
۱/۲۵	علامت < = > بگذارید . $\frac{1}{5} \bigcirc \frac{1}{6}$ $\frac{2}{6} \bigcirc \frac{3}{6}$ ۴۰۱ - ۶۰۰ \bigcirc ۲۰۱ - ۵۰۰ \bigcirc ۷۸ + ۶۱۰ \bigcirc ۱۶۹ - ۸۷۵ \bigcirc ۴ × ۶ \bigcirc ۵ × ۴	۳									
۱	با رقم های (۵ ، ۴ ، ۰ ، ۲) بزرگترین و کوچکترین عدد چهار رقمی بنویس . بزرگترین : \bigcirc کوچکترین : \bigcirc	۴									
۲/۲۵	برای شکل رو به رو یک ضرب و دو تقسیم بنویسید . <table style="width: 100%;"><tr><td style="text-align: center;"></td><td style="text-align: center;"></td><td style="text-align: center;"></td></tr><tr><td style="text-align: center;"></td><td style="text-align: center;"></td><td style="text-align: center;"></td></tr><tr><td style="text-align: center;"></td><td style="text-align: center;"></td><td style="text-align: center;"></td></tr></table> <p>ضرب :</p> <p>تقسیم :</p> <p>تقسیم :</p>										۵
											
											
											
۲/۵	عملیات زیر را انجام دهید . 362 $\times 5$ <hr/> $18 \div 6 = \dots\dots\dots$ $9 \times 0 = \dots\dots\dots$ $5 \div 5 = \dots\dots\dots$ $6 \times 8 = \dots\dots\dots$ $7 \div 1 = \dots\dots\dots$ $0 \div 3 = \dots\dots\dots$ $5 \times 9 = \dots\dots\dots$ $17 \times 100 = \dots\dots\dots$	۶									

۱	یک خط متقاطع و یک خط موازی رسم کنید .	۷
۰/۵	چه کسری از شکل رنگی است . 	۸
۰/۵	کدام یک از شکل های زیر خط تقارن ندارد . 	۹
۱/۷۵	مساحت شکل رو به رو را بدست آورید . 	۱۰
۱/۲۵	شکل زیر چند ضلعی است . محیط آن را بدست آورید . 	۱۱
۱	زنگ مدرسه ایی ساعت ۵ بعد از ظهر می خورد . در چه ساعتی زنگ می خورد ؟	۱۲
۱	برای خرید ۹ ورق کاغذ ۴۵ تومان پول داده ایم . کاغذ ورقی چند تومان بوده است .	۱۳
۱	کلاسی ۳۲ نفر دانش آموز دارد . هر کدام ۳ جلد کتاب به کتابخانه هدیه کرده اند . این دانش آموزان چند جلد کتاب به مدرسه هدیه کرده اند ؟	۱۴
۰/۵	ساعت رو به رو چه ساعتی را نشان می دهد ؟	۱۵
۱/۵	تقسیم های زیر را انجام دهید و خارج قسمت و باقیمانده را بنویسید . <div style="display: flex; justify-content: space-around;"> <div style="text-align: center;"> $\begin{array}{r} 39 \\ 7 \overline{) 39} \end{array}$ <p>خارج قسمت : باقیمانده :</p> </div> <div style="text-align: center;"> $\begin{array}{r} 82 \\ 9 \overline{) 82} \end{array}$ <p>خارج قسمت : باقیمانده :</p> </div> </div>	۱۶

موفق باشید