



هم کلاسی
Hamkelasi.ir

کاربرگه‌ها

ششم دبستان

برای دانلود گام به گام های دروس دیگر به
Hamkelasi.ir مراجعه کنید

تولید شده در
Hamkelasi.ir

انواع لباس در دوره‌های تاریخی

از کتاب‌های تاریخ سال‌های گذشته یا کتاب‌ها و مجلات دیگر، چند تصویر از پوشاک مردم ایران مربوط به دوره‌های تاریخی انتخاب کنید و در این صفحه بچسبانید. چه ویژگی‌هایی در لباس‌های هر دوره مشاهده می‌کنید؟ زیر هر تصویر توضیح کوتاهی بنویسید.

لباس‌ها در دوره‌های تاریخی مختلف نشان‌دهنده حکومت و

عصب‌نمای آن دوره است و نشان‌دهنده فرهنگ خاص برای آن دوره

است



.....

.....

برای دانلود گام به گام های دروس دیگری به Hamkelasi.ir مراجعه کنید.



.....

.....

مقررات مکان‌های گذران اوقات فراغت

به‌طور گروهی همفکری کنید و چند مورد از مقررات استفاده از این مکان‌ها را بنویسید.

سالن‌های تئاتر و نمایش و سینما

- برای تهیه بلیط، نوبت را رعایت کنیم.
- با نظم و آرامش به سالن‌ها وارد شویم.
- آثار آن‌ها خارج نشویم.
- از خوردن، نخوردن و سیگار کشیدن خودداری کنیم.
- بلند حرف نزنیم و بلند نجسیم.
- از اموال موجود در سالن، حفاظت کنیم.

کتابخانه‌ها و کانون‌های فرهنگی-هنری




- سکوت را رعایت کنیم.
- در این مکان‌ها استعمال نکریم.
- کتاب‌ها و وسایل را بدون اجازه برنگردانیم.
- کتاب‌ها را با رعایت کثرت شده رادر موعده مقرریه کتابخانه بازگردانیم.
- از اموال عمومی حفاظت کنیم.

موزه‌ها و گنجینه‌ها

- برای تهیه بلیط، نوبت را رعایت کنیم.
- با نظم و آرامش به سالن وارد شویم.
- آثار آن‌ها خارج نشویم.
- به آثار با ارزش موزه‌ها دست نزنیم.
- از خوردن و نوشیدن در سالن خودداری کنیم.
- در صورت ممنوعیت، عکس نگیریم.

از تولید تا مصرف

۱- مراحل تولید تا مصرف پوشاک را با شماره گذاری روی تصاویر نشان دهید.



۲- هر یک از عبارات‌های زیر را به کلمه‌ی مناسب وصل کنید.

- ★ توان مالی یا مقدار پولی که می‌توانیم برای تهیه‌ی یک چیز پردازیم.
 - ★ به تولید کالاها به مقدار زیاد و به صورت یک شکل و همسان گفته می‌شود.
 - ★ به همکاری افراد مختلف برای تولید یک کالا گفته می‌شود به طوری که هر کدام از آنها مهارت تولید یک بخش از کالا را دارند.
 - ★ فروشندگانی که کالاها را به تعداد زیاد و یکجا به مغازه‌داران دیگر می‌فروشند.
- خط تولید
عمده فروش
تولید انبوه
بودجه

نقشه‌ی دریاها



- ۱- روی نقشه، نام خلیج فارس و دریای عمان را بنویسید.
- ۲- نام تنگه‌ی هرمز را بنویسید.
- ۳- نام کشورهای اطراف خلیج فارس را که با علامت مشخص شده‌اند، بنویسید.
- ۴- دریاها را با مداد آبی رنگ کنید.

برای دانلود گام به گام های دروس دیگر به Hamkelasi.ir مراجعه کنید



- ۱- نام دریای خزر را روی نقشه بنویسید.
- ۲- دریای خزر را با مداد آبی رنگ کنید.
- ۳- نام کشورهای اطراف دریای خزر را که با علامت مشخص شده است، روی نقشه بنویسید.

بندرها

الف - نام بندرهایی را که روی نقشه نوشته نشده است، بنویسید.

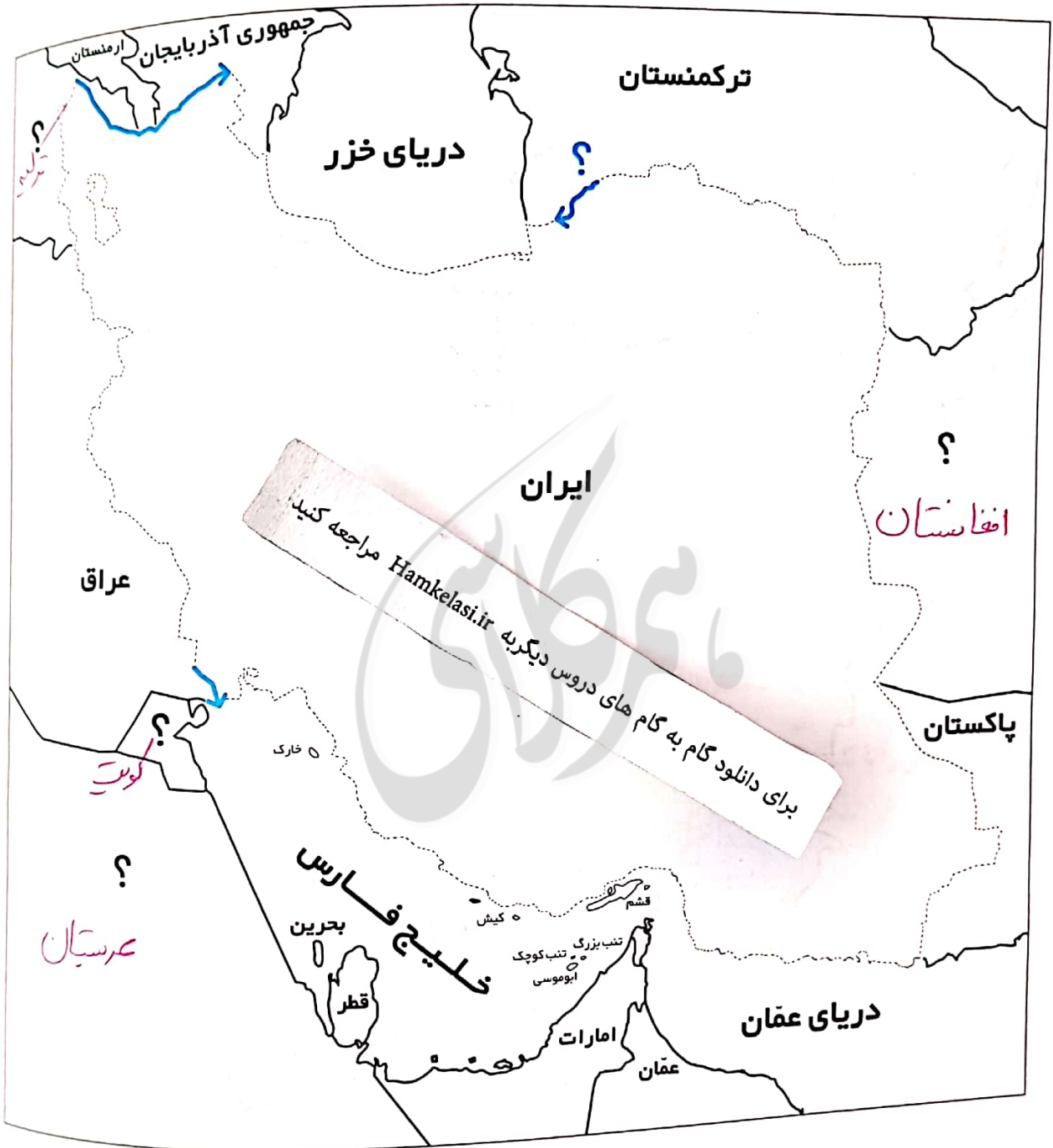


برای دانلود گام به گام های دروس دیگر به Hamkelasi.ir مراجعه کنید

ب - در بندرها چه فعالیت‌هایی صورت می‌گیرد؟ سه مورد بنویسید. **معاصیری - تجارت (صادرات و واردات کالا)**

عمل مسافران با کشتی - انتقال نفت

همسایگان ما



- ۱- روی نقشه، خطوط مرزی ایران را با کشورهای همسایه پررنگ کنید و نام رودهای مرزی را بنویسید.
- ۲- نام کشورهای همسایه را که با علامت؟ مشخص شده است، بنویسید.
- ۳- دریاها را آبی و سایر کشورها را به دلخواه رنگ کنید.

کشور ایران را معرفی کنید

نامه‌ای به یک دوست فرضی در کشور همسایه بنویسید و کشور خودتان ایران را معرفی کنید.



به نام خدا

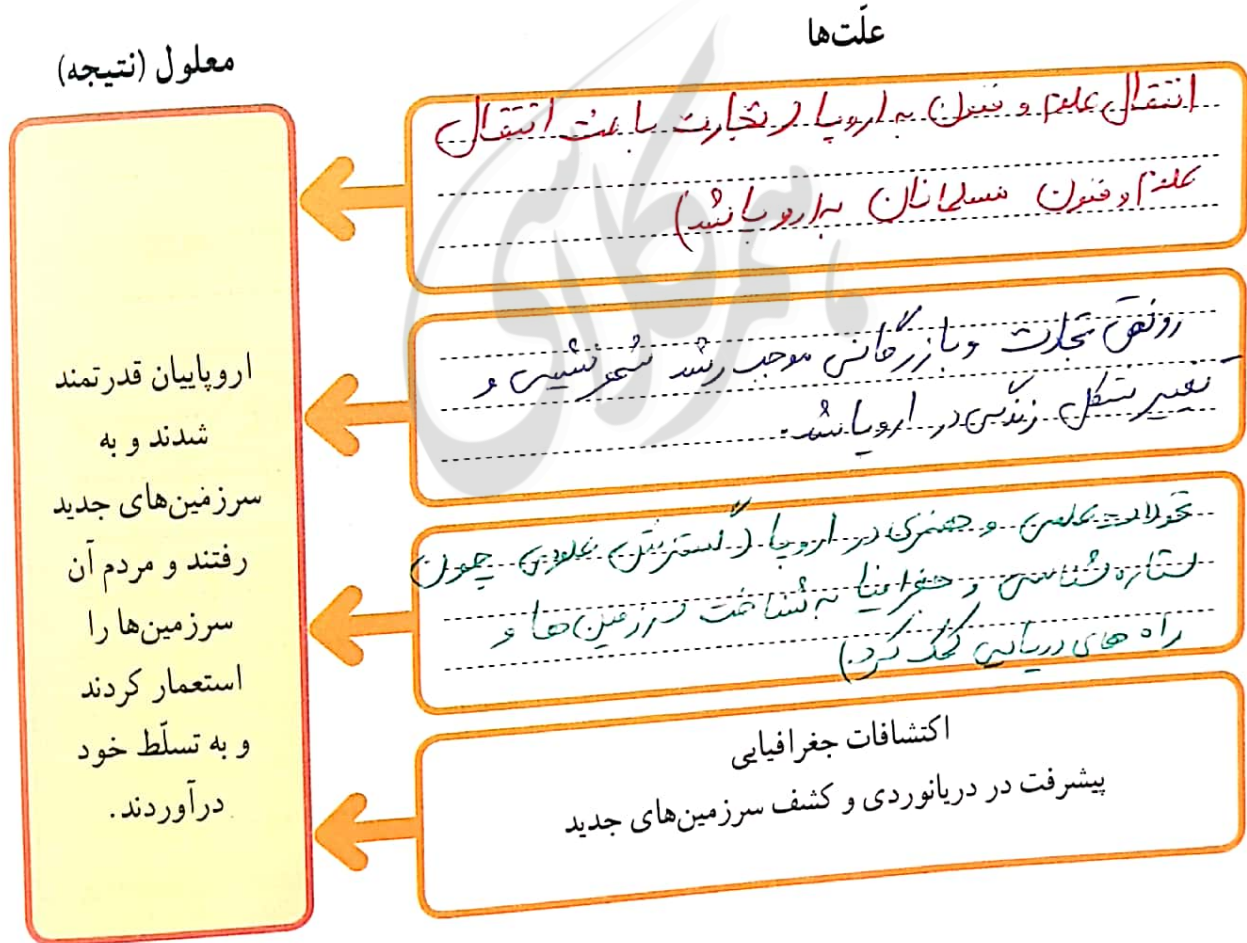
دوست خوبم

برای دانلود گام به گام های دروس دیگر به Hamkelasi.ir مراجعه کنید

علت‌های پیدایش استعمارگری

جدول را کامل کنید.

علت یعنی چر ایک چیز اتفاق می افتد؟
معلول یعنی نتیجه ای که در اثر آن علت‌ها به وجود می آید.

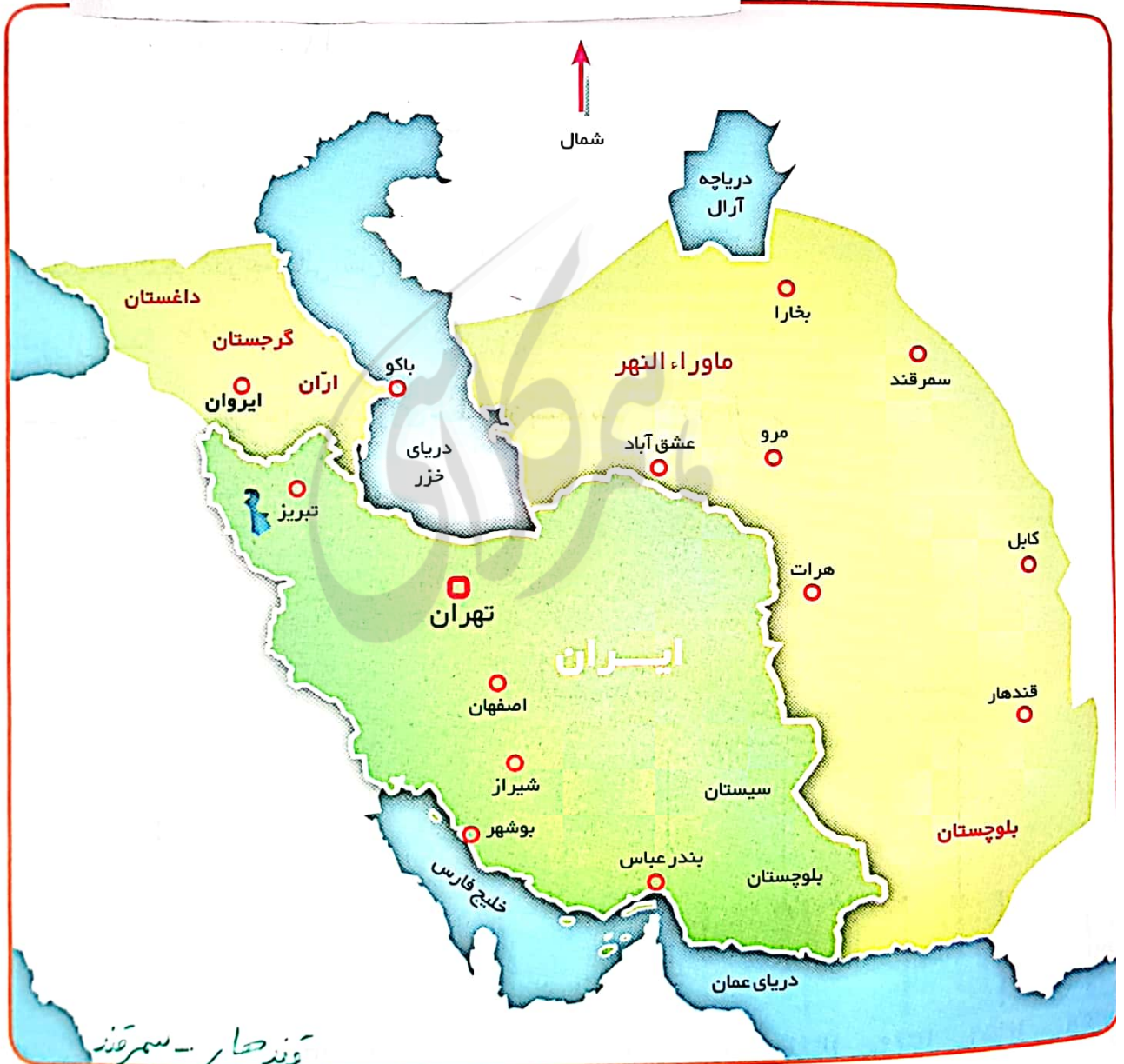


برای دانلود گام به گام های دروس ديگر به Hamkelasi.ir مراجعه كنيد.

قلمرو ایران و قراردادهای استعماری

این نقشه قلمرو ایران کنونی و سرزمین‌هایی را که به موجب قراردادهای استعماری از ایران جدا شدند، نشان می‌دهد. روی نقشه جهت‌های اصلی و فرعی را بنویسید. سپس بگویید:

برای دانلود گام به گام های دروس دیگر به Hamkelasi.ir مراجعه کنید.



- در شرق و شمال شرق کدام مناطق قبلاً جزء قلمرو ایران بوده‌اند؟ چند مورد نام ببرید. بخارا - مرو - کابل - هرات
 - در شمال غرب ایران، کدام مناطق قبلاً جزء قلمرو ایران بوده‌اند؟ چند نمونه نام ببرید. ایران - گرجستان - داغستان
 ایران

دفاع مقدس

تمرین : خواندن خط زمان

۱- حمله‌ی نظامی رژیم بعثی عراق به ایران در چه سالی صورت

گرفت؟ ۳۱ مهر ۱۳۵۹

۲- آزادسازی خرمشهر، (عملیات بیت المقدس) در چه سالی

صورت گرفت؟ ۱۳۶۱

۳- عملیات والفجر ۳ در چه سالی اتفاق افتاد؟ در این عملیات

کدام شهر آزاد شد؟ ۱۳۶۲

۴- دفاع مقدس چند سال طول کشید؟ روی خط زمان بشمارید. ۸ سال

برای دانلود گام به گام های دروس دیگریه Hamkelasi.ir مراجعه کنید.

