




هم کلاسی
Hamkelasi.ir

مجموعه سوالات ریاضی دوم دبستان فصل اول

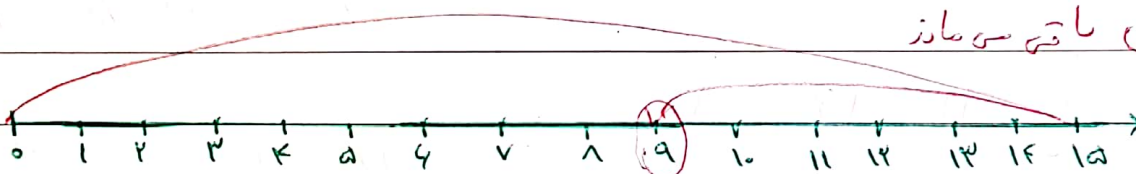
۱) مسأله هارارو محور نشان دصید:

الف) نیا ۵ ساله است. او ۸ سال بعد چندساله می شود؟ ۱۳ ساله




ب) نیا نیش ها شاخت گل دارد. اگر ۴ تایی آن بخرمرده شده باشد. چندشاخت گل برایش باقی می ماند؟

۹ گل باقی می ماند



ج) پدر علی ۱۸ سکه به اوداد. ۵ تا از آن صارا خرج کردو مادرش ۳ سکه دسر به اوداد. حالا علی

چندسکه دارد؟ ۱۰ سکه دارد.



۲) حاصل جمع صارا بزرگترین نشان دصید:



$$5 + 3 + 4 = 12$$



$$8 + 2 + 2 = 12$$

۳) حاصل عبارت صارا بنویسید:

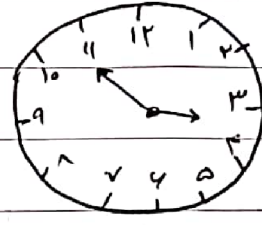
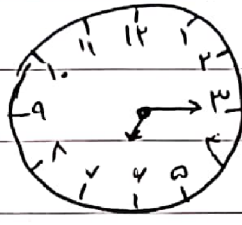
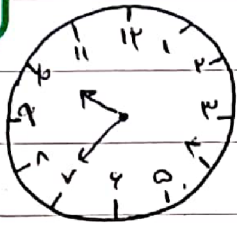
$$10 + 20 + 15 = 55$$

$$4 + 4 + 5 + 5 + 10 = 30$$

$$140 - 20 + 5 = 155$$

$$20 + 20 + 10 + 5 - 5 = 50$$

۱۴. پنج ساعت را با توجه به هر ساعت کامل کنید:



ساعت به ۷ مانده است - ساعت از ۱۰ گذشته است - ساعت به ۳ و ۴ است

۱۵. الگوهای عددی را ادامه دهید:

۰ - ۴ - ۸ - ۱۲ - ۱۶ - ۲۰ -

۱۵ - ۲۵ - ۳۵ - ۴۵ - ۵۵ - ۶۵ -

۱۶. با رقم های (۱، ۰، ۵، ۸) عددها دورقمی بسازید:

۴۴ ۸۸ ۸۴ ۴۸ ۸۰ ۴۰

۱۷. عددها زیر را با عدد و حرف بسازید:

۱۵ : پانزده	۲۹ : نسی و نه	۹۲ : نود و دو
۱۷ : هفده	۸۵ : هشتاد و پنج	۹۷ : نود و هفت

۱۸. مریم ۳ بسته دستمالی، هداقله ۲ دستمالی، آبرو ۴ دستمالی و همتا ۲ دستمالی دارد و ۲ بسته دستمالی دارد. زرد هم دانسته باشد. مریم چند عدد دارد؟

کیلی دستمالی

۹	۰
---	---

$$۳۰ + ۲۰ + ۲۰ = ۹۰$$

مریم ۹۰ عدد دارد

نود