



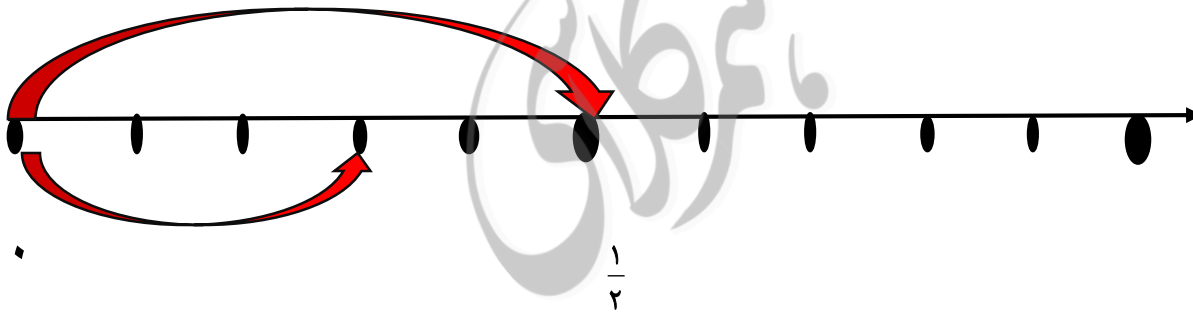
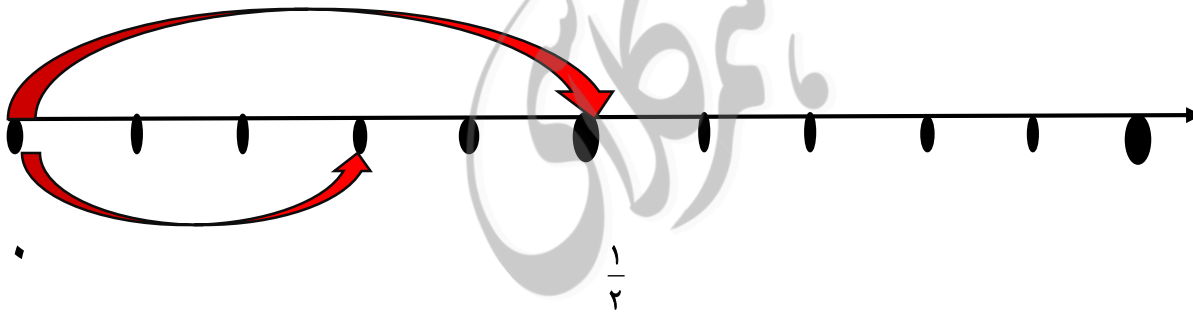
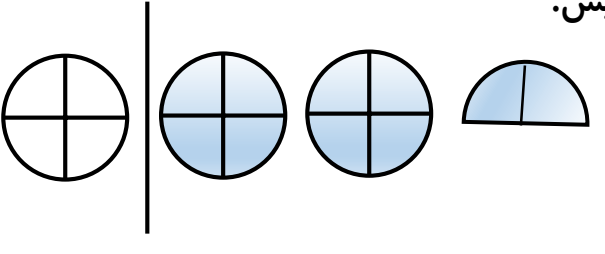
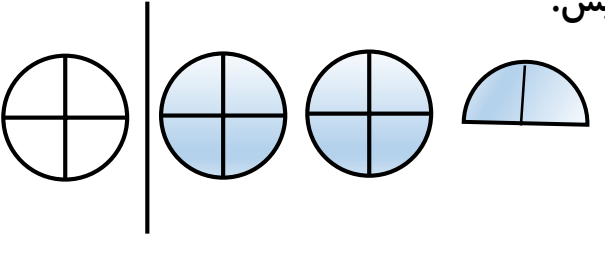
هم کلاسی
Hamkelasi.ir

دبستان دخترانه شهید علایان کاشان

دی ماه ۹۷


نام و نام خانوادگی:

بخش عددنویسی و کسرها

<p>۱</p> <p>کدام گزینه نشان دهنده ی ۱۰۰ تا ۲۰۰۰ تا است؟</p> <p>الف) ۲۰۰۰ <input type="checkbox"/> ب) ۲۰۰۰۰ <input type="checkbox"/> ج) ۲۰۰۰۰۰ <input type="checkbox"/> د) ۲۰۰۰۰۰۰ <input type="checkbox"/></p>	<p>۱</p> <p>کدام گزینه نشان دهنده ی ۱۰۰ تا ۲۰۰۰ تا است؟</p> <p>الف) ۲۰۰۰ <input type="checkbox"/> ب) ۲۰۰۰۰ <input type="checkbox"/> ج) ۲۰۰۰۰۰ <input type="checkbox"/> د) ۲۰۰۰۰۰۰ <input type="checkbox"/></p>
<p>۲</p> <p>دوساعت چندثانیه است؟</p> <p>الف) ۶۰ <input type="checkbox"/> ب) ۱۲۰ <input type="checkbox"/> ج) ۳۶۰۰ <input type="checkbox"/> د) ۷۲۰۰ <input type="checkbox"/></p>	<p>۲</p> <p>دوساعت چندثانیه است؟</p> <p>الف) ۶۰ <input type="checkbox"/> ب) ۱۲۰ <input type="checkbox"/> ج) ۳۶۰۰ <input type="checkbox"/> د) ۷۲۰۰ <input type="checkbox"/></p>
<p>۳</p> <p>تقسیم ۳ ÷ ۵ برابر کدام یک از گزینه های زیر می باشد؟</p> <p>الف) ۵۳ <input type="checkbox"/> ب) $\frac{۳}{۵}$ <input type="checkbox"/> ج) $۱\frac{۲}{۳}$ <input type="checkbox"/> د) ۲ <input type="checkbox"/></p>	<p>۳</p> <p>تقسیم ۳ ÷ ۵ برابر کدام یک از گزینه های زیر می باشد؟</p> <p>الف) ۵۳ <input type="checkbox"/> ب) $\frac{۳}{۵}$ <input type="checkbox"/> ج) $۱\frac{۲}{۳}$ <input type="checkbox"/> د) ۲ <input type="checkbox"/></p>
<p>۴</p> <p>برای محور یک ضرب کسری بنویس.</p> 	<p>۴</p> <p>برای محور یک ضرب کسری بنویس.</p> 
<p>۵</p> <p>برای شکل روبه رو یک کسر و یک عدد مخلوط بنویس.</p>  <p>کسر = عدد مخلوط =</p>	<p>۵</p> <p>برای شکل روبه رو یک کسر و یک عدد مخلوط بنویس.</p>  <p>کسر = عدد مخلوط =</p>
<p>۶</p> <p>پدر فاطمه می خواهد خانه ای به قیمت یک میلیارد تومان بخرد. اگر ۸۲۰ میلیون تومان پول داشته باشد، چه قدر باید وام بگیرد؟</p>	<p>۶</p> <p>پدر فاطمه می خواهد خانه ای به قیمت یک میلیارد تومان بخرد. اگر ۸۲۰ میلیون تومان پول داشته باشد، چه قدر باید وام بگیرد؟</p>

ضرب مربوط به شکل را بنویس.


۷



الگوهای زیر را ادامه دهید.

۸

..... - - - - - - - - -
 $۳ : ۶ - ۳ : ۲۰ - ۳ : ۳۴ - \dots$



خورشید ساعت ۴۵ - ۳۰ ۵ طلوع کرده و ساعت ۴۰ - ۴۴ ۶ بعد از ظهر غروب کرده

۹

است . طول روز چه قدر بوده است ؟

کسرهای زیر را تاجایی که امکان دارد، ساده کنید.

۱۰

$$\frac{۲۴}{۳۶} =$$

$$\frac{۴۵۰}{۹۰۰} =$$

کسر ها و اعداد زیر را باهم مقایسه کنید.

۱۱

$$۴ \frac{۳}{۴} \square \frac{۱۹}{۴}$$

$$۱۲۰ \square ۲۰۰ - ۱۲ =$$

$$\frac{۴}{۲} \square ۸$$

$$۵ \frac{۲}{۳} \square ۵ \frac{۳}{۴}$$

۱۲ جمع و تفرق کنید .

$$3 \frac{2}{7} + 1 \frac{1}{4} =$$

$$6 - 2 \frac{5}{8} =$$

۱۳ ۶ کیلوگرم شکلات را می خواهیم در بسته های $\frac{1}{3}$ کیلوگرمی تقسیم کنیم . چند بسته درست می شود؟

۱۴ عدد زیر را با تقریب خواسته شده بنویس .

۲۶۹۸۵۱۰۰۰

تقریب یک میلیون

۱۵ مریم در روز ۲۳ مرداد سال ۱۳۸۰ به دنیا آمد ۵ سال بعد روز ۴ آذر ماه صاحب یک برادر شد. آن تاریخ چه روز و چه ماه و چه سالی بوده است؟

۱۶ طول یک مستطیل $\frac{2}{3}$ متر و عرض آن $3\frac{1}{4}$ متر است . مساحت این زمین را حساب کنید.

نیاز به تلاش

قابل قبول

خوب

عملکرد دانش آموز خیلی خوب