




هم کلاسی
Hamkelasi.ir

نام و نام خانوادگی : به نام هستی بخش
 آزمون ریاضی دبستان آزاده تاریخ : آموزگار مرضات

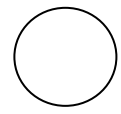

۱- نیمه ی دیگر شکل را تکمیل کن




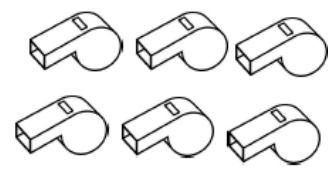
۲- قبل و بعد عدد نوشته شده را بنویس



۳- عدد هر دسته را بنویس و دور دسته ی بیش تر خط بکش و بین آن علامت مناسب (< = >) قرار بده



۴- فرزندانم ، عدد و چوب خط هر دسته را بنویس



.....

.....

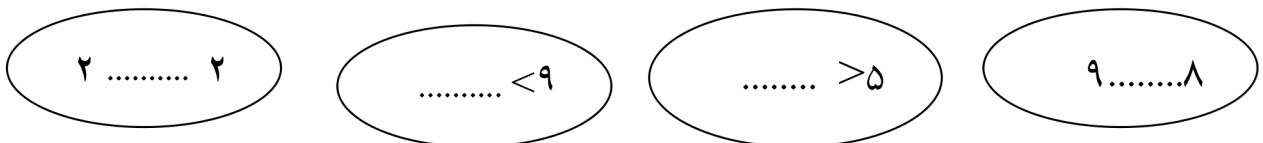
۵- جدول شگفت انگیز را کامل کن

۳	۲		۵	۴	۱
۵		۱		۶	۳
۴	۶	۲	۳	۱	۵
۱	۵	۳	۶	۲	
		۵	۴	۳	۲
۲	۳		۱	۵	۶

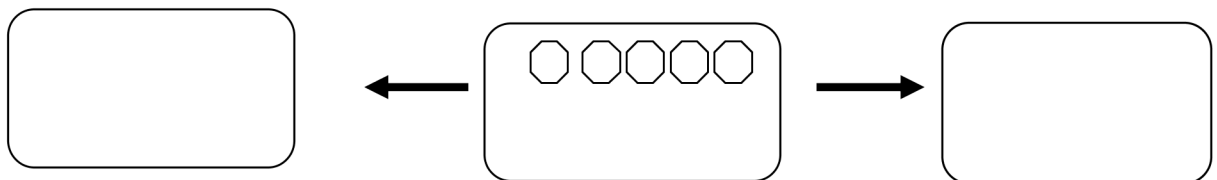
۶- شکل ها را با کمک خط کش ، دونیمه ی مثل هم کن



۷- بین دو عدد علامت مناسب قرار بده یا در طرف دیگر علامت ، عدد بنویس



۸- دسته ی قبل وبعد شکل را بکش



۹- الگو را ادامه بده

