



هم کلاسی  
[Hamkelasi.ir](http://Hamkelasi.ir)

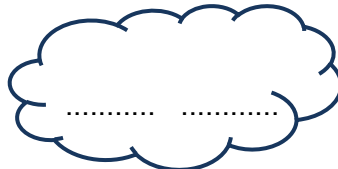
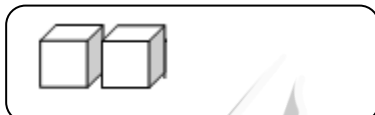
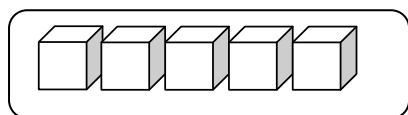
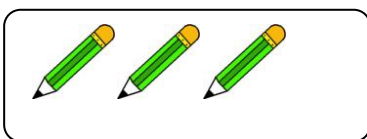

به نام ایزد یکتا

طراح العام مرضات


آزمون ریاضی پایه اول دی ماه ۱۳۹۶ دبستان:

نام دانش آموز:




۱- فرزند نازنینم شکل های سمت چپ و راست روی هم چند تا است؟ با چوب خط و عدد نشان بده



۲- گل زیبا ماهی هایی که به سمت چپ حرکت می کنند را رنگ بزن



۳- کودک زرنگ عدد هر دسته را بنویس



۴- به تعداد شکل های هر دسته درست راست چوب خط بکش و سپس حاصل جمع را پیدا کن



+



=



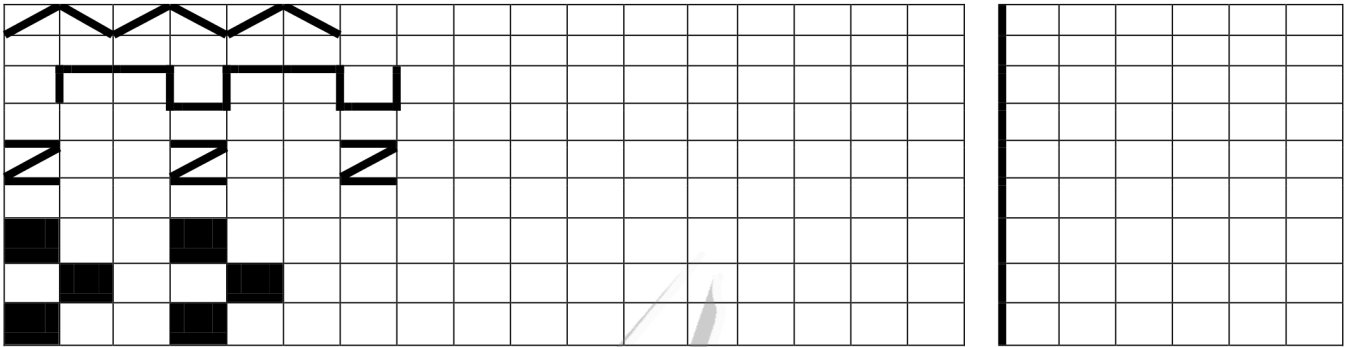
..... + ..... = .....

۵- گل زیبا مربع شگفت انگیز را با دقت انجام بده

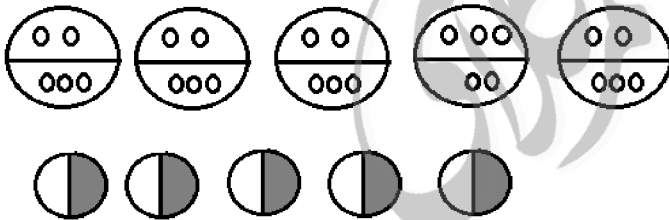
۵	۱	۴	۳	۲	۶
۶	۳			۴	۵
۴	۶			۱	۲
۱	۲	۵	۴	۶	۳
۲	۵			۳	۴
	۴	۶	۲	۵	۱



۶- کودک باهوش الگوها را ادامه بده و شکلی که تکرار می شود را در جدول دوم بکش

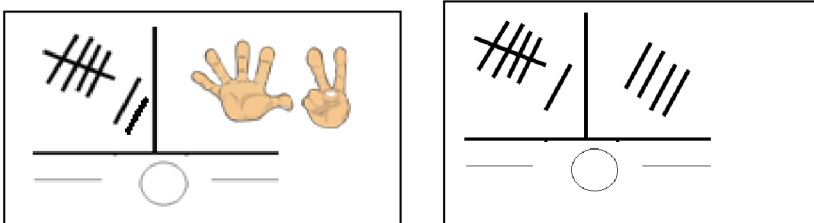


۷- گل زیبا دور الگوی منظم خط بکش




۸- کودک ز رنگ عدد هر دسته را بنویس سپس دسته ها را با هم مقایسه کن و از علامت کم تر بیش تر

( < ) یا ( = ) استفاده کن



۹- نازنینم نیمه دیگر شکل را رنگ بزن



بازخورد آموزگار .....