

نام مبحث : نمونه سوالات ریاضی دوم ابتدایی نوبت دوم (خرداد ماه)


نام استاد : گردآوری شده توسط همکلاسی



مرور درس ریاضی

اسم و فامیل : ..... به نام خدا

۱- گل زیبای من ، عددی را که شکل نشان می دهد در جدول و جاهای خالی بگذار و بخوان و بنویس.



یکی	ده تایی
.....	.....

به حروف : ..... به رقم : .....

۲- با رقم های ۵ و ۷ برای یکان و ۳ و ۴ برای دهگان ، تاجایی که می توانی عدد دورقمی بساز.

$$۵+۵+۲۰+۳۰=$$

$$۴۰+۵+۱۰+۵+۵=$$

۳- حاصل جمع هارا به دست بیاور.

$$۱۰+۵+۲۰+۵+۳=$$

$$۳+۴+۱۰+۲۰+۵+۵=$$

۴- مسئله های زیر را از هراهی که می توانی ، حل کن.

۸ دانش آموز در کلاس بودند. ۶ دانش آموز دیگر به کلاس آمدند ولی ۳ نفر از کلاس رفتند. حالا چند نفر در کلاس هستند؟

علی ۲۳ تا کتاب دارد. ۱۲ تا از آن ها داستان و بقیه علمی است. چند کتاب علمی دارد؟

۳ ، ۸ ، ۱۳ ، ۱۸ ، ..... ، ..... ، .....

۵- الگوی عددی زیر را پیدا کن و نوشتن را ادامه بده .

$$\begin{array}{r} ۲۴ \\ + ۳۳ \\ \hline \end{array}$$

$$\begin{array}{r} ۳۴ \\ - ۲۰ \\ \hline \end{array}$$

۶- جمع و تفریق زیر را با کشیدن شکل حل کن.

نام مبحث : نمونه سوالات ریاضی دوم ابتدایی نوبت دوم (خرداد ماه)

نام استاد : گردآوری شده توسط همکلاسی

۷ - ساعت ها چه زمانی را نشان می دهند؟ بنویس.



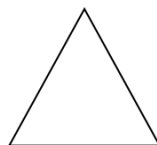
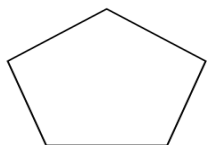
۸ - با توجه به زمان نوشته شده ، عقربه های هر ساعت را بکش.



ساعت ۳ و ۴۵ دقیقه است

ساعت ۵ و ۲۳ دقیقه است .

۹ - خط تقارن شکل های زیر را رسم کن.



جاهای خالی را هم پر کن.

..... گوشه دارد

..... ضلع دارد

۱۰ - حاصل جمع و تفریق های زیر را با استفاده از جدول به دست بیاور.



$$\begin{array}{r} 37 \\ - 14 \\ \hline \end{array}$$

$$\begin{array}{r} 17 \\ + 14 \\ \hline \end{array}$$

\*\*\*\*\* سوال ویژه \*\*\*\*\*

مریم ساعت ۳ و ۲۵ دقیقه از خانه خارج شد . ۲۰ دقیقه پیاده روی کرد تا به خانه ی دوستش رسید.



مریم چه ساعتی به خانه ی دوستش رسیده است؟