

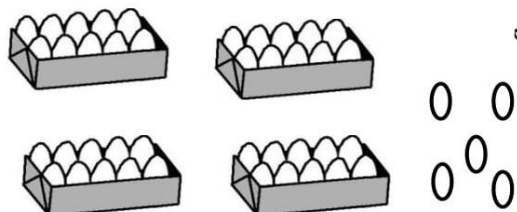
نام مبحث : نمونه سوالات ریاضی اول ابتدایی نوبت دوم (خرداد ماه)

نام استاد : گرد آوری شده توسط همکلاسی

به نام خدا

آزمون ریاضی پایه اول - اردیبهشت ماه

نام و نام خانوادگی : .....




۱ با توجه به شکل جدول را کامل و عدد مربوط را خارج جدول بنویس

ده تایی	یکی


\_\_\_\_\_

۲ پاسخ جمع ها را به کمک چوب خط بنویس.

$$4 + 3 + 3 + 5 = \square$$



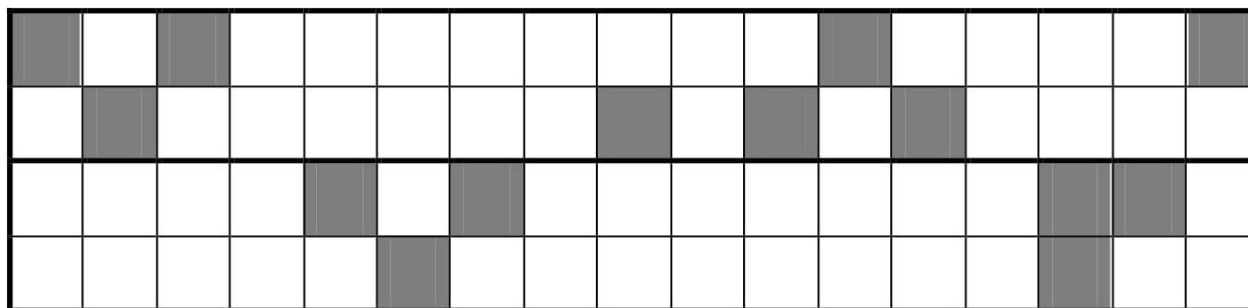
$$6 + 7 = \square$$



۳ جاهای خالی را با عدد مناسب کامل کن .

۵	۱۰					۳۵			
---	----	--	--	--	--	----	--	--	--

۴ شکل را طوری کامل کن که دونیمه ی آن مثل هم باشد .





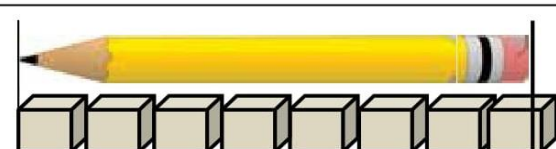
۵ جواب هر جمع را به صورت ذهنی حساب کن و بنویس .

$$20 + 10 + 5 + 10 = \square$$

$$10 + 5 - 3 = \square$$

نام مبحث : نمونه سوالات ریاضی اول ابتدایی نوبت دوم (خرداد ماه)

نام استاد : گرد آوری شده توسط همکلاسی

۶	دنباله ی عددها را به ترتیب بنویس.										
	<table border="1" style="margin: auto; border-collapse: collapse;"> <tr> <td style="width: 20px; height: 20px; text-align: center;">۶۵</td> <td style="width: 20px; height: 20px; text-align: center;">۶۶</td> <td style="width: 20px; height: 20px; text-align: center;">۶۷</td> <td style="width: 20px; height: 20px;"></td> <td style="width: 20px; height: 20px;"></td> <td style="width: 20px; height: 20px;"></td> <td style="width: 20px; height: 20px;"></td> <td style="width: 20px; height: 20px;"></td> <td style="width: 20px; height: 20px;"></td> <td style="width: 20px; height: 20px;"></td> </tr> </table>	۶۵	۶۶	۶۷							
۶۵	۶۶	۶۷									
۷	درهر ردیف پاسخ عبارت ها را بنویس ودور علامت مناسب $\langle = \rangle$ خط بکش.  $20 + 20 = \square$ $\langle = \rangle$ $50 - 20 = \square$  $7 + 5 = \square$ $\langle = \rangle$ $6 + 8 = \square$										
۸	با رقم یا حروف بنویس .  <table border="1" style="margin: auto; border-collapse: collapse; width: 100%;"> <tr> <td style="width: 25%; text-align: center;">هفده</td> <td style="width: 25%;"></td> <td style="width: 25%; text-align: center;">هفتاد و شش</td> <td style="width: 25%;"></td> </tr> <tr> <td></td> <td style="text-align: center;">۴۹</td> <td></td> <td style="text-align: center;">۹۰</td> </tr> </table>	هفده		هفتاد و شش			۴۹		۹۰		
هفده		هفتاد و شش									
	۴۹		۹۰								
۹	با توجه به شکل جاهای خالی را کامل کن.  <div style="display: flex; justify-content: space-around; align-items: flex-start;"> <div style="text-align: center;">  <p>..... - ..... = .....</p> </div> <div style="text-align: center;">  <p>..... + ..... = .....</p> </div> </div>										
۱۰	<div style="display: flex; align-items: center;">  <div style="margin-left: 20px;">                 اندازه ی مداد بین ..... و ..... است .             </div> </div>										

نام مبحث : نمونه سوالات ریاضی اول ابتدایی نوبت دوم (خرداد ماه)

نام استاد : گرد آوری شده توسط همکلاسی

۱۱

مسئله را با چوب خط یا شکل ساده حل کن و عبارت جمع یا تفریق آن را بنویس .

۷ اردک در آب بودند . ۳ اردک دیگر هم به آن ها اضافه شدند .



حالا چند اردک در آب است ؟

حالا..... اردک در آب است

۱۲

مسئله را به کمک محور حل کن . (عبارت جمع یا تفریق آن را هم بنویس)

۱۲ پرنده روی درخت بودند . ۴ تا از پرنده ها پرواز کردند و رفتند .

چند پرنده مانده است ؟



۰ ۱ ۲ ۳ ۴ ۵ ۶ ۷ ۸ ۹ ۱۰ ۱۱ ۱۲ ۱۳ ۱۴ ۱۵



..... پرنده مانده است .

موفق و سربلند باشید

گروه آموزشی پایه اول

بازخورد معلم :