



هم کلاسی  
[Hamkelasi.ir](http://Hamkelasi.ir)



نام: \_\_\_\_\_  
نام خانوادگی: \_\_\_\_\_

تاریخ: \_\_\_\_\_

# حسین

آزمون علوم سوم ابتدایی (نوبت دوم)

دبستان شیخ نورالدین حقیق



نام آموزگار: \_\_\_\_\_

سعید ساجدی رنسی

کلاس: \_\_\_\_\_

## صفحه اول



★ منبع نور چیست؟


درس نور

△ جاهای خالی را با کلمه های داده شده پر کن .


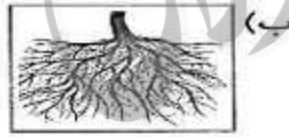
نا منظم - منظم - بازتابش نور - صاف و صیقلی - ناصاف و غیر صیقلی

- ★ وقتی نور به آینه می تابد و از آن بر می گردد ، به این پدیده ..... می گویند .
- ★ اگر نور به سطح ..... مانند آینه برخورد کند ، به طور ..... بازتاب می شود.
- ★ اگر نور به سطح ..... مانند ورق آلومینیوم چروک برخورد کند ، به طور ..... بازتاب می شود.


کدام قسمت، گیاه را در خاک نگه می دارد؟



کدام تصویر، ریشه‌ی گیاه را نشان می دهد؟



کدام گیاه، ساقه‌ی نازک دارد؟



★ انواع ساقه را نام ببر .

★ انواع ریشه را نام ببر و برای هر یک مثال بزنید .

★ دوزیست یعنی چه؟ چند جانور دوزیست نام ببر .

★ در گذشته از چه روش هایی برای نگه داری مواد غذایی استفاده می شد؟

★ نیروی کشش زمین چیست ؟

تشریحی





نام: \_\_\_\_\_  
نام خانوادگی: \_\_\_\_\_

تاریخ: \_\_\_\_\_

دبستان شیخ نورالدین حقیق



آزمون علوم سوم ابتدایی (نوبت دوم)

کلاس: \_\_\_\_\_

نام آموزگار: \_\_\_\_\_

سعید ساجدی  
رئیس

صفحه دوم



جدول زیر را کامل کن.

جای زندگی	بچه قورباغه	قورباغه ی کامل
وسيله ی تنفس		
وسيله ی حرکت		
نوع تغذیه		


معمولا دوزیستان در جاهای ..... زندگی می کنند.

دوزیستان

اثر نیرو در فعالیت های زیر چگونه است؟

- خمیر نانوايي : .....
- گرفتن توپ توسط دروازه بان : .....
- شوت زدن به توپ روی زمین : .....

دو مورد نام ببر که نیروی کشش زمین به ما کمک می کند.



در کدام یک از کارهای زیر نیرو به صورت هل دادن و در کدام یک به صورت کشیدن است؟

فشاردن زنگ منزل - پرتاب توپ - بیرون آوردن کشوی میز - بردن کالسکه ی کودک

کشیدن	هل دادن

اگر دو سر هم نام آهن رباها را به هم نزدیک کنیم، چه می شود؟

S N    N S

اگر دو سر مخالف آهن رباها را به هم نزدیک کنیم چه می شود؟

S N    S N



نام: \_\_\_\_\_  
نام خانوادگی: \_\_\_\_\_

تاریخ: \_\_\_\_\_

دبستان شیخ نورالدین حقیق

# علوم سوم ابتدایی (نوبت دوم)

کلاس: \_\_\_\_\_

نام آموزگار: \_\_\_\_\_

رئیس: سعید ساچدی



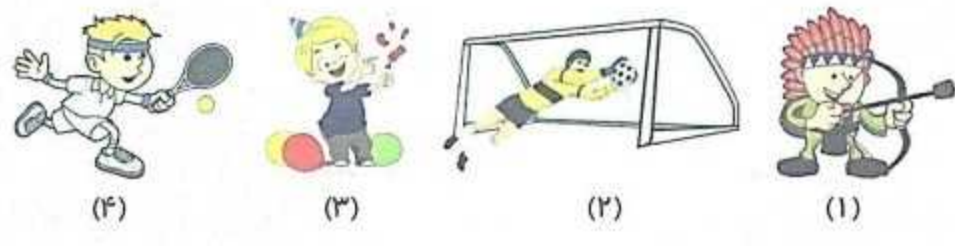
صفحه سوم



- ❖ بعضی از گیاهان مانند درخت کاج، به جای گل و میوه، قسمت هایی به نام ..... دارند.
- ❖ پوشش بدن ماهی ها ، ..... است.
- ❖ ماهی ها به کمک ، ..... و ..... حرکت می کنند.
- ❖ وسیله ی تنفس هر یک از جانوران زیر را بنویسید.
- پرندهگان: ..... ماهی ها: ..... خزندگان: .....
- پستانداران: ..... دوزیستان: .....
- ❖ پوشش بدن پستانداران، ..... است.
- ❖ ریشه هایی که شبیه ریشه ی هویج هستند ، ریشه ی ..... نامیده می شوند.

- ❖ انواع برگ را نام ببرید .
- ❖ به چه جانورانی خزنده می گویند.
- ❖ کار پولک در بدن ماهی چیست؟

❖ در شکل های زیر، ۴ اثر نیرو نشان داده شده است. شماره ی تصویر مربوط به هر اثر نیرو را مقابل آن بنویسید.



- الف) نیرویی که سبب توقف جسم می شود. شماره ی .....
- ب) نیرویی که سبب تغییر جهت حرکت جسم می شود. شماره ی .....
- ج) نیرویی که سبب به حرکت آوردن جسم ساکن می شود. شماره ی .....
- د) نیرویی که سبب تغییر شکل می شود. شماره ی .....



با زمان بندی دقیق و برنامه ریزی ، تا قله های موفقیت فاصله ای نفواهی داشت .