






<p>پایه : سوم</p>	<p>باسمه تعالی آزمون : ریاضی نوبت دوم سال تحصیلی ۹۵</p>	<p>نام و نام خانوادگی : مدت پاسخگویی : ۶۰ دقیقه آموزگار مربوطه: وجیهه عابدینی</p>
<p>۱) با توجه به زمان های داده شده جاهای خالی را کامل کنید                  الف) ساعت ۱۷ یعنی ..... بعد از ظهر                  ب) ساعت ۲۲:۱۰ یعنی ..... بعد از ظهر.                  ج) ۱ متر برابر است با ..... سانتی متر و یا ..... میلی متر.                  د) ۱۰ سانتی متر و ۲۲ میلی متر می شود ..... میلی متر .</p>		
	<p>۲) شکل مقابل چند خط تقارن دارد؟                  الف) ۱      ب) ۲      ج) ۳      د) خیلی زیاد</p>	<p>کدام یک از شکل های زیر خط تقارن ندارد؟                  الف)       ب)       ج)       د) </p>
<p>۳) اعداد داده شده را از کوچک به بزرگ مرتب کنید</p> <div style="border: 1px solid black; padding: 5px; width: fit-content;"> <p>۸۹۰۰-۸۹۰-۸۰۰۹-۸۰۹-۸۹۹۹</p> </div>		
<p>۴) برای کسر زیر دو کسر مساوی بنویسید و روی شکل نشان دهید</p> $\frac{1}{5} =$		
<p>۵) حاصل هریک از تساوی های زیر را به دست آورید</p> <p><math>(3 \times 6) + (4 \times 4) = \underline{\quad} + \underline{\quad} =</math></p> <p><math>(8 \times 5) - (6 \times 5) = \underline{\quad} - \underline{\quad} =</math></p> <p><math>(2 \times 3) \times (4 \times 2) = \underline{\quad} \times \underline{\quad} =</math></p>		
<p>۶) حاصل جمع عدد زیر را به صورت فرایندی (طولانی) به دست آور</p> $\begin{array}{r} +437 \\ \underline{521} \end{array}$		
<p>۷) حاصل ضرب عبارات های زیر را بنویس</p> <p><math>100 \times 3 =</math>      <math>20 \times 40 =</math>      <math>2 \times 20 \times 20 =</math></p> <p><math>6 \times \text{----} = 600</math>      <math>5 \times 9 =</math></p>		

۸) اطلاعات جدول را به صورت نمودار ستونی نمایش بده

نام کلاس	سوم الف	سوم ب	چهارم الف	چهارم ب
جمعیت کلاس	۴۰ نفر	۳۵ نفر	۳۰ نفر	۲۰ نفر



۹) تقسیم های زیر را انجام بده

۴۸ ÷ ۸ =

۷۲ ÷ ۹ =

۳۶ ÷ ۶ =

$$\begin{array}{r} 24 \\ 3 \overline{) 24} \end{array}$$

$$\begin{array}{r} 49 \\ 5 \overline{) 49} \end{array}$$

۱۰) مساحت مربعی که طول هر ضلع آن ۲۰ سانتی متر است را به دست آورید.

۱۱) با رقم های ۶، ۲، ۵، ۴ بزرگ ترین و کوچک ترین عدد چهار رقمی را بنویس

ب:

ک:

اختلاف این دو عدد را پیدا کن.

۱۲) نازنین می خواهد دور تادور یک رومیزی به طول ۳۵۰ سانتی متر و به عرض ۱۸۰ سانتی متر تور بدوزد او به چند متر تور نیاز دارد؟

۱۳) ضرب کنید

$$\begin{array}{r} 253 \\ \times 2 \\ \hline \end{array}$$

$$\begin{array}{r} 1.3 \\ \times 4 \\ \hline \end{array}$$