



هم کلاسی
Hamkelasi.ir



تنظیم : گروه آموزشی دوم ریاضی

« به نام خالق خوبی ها »

اسم من است . در کلاس دبستان درس می خوانم .

۱) نازنینم ، با کارت های اعداد ۳ و ۵ و ۲ هر چه می توانی عدد سه رقمی بنویس .

.....

* حالا از بین عددهایی که نوشتی الف (بیشترین عدد و کمترین عدد را بنویس .

بیش ترین عدد: با حروف: کمترین عدد: باحروف:


ب) رقم های یکان و دهگان بیشترین و کم ترین عدد را حذف کن و یک تفریق برای آن ها بنویس .

بیشترین عدد با حذف رقم یکان و دهگان :


کم ترین عدد با حذف رقم یکان و دهگان :

ج) عدد هایی را بنویس که حاصل جمع رقم های دهگان و صدگان برابر با رقم یکان آن باشد .

۲) ساعت چند است ؟



.....



.....

* نیم ساعت بعد از ساعت ۷:۲۰ ساعت چند می شود ؟

* یک ساعت و ربع بعد از ساعت ۱:۴۵ ساعت چند است ؟

۳) جمع و تفریق کن. $20 + 5 + 10 + 20 + 5 + 10 + 6 = \dots$ $9 \quad 6$ $8 \quad 2$ $5 \quad 7$

 ۸

 ۳ ۶

 ۲ ۹

$700 - 300 = \dots$

$80 - 30 = \dots$

.....

.....

.....

$20 + 40 = \dots$

$600 + 200 = \dots$

.....

.....

۴) نسترن در کیفش چهار سکه ی ۱۰۰ ریالی ، دو سکه ی ۱۰ ریالی و هشت سکه ی ۱ ریالی دارد . او چند ریال پول دارد ؟


با رقم : باحروف:

۳۶ - ۴۲ - ۴۸ - - - - - (۵) الگو های عددی را ادامه بده .

۱۸ - ۱۹ - ۲۱ - ۲۴ - - - - -

۳۶۵ - ۳۷۰ - ۳۷۵ - - - - -

۶) با یک برش شکل های زیر را به دو قسمت مساوی تقسیم کن .



۷) عدد داخل دایره به چه عددی نزدیک تر است ؟ اعداد مربوطه را بنویس و مربع درست را رنگ بزن

۳۶۰ ← (۳۶۷) → □ □ ← (۵۸۱) → □

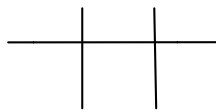
۸) رضا به پدرش در کارگاه نجاری کمک می کند. او در ماه گذشته ۱۸ میز ساخت و پدرش ۲۵ میز آنها چند میز ساخته اند ؟

.....

- اگر ۲۷ تایی آنها را بفروشند چند میز برایشان باقی می ماند ؟

.....

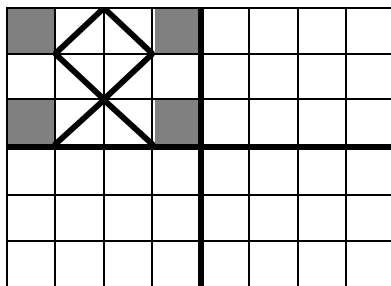
۹) یک عدد سه رقمی بنویس که ۵ صدتایی و ۷ ده تایی داشته باشد. (در جدول)



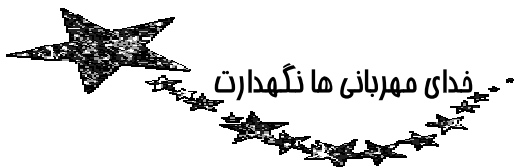
بارقم باحروف

حالا این عدد را در مربع قرار بده، ده تا ده تا بشمارو جاهای خالی را پر کن - - - -

۱۰) کاشی کاری را طوری کامل کن که ۴ قسمت شکل کاملاً مثل هم باشند .



نظر معلّم :





بسمه تعالی

دبستان هوشمند غیردولتی دخترانه گل بهار

تاریخ: ۱۳۹۴/۱۰/۰۷

نام و نام خانوادگی:

شماره آزمون: ۱۴

پایه: دوم

موضوع: ریاضی

۱ در الگوی زیر شکل پنجم از چند مربع تشکیل شده است؟.....



۲ با سه کارت که روی آن‌ها رقم‌های ۷ و ۰ و ۹ نوشته شده است، تمام عددهای سه رقمی را که می‌توان ساخت، درست کنید



چند عدد سه رقمی درست شد؟

۳ مقدار سکه های سارا را حساب کنید؟



۴ نیم ساعت بعد از ساعت ۴:۳۰ چه زمانی است؟

۵ به حروف بنویس.

.....۲۰۹

.....۴۵۷

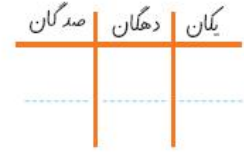

۶ به رقم بنویس.

.....چهارصد و ده

.....سیصد و چهل و هشت



۷ عددی را جدول و چرتکه نشان می دهد در جدول بنویس.



۷

۸ عددی هستیم سه رقمی رقم صدگان من ۸ و دهگان من ۲ و یکان من ۶ است. من چه عددی هستیم؟.....

۸

۹ در جاهای خالی عدد های مناسب قرار دهید.

۹

$۲۰ + ۵۰ = \dots$ $۳۰ + \dots = ۱۰۰$ $۱۰ + \dots = ۱۰۰$

۱۰ اگر فاطمه ۲۰۰ تا سکه ۱ ریالی به بانک تحویل دهد، بانک چند سکه ۱۰ ریالی به او می دهد؟.....

۱۰

۱۱ کوچکترین عدد سه رقمی و بزرگترین عدد سه رقمی است. (با تکرار ارقام)

۱۱

۱۲ دور رقم صدگان عدد ها خط بسته بکشید.

۱۲

۱۰۰ ۹۹۹ ۰۱۵ ۴۰۱ ۳۰۵ ۸۹۵

۱۳ مهنا باید ساعت یک ربع مانده ۶ در مدرسه حاضر باشد. این ساعت را روی شکل زیر بکشید.

۱۳

